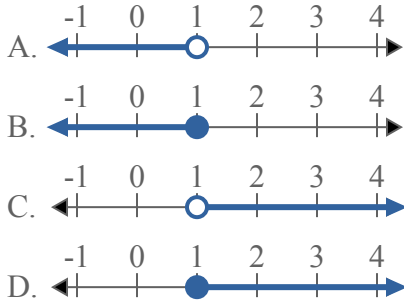




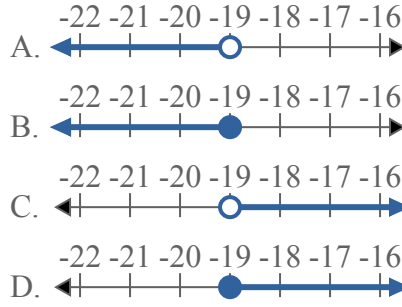
Решите каждую задачу.

ОТВЕТЫ

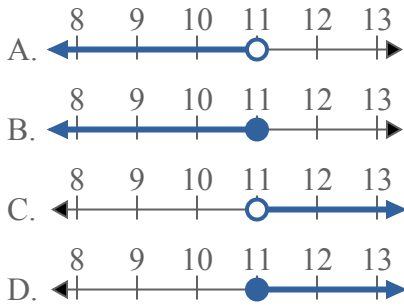
1) Какой вариант наиболее соответствует $X \leq 1$



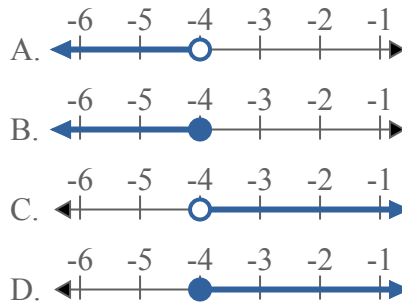
2) Какой вариант наиболее соответствует $X < -19$



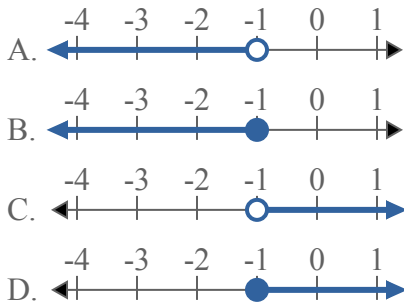
3) Какой вариант наиболее соответствует $X \geq 11$



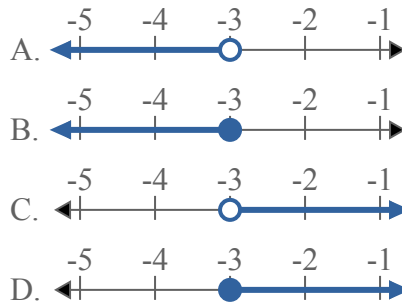
4) Какой вариант наиболее соответствует $X \geq -4$



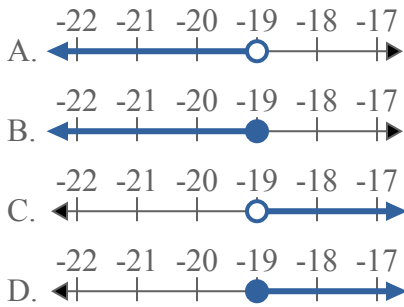
5) Какой вариант наиболее соответствует $X \geq -1$



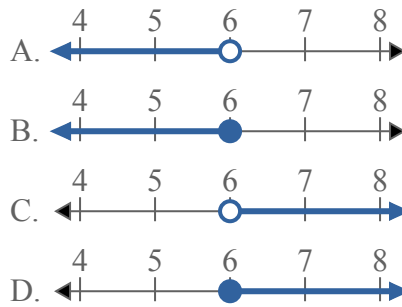
6) Какой вариант наиболее соответствует $X \leq -3$



7) Какой вариант наиболее соответствует $X > -19$



8) Какой вариант наиболее соответствует $X > 6$

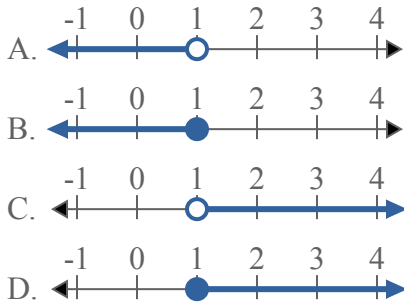


- 1. _____
- 2. _____
- 3. _____
- 4. _____
- 5. _____
- 6. _____
- 7. _____
- 8. _____

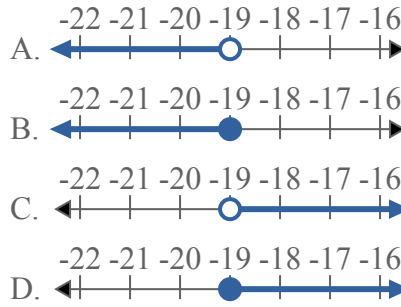


Решите каждую задачу.

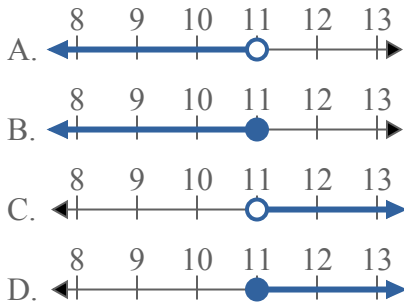
1) Какой вариант наиболее соответствует $X \leq 1$



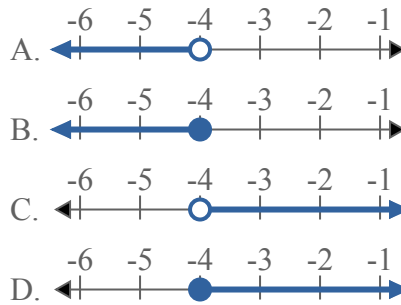
2) Какой вариант наиболее соответствует $X < -19$



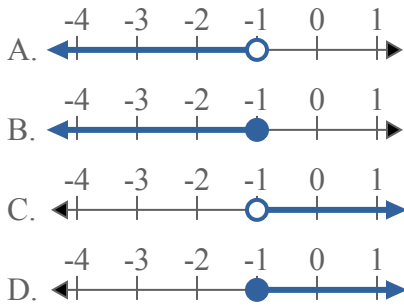
3) Какой вариант наиболее соответствует $X \geq 11$



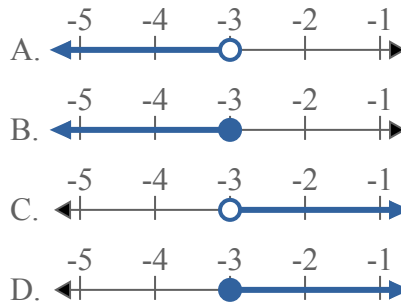
4) Какой вариант наиболее соответствует $X \geq -4$



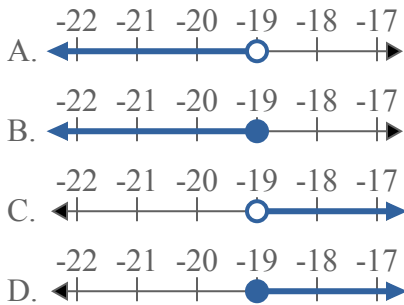
5) Какой вариант наиболее соответствует $X \geq -1$



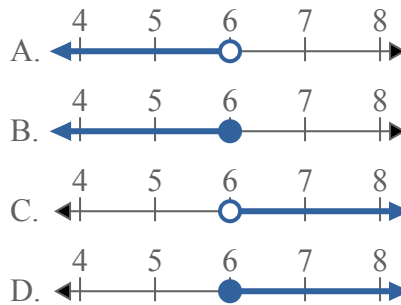
6) Какой вариант наиболее соответствует $X \leq -3$



7) Какой вариант наиболее соответствует $X > -19$



8) Какой вариант наиболее соответствует $X > 6$



ОТВЕТЫ

1. **B**
2. **A**
3. **D**
4. **D**
5. **D**
6. **B**
7. **C**
8. **C**