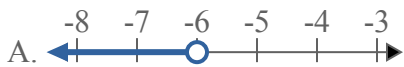




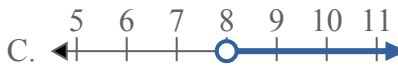
Решите каждую задачу.

**ОТВЕТЫ**

1) Какой вариант наиболее соответствует  $X < -6$



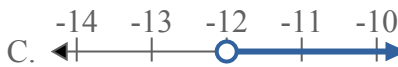
2) Какой вариант наиболее соответствует  $X < 8$



3) Какой вариант наиболее соответствует  $X \leq 5$



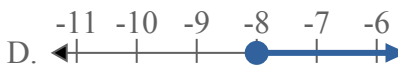
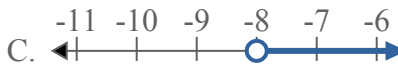
4) Какой вариант наиболее соответствует  $X \geq -12$



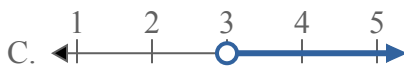
5) Какой вариант наиболее соответствует  $X \geq -18$



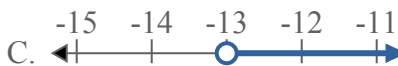
6) Какой вариант наиболее соответствует  $X \geq -8$



7) Какой вариант наиболее соответствует  $X < 3$



8) Какой вариант наиболее соответствует  $X < -13$



1. \_\_\_\_\_

2. \_\_\_\_\_

3. \_\_\_\_\_

4. \_\_\_\_\_

5. \_\_\_\_\_

6. \_\_\_\_\_

7. \_\_\_\_\_

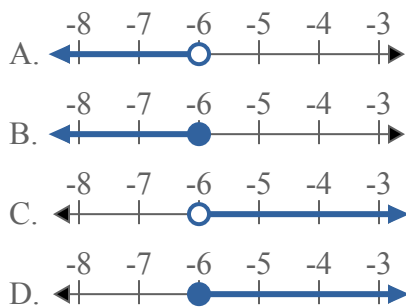
8. \_\_\_\_\_



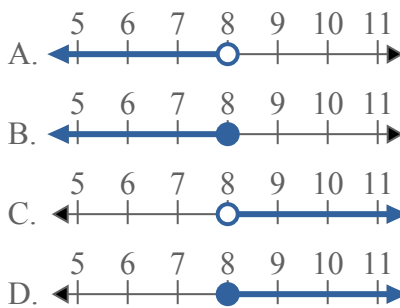
Решите каждую задачу.

**ОТВЕТЫ**

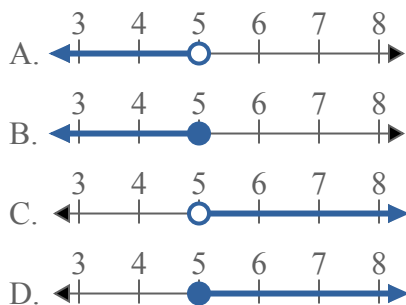
1) Какой вариант наиболее соответствует  $X < -6$



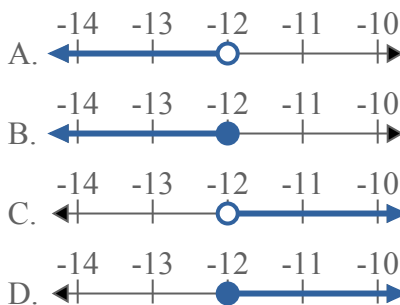
2) Какой вариант наиболее соответствует  $X < 8$



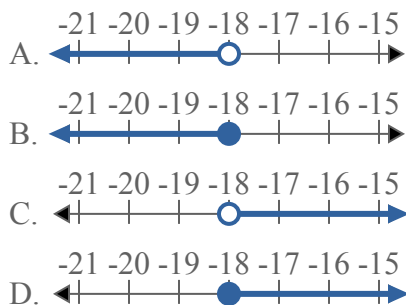
3) Какой вариант наиболее соответствует  $X \leq 5$



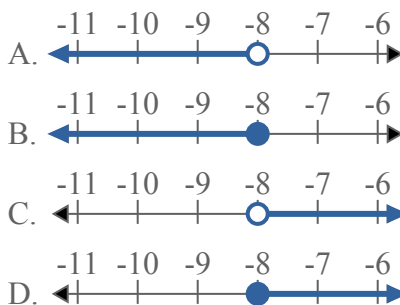
4) Какой вариант наиболее соответствует  $X \geq -12$



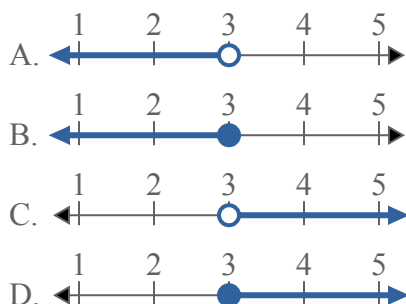
5) Какой вариант наиболее соответствует  $X \geq -18$



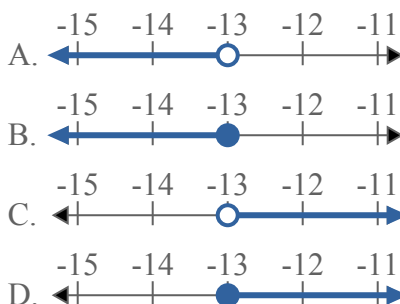
6) Какой вариант наиболее соответствует  $X \geq -8$



7) Какой вариант наиболее соответствует  $X < 3$



8) Какой вариант наиболее соответствует  $X < -13$



1.     **A**
2.     **A**
3.     **B**
4.     **D**
5.     **D**
6.     **D**
7.     **A**
8.     **A**