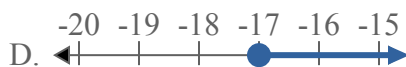
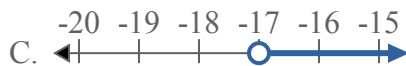




Решите каждую задачу.

ОТВЕТЫ

1) Какой вариант наиболее соответствует $X < -17$



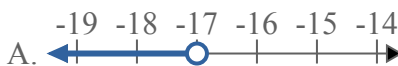
2) Какой вариант наиболее соответствует $X \leq 20$




3) Какой вариант наиболее соответствует $X \geq 12$



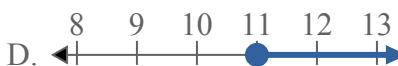
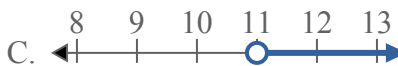
4) Какой вариант наиболее соответствует $X \geq -17$



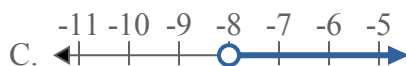
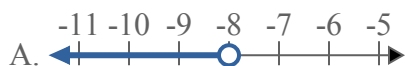
5) Какой вариант наиболее соответствует $X \geq 6$



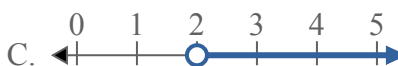
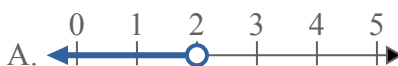
6) Какой вариант наиболее соответствует $X \leq 11$



7) Какой вариант наиболее соответствует $X \leq -8$



8) Какой вариант наиболее соответствует $X > 2$



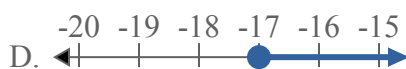
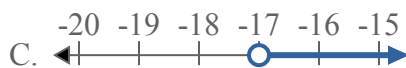
1. _____
2. _____
3. _____
4. _____
5. _____
6. _____
7. _____
8. _____



Решите каждую задачу.

ОТВЕТЫ


1) Какой вариант наиболее соответствует $X < -17$



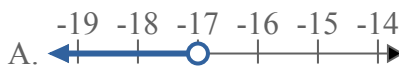
2) Какой вариант наиболее соответствует $X \leq 20$




3) Какой вариант наиболее соответствует $X \geq 12$



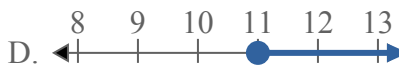
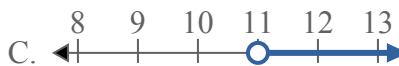
4) Какой вариант наиболее соответствует $X \geq -17$



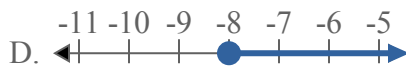
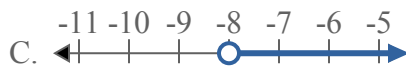
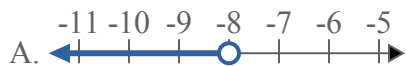
5) Какой вариант наиболее соответствует $X \geq 6$



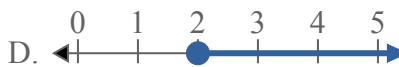
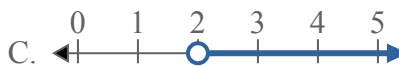
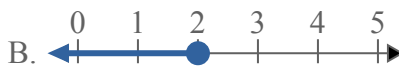
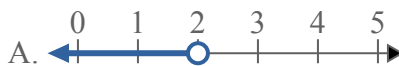
6) Какой вариант наиболее соответствует $X \leq 11$



7) Какой вариант наиболее соответствует $X \leq -8$



8) Какой вариант наиболее соответствует $X > 2$



1. **A**

2. **B**

3. **D**

4. **D**

5. **D**

6. **B**

7. **B**

8. **C**