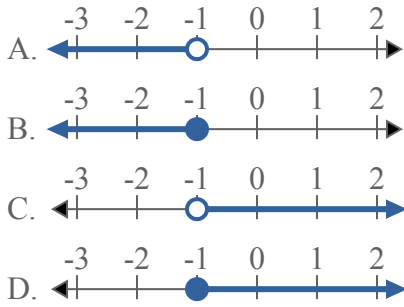




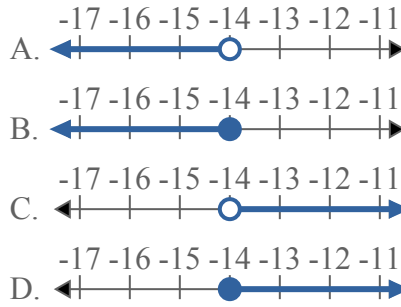
Решите каждую задачу.

ОТВЕТЫ

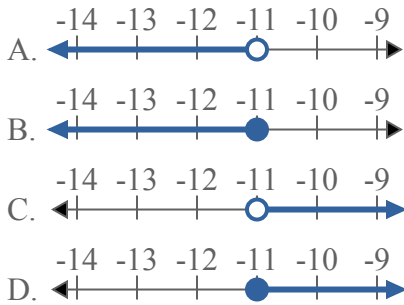
1) Какой вариант наиболее соответствует $X > -1$



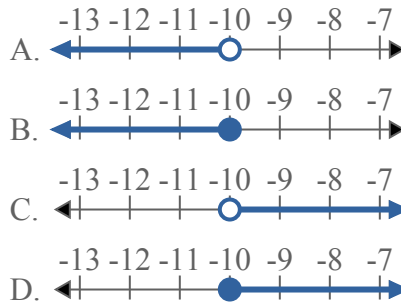
2) Какой вариант наиболее соответствует $X < -14$



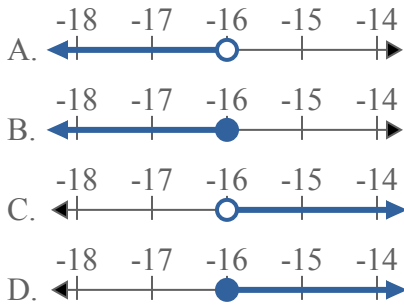
3) Какой вариант наиболее соответствует $X \leq -11$



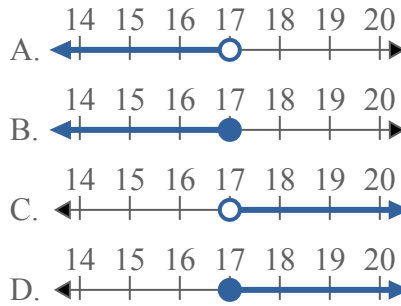
4) Какой вариант наиболее соответствует $X < -10$



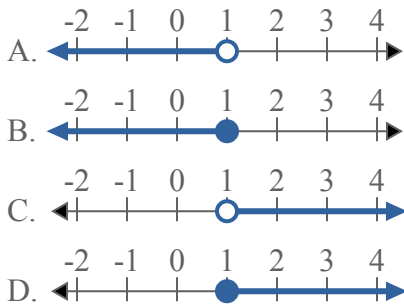
5) Какой вариант наиболее соответствует $X \leq -16$



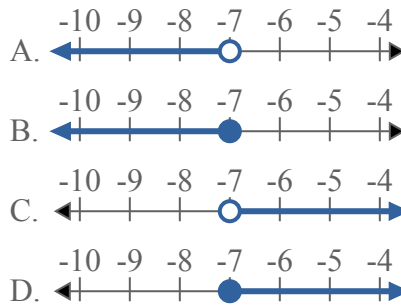
6) Какой вариант наиболее соответствует $X > 17$



7) Какой вариант наиболее соответствует $X > 1$



8) Какой вариант наиболее соответствует $X > -7$

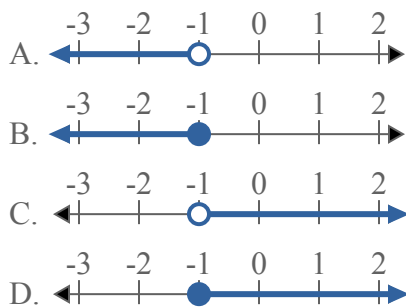


1. _____
2. _____
3. _____
4. _____
5. _____
6. _____
7. _____
8. _____

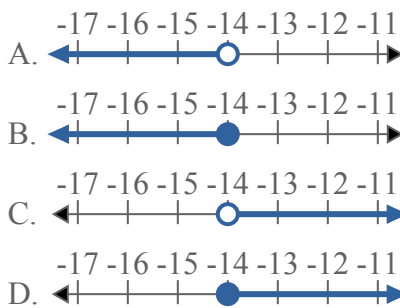


Решите каждую задачу.

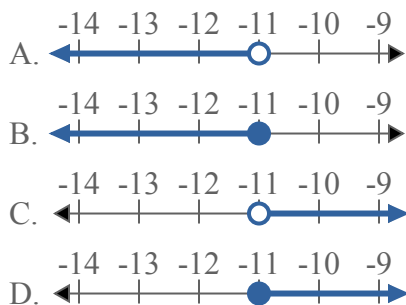
1) Какой вариант наиболее соответствует $X > -1$



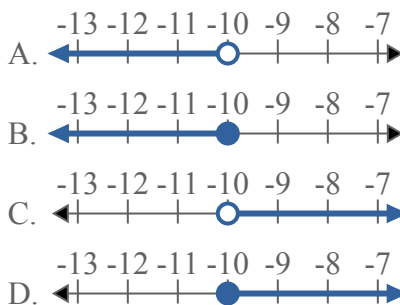
2) Какой вариант наиболее соответствует $X < -14$



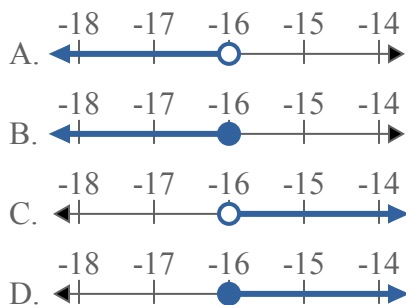
3) Какой вариант наиболее соответствует $X \leq -11$



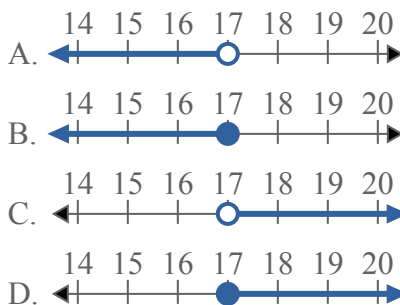
4) Какой вариант наиболее соответствует $X < -10$



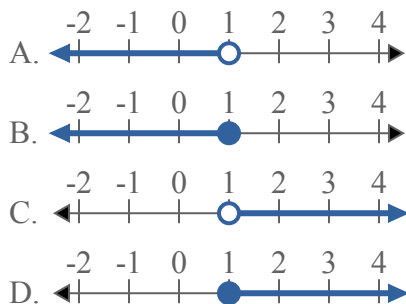
5) Какой вариант наиболее соответствует $X \leq -16$



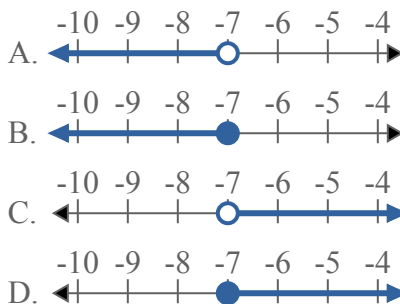
6) Какой вариант наиболее соответствует $X > 17$



7) Какой вариант наиболее соответствует $X > 1$



8) Какой вариант наиболее соответствует $X > -7$



ОТВЕТЫ

1. **C**
2. **A**
3. **B**
4. **A**
5. **B**
6. **C**
7. **C**
8. **C**