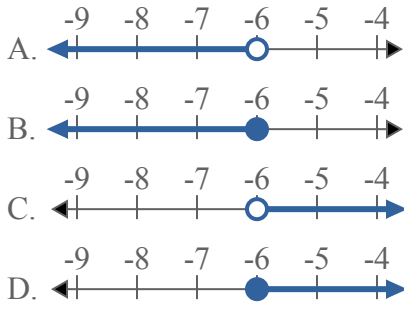




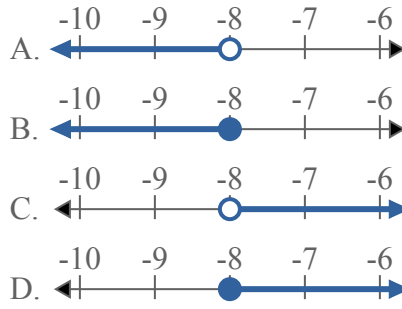
Решите каждую задачу.

ОТВЕТЫ

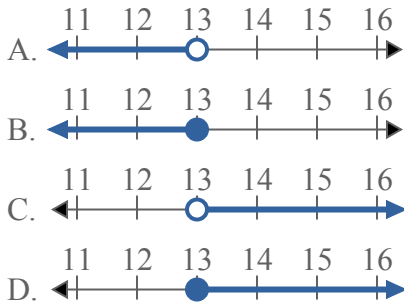
1) Какой вариант наиболее соответствует $X \leq -6$



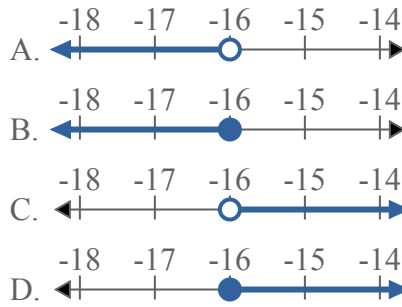
2) Какой вариант наиболее соответствует $X > -8$



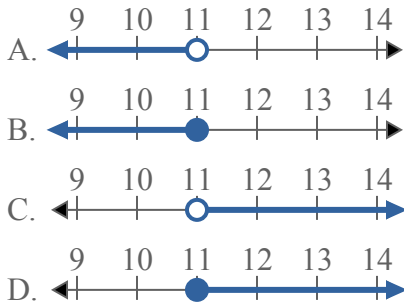
3) Какой вариант наиболее соответствует $X < 13$



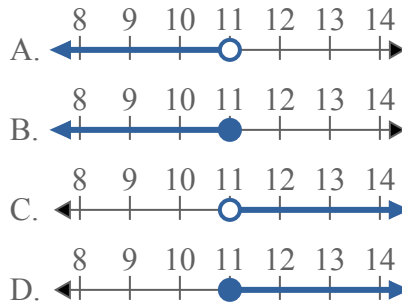
4) Какой вариант наиболее соответствует $X < -16$



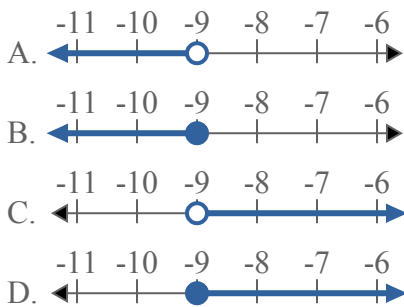
5) Какой вариант наиболее соответствует $X \leq 11$



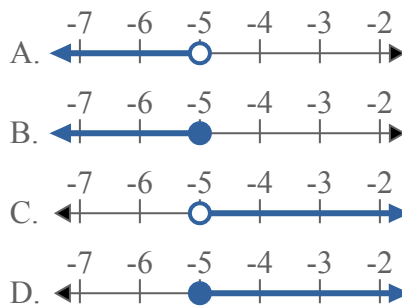
6) Какой вариант наиболее соответствует $X \geq 11$



7) Какой вариант наиболее соответствует $X > -9$



8) Какой вариант наиболее соответствует $X \geq -5$

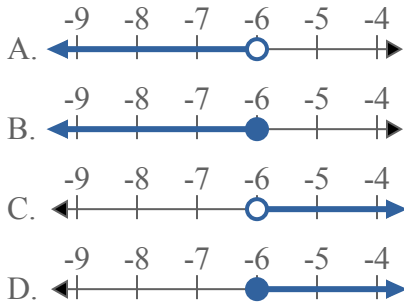


1. _____
2. _____
3. _____
4. _____
5. _____
6. _____
7. _____
8. _____

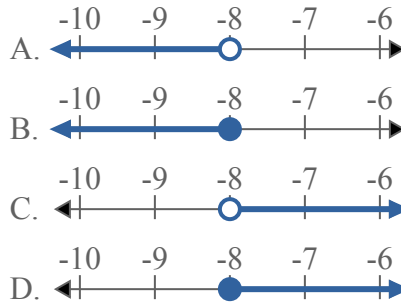


Решите каждую задачу.

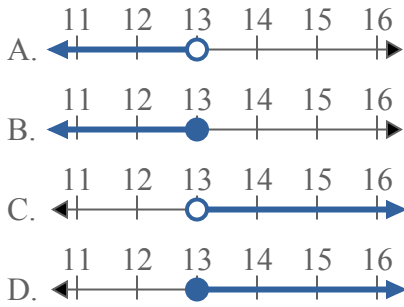
1) Какой вариант наиболее соответствует $X \leq -6$



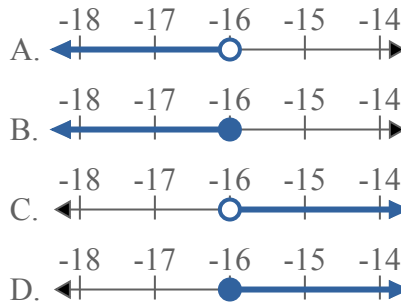
2) Какой вариант наиболее соответствует $X > -8$



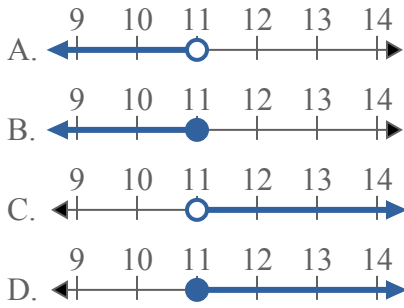
3) Какой вариант наиболее соответствует $X < 13$



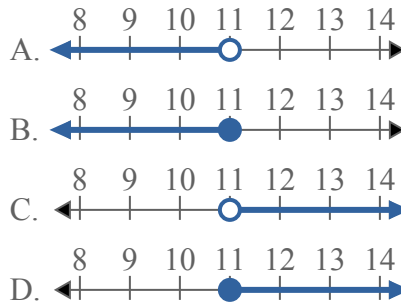
4) Какой вариант наиболее соответствует $X < -16$



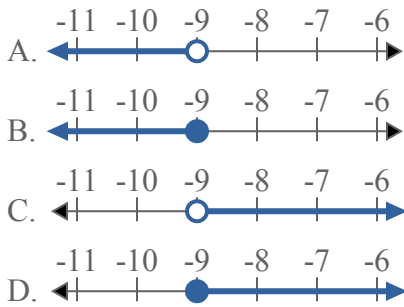
5) Какой вариант наиболее соответствует $X \leq 11$



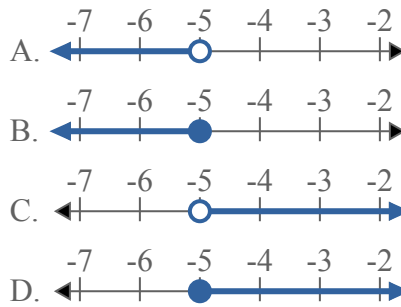
6) Какой вариант наиболее соответствует $X \geq 11$



7) Какой вариант наиболее соответствует $X > -9$



8) Какой вариант наиболее соответствует $X \geq -5$



ОТВЕТЫ

1. **B**
2. **C**
3. **A**
4. **A**
5. **B**
6. **D**
7. **C**
8. **D**