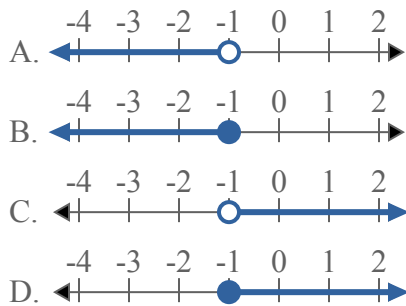




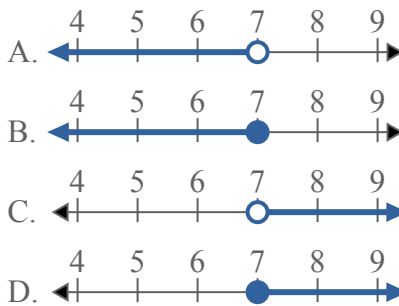
Решите каждую задачу.

**ОТВЕТЫ**

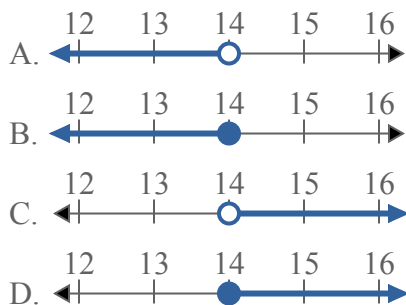
1) Какой вариант наиболее соответствует  $X \geq -1$



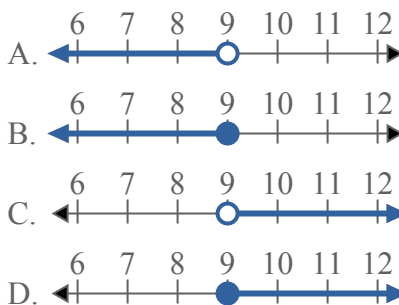
2) Какой вариант наиболее соответствует  $X \leq 7$



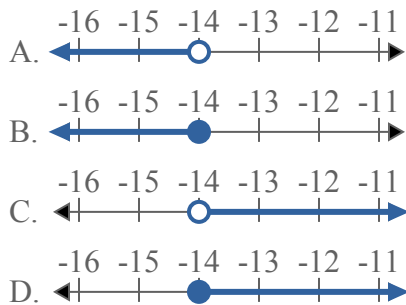
3) Какой вариант наиболее соответствует  $X > 14$



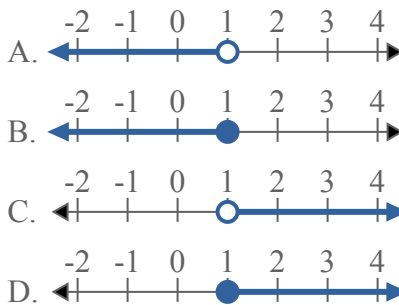
4) Какой вариант наиболее соответствует  $X > 9$



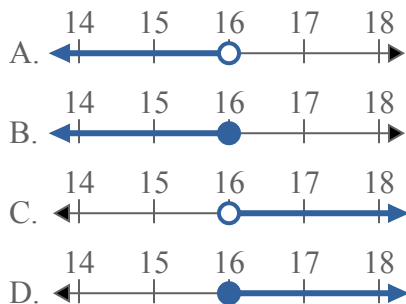
5) Какой вариант наиболее соответствует  $X < -14$



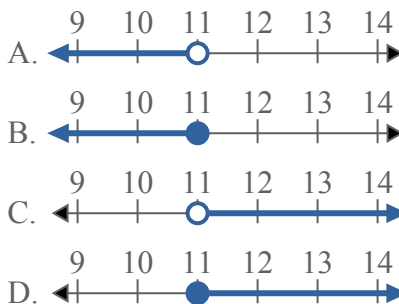
6) Какой вариант наиболее соответствует  $X \geq 1$



7) Какой вариант наиболее соответствует  $X \leq 16$



8) Какой вариант наиболее соответствует  $X \leq 11$

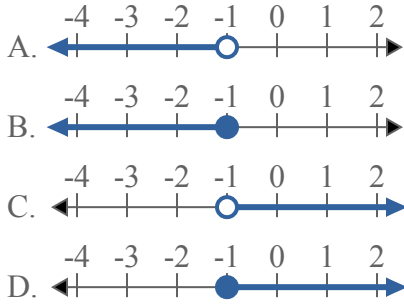


1. \_\_\_\_\_
2. \_\_\_\_\_
3. \_\_\_\_\_
4. \_\_\_\_\_
5. \_\_\_\_\_
6. \_\_\_\_\_
7. \_\_\_\_\_
8. \_\_\_\_\_

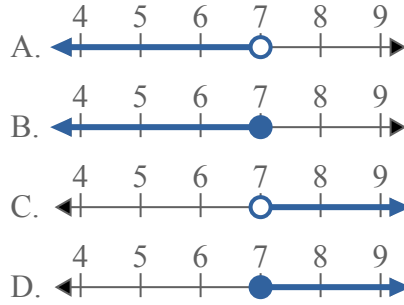


Решите каждую задачу.

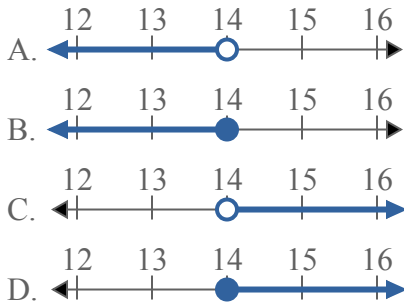
1) Какой вариант наиболее соответствует  $X \geq -1$



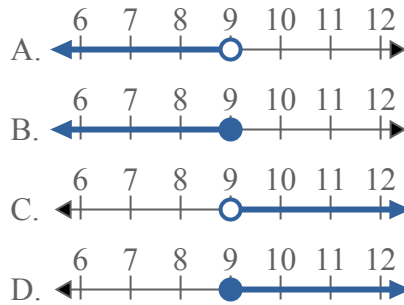
2) Какой вариант наиболее соответствует  $X \leq 7$



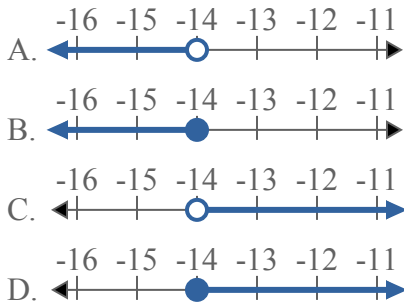
3) Какой вариант наиболее соответствует  $X > 14$



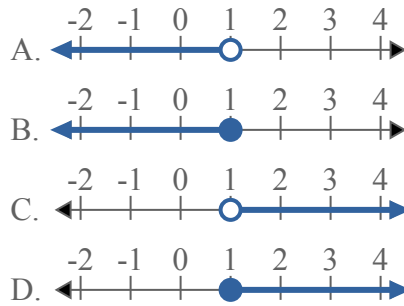
4) Какой вариант наиболее соответствует  $X > 9$



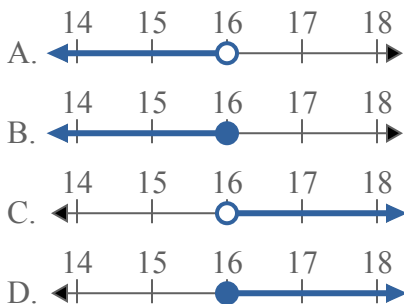
5) Какой вариант наиболее соответствует  $X < -14$



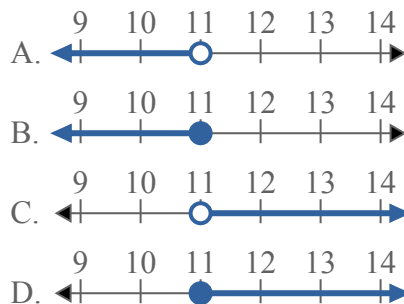
6) Какой вариант наиболее соответствует  $X \geq 1$



7) Какой вариант наиболее соответствует  $X \leq 16$



8) Какой вариант наиболее соответствует  $X \leq 11$



**ОТВЕТЫ**

1.     **D**
2.     **B**
3.     **C**
4.     **C**
5.     **A**
6.     **D**
7.     **B**
8.     **B**