



Решите каждую задачу.

ОТВЕТЫ

1) Какой вариант наиболее соответствует $X > -5$



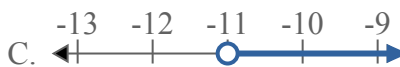
2) Какой вариант наиболее соответствует $X \geq 12$



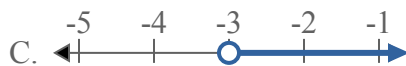
3) Какой вариант наиболее соответствует $X \leq 20$



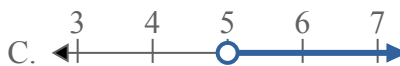
4) Какой вариант наиболее соответствует $X \geq -11$



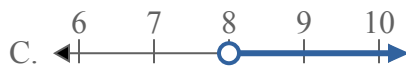
5) Какой вариант наиболее соответствует $X > -3$



6) Какой вариант наиболее соответствует $X \geq 5$



7) Какой вариант наиболее соответствует $X \leq 8$



8) Какой вариант наиболее соответствует $X \leq -13$

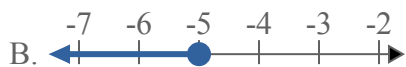


1. _____
2. _____
3. _____
4. _____
5. _____
6. _____
7. _____
8. _____




Решите каждую задачу.

1) Какой вариант наиболее соответствует $X > -5$



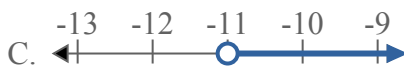
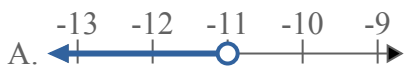
2) Какой вариант наиболее соответствует $X \geq 12$



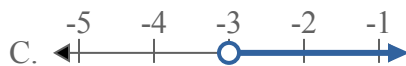
3) Какой вариант наиболее соответствует $X \leq 20$



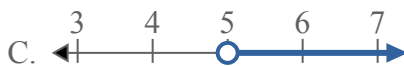
4) Какой вариант наиболее соответствует $X \geq -11$



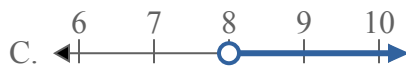
5) Какой вариант наиболее соответствует $X > -3$



6) Какой вариант наиболее соответствует $X \geq 5$



7) Какой вариант наиболее соответствует $X \leq 8$



8) Какой вариант наиболее соответствует $X \leq -13$



ОТВЕТЫ

1. **C**

2. **D**

3. **B**

4. **D**

5. **C**

6. **C**

7. **B**

8. **B**