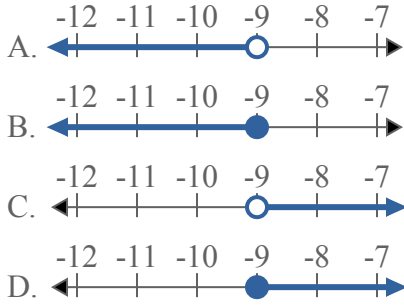




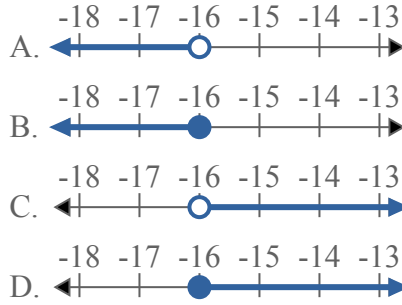
Решите каждую задачу.

ОТВЕТЫ

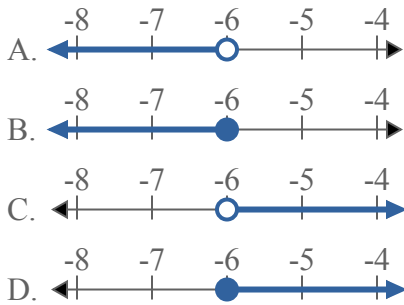
1) Какой вариант наиболее соответствует $X < -9$



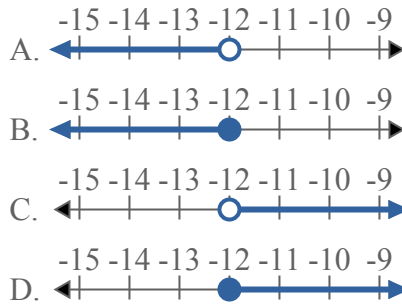
2) Какой вариант наиболее соответствует $X \leq -16$



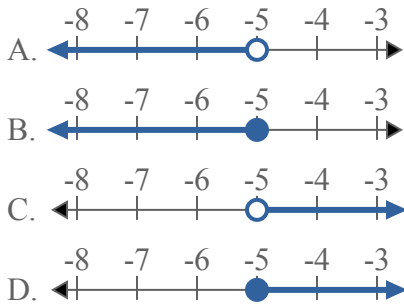
3) Какой вариант наиболее соответствует $X \geq -6$



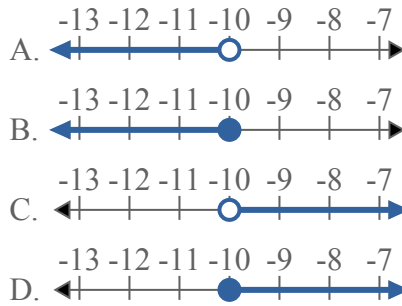
4) Какой вариант наиболее соответствует $X > -12$



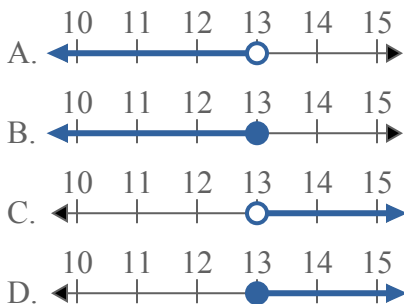
5) Какой вариант наиболее соответствует $X \leq -5$



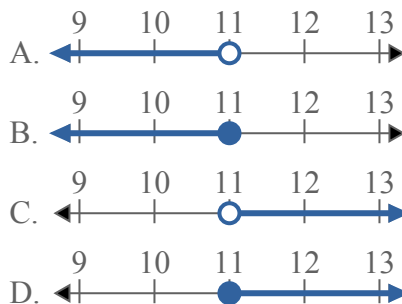
6) Какой вариант наиболее соответствует $X < -10$



7) Какой вариант наиболее соответствует $X > 13$



8) Какой вариант наиболее соответствует $X < 11$

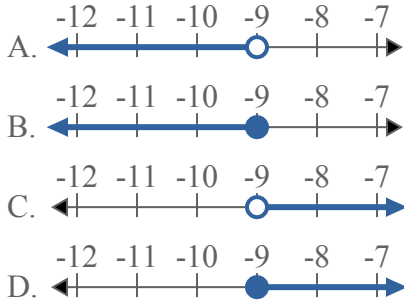


1. _____
2. _____
3. _____
4. _____
5. _____
6. _____
7. _____
8. _____

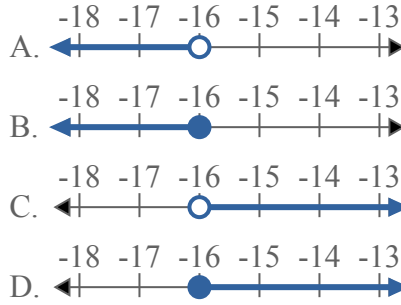


Решите каждую задачу.

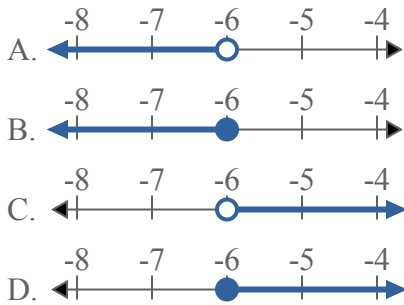
1) Какой вариант наиболее соответствует $X < -9$



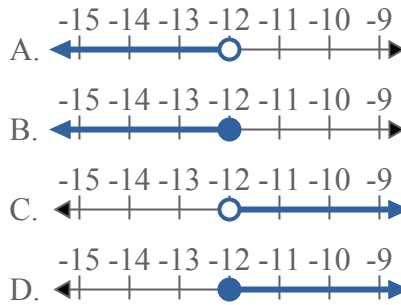
2) Какой вариант наиболее соответствует $X \leq -16$



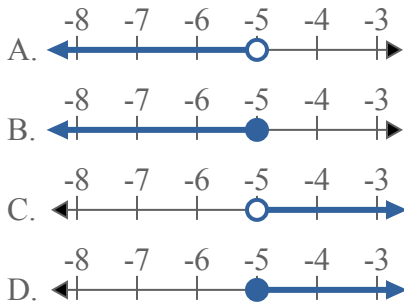
3) Какой вариант наиболее соответствует $X \geq -6$



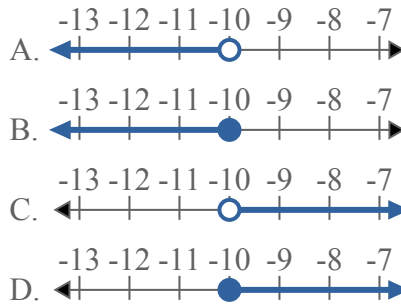
4) Какой вариант наиболее соответствует $X > -12$



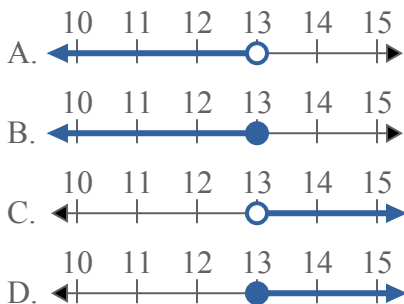
5) Какой вариант наиболее соответствует $X \leq -5$



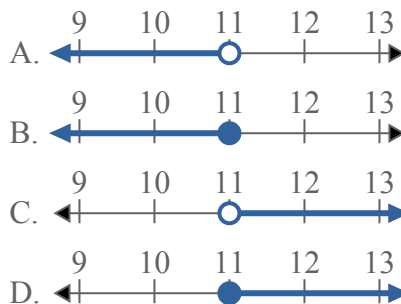
6) Какой вариант наиболее соответствует $X < -10$



7) Какой вариант наиболее соответствует $X > 13$



8) Какой вариант наиболее соответствует $X < 11$



ОТВЕТЫ

1. **A**
2. **B**
3. **D**
4. **C**
5. **B**
6. **A**
7. **C**
8. **A**