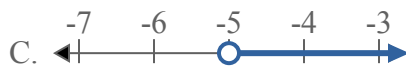




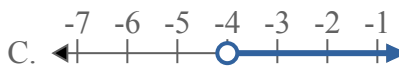
Решите каждую задачу.

ОТВЕТЫ

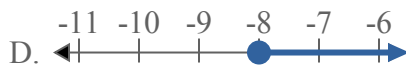
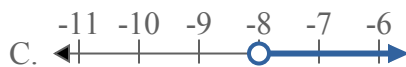
1) Какой вариант наиболее соответствует $X < -5$



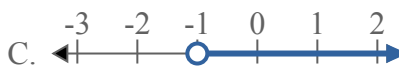
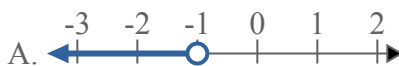
2) Какой вариант наиболее соответствует $X < -4$



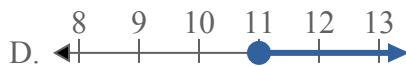
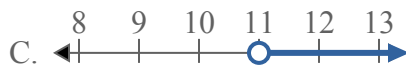
3) Какой вариант наиболее соответствует $X < -8$



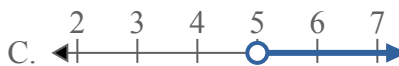
4) Какой вариант наиболее соответствует $X < -1$



5) Какой вариант наиболее соответствует $X \geq 11$



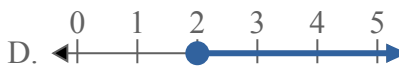
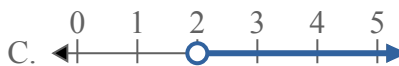
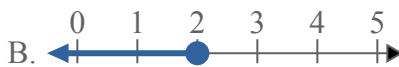
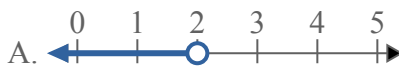
6) Какой вариант наиболее соответствует $X \geq 5$



7) Какой вариант наиболее соответствует $X \geq 13$



8) Какой вариант наиболее соответствует $X < 2$

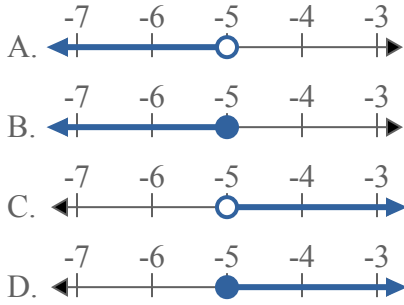


1. _____
2. _____
3. _____
4. _____
5. _____
6. _____
7. _____
8. _____

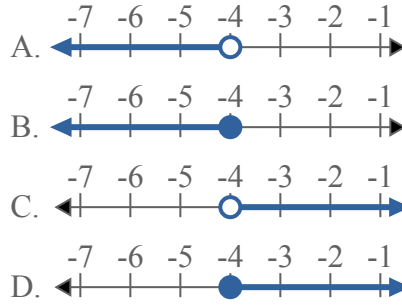


Решите каждую задачу.

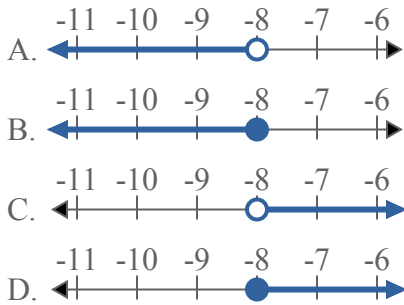
1) Какой вариант наиболее соответствует $X < -5$



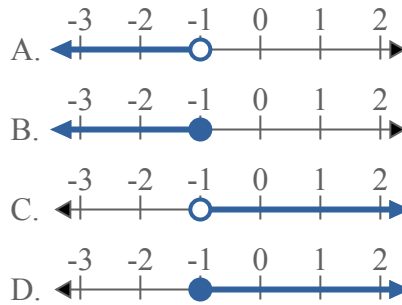
2) Какой вариант наиболее соответствует $X < -4$



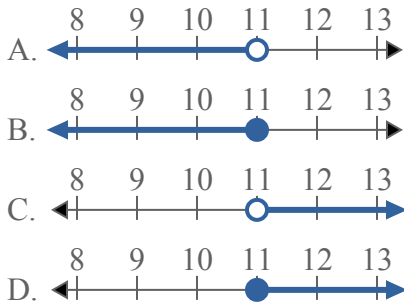
3) Какой вариант наиболее соответствует $X < -8$



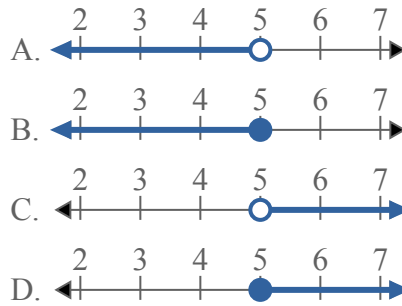
4) Какой вариант наиболее соответствует $X < -1$



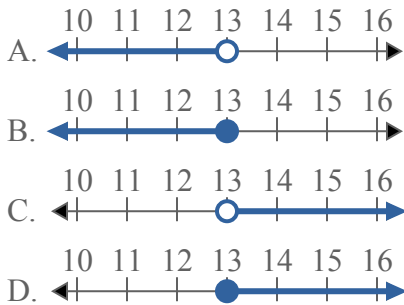
5) Какой вариант наиболее соответствует $X \geq 11$



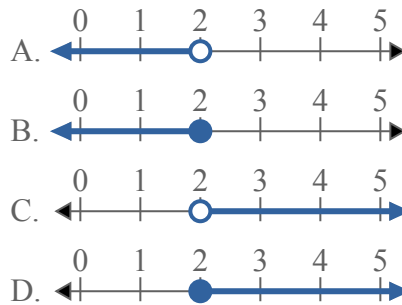
6) Какой вариант наиболее соответствует $X \geq 5$



7) Какой вариант наиболее соответствует $X \geq 13$



8) Какой вариант наиболее соответствует $X < 2$



ОТВЕТЫ

1. **A**
2. **A**
3. **A**
4. **A**
5. **D**
6. **D**
7. **D**
8. **A**



Решите каждую задачу.

ОТВЕТЫ

1) Какой вариант наиболее соответствует $X < -6$



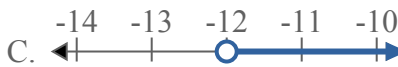
2) Какой вариант наиболее соответствует $X < 8$



3) Какой вариант наиболее соответствует $X \leq 5$



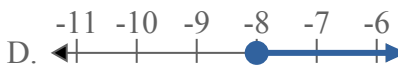
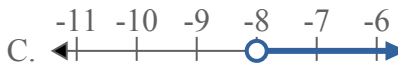
4) Какой вариант наиболее соответствует $X \geq -12$



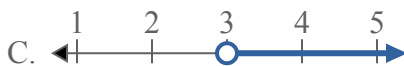
5) Какой вариант наиболее соответствует $X \geq -18$



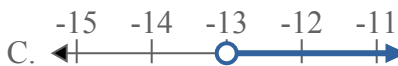
6) Какой вариант наиболее соответствует $X \geq -8$



7) Какой вариант наиболее соответствует $X < 3$



8) Какой вариант наиболее соответствует $X < -13$



1. _____

2. _____

3. _____

4. _____

5. _____

6. _____

7. _____

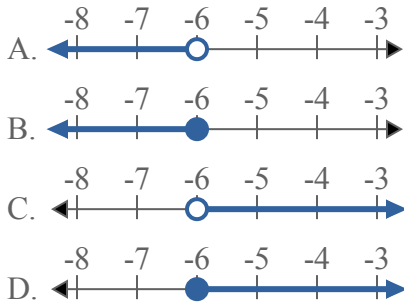
8. _____



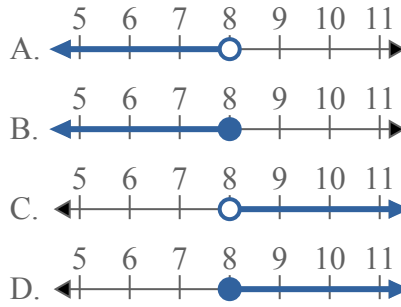
Решите каждую задачу.

ОТВЕТЫ

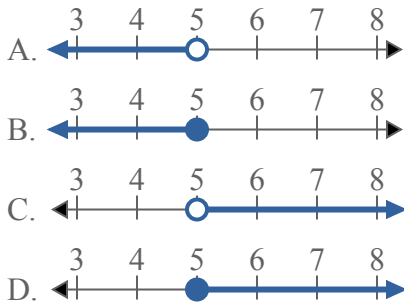
1) Какой вариант наиболее соответствует $X < -6$



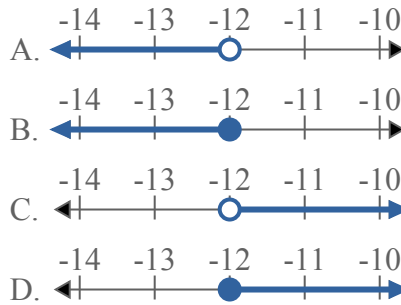
2) Какой вариант наиболее соответствует $X < 8$



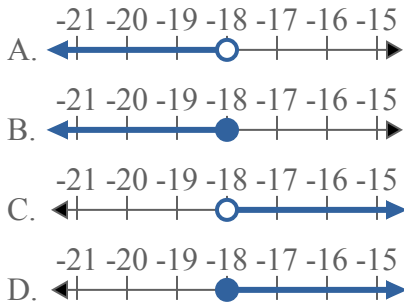
3) Какой вариант наиболее соответствует $X \leq 5$



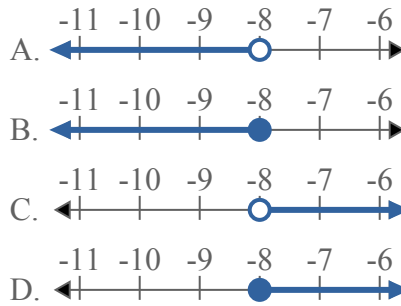
4) Какой вариант наиболее соответствует $X \geq -12$



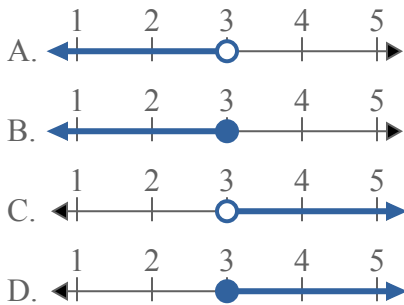
5) Какой вариант наиболее соответствует $X \geq -18$



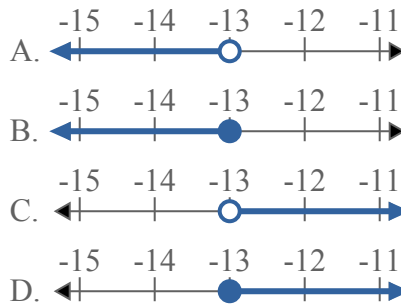
6) Какой вариант наиболее соответствует $X \geq -8$



7) Какой вариант наиболее соответствует $X < 3$



8) Какой вариант наиболее соответствует $X < -13$



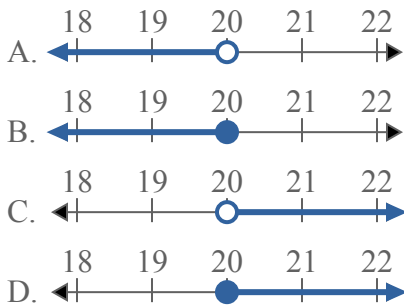
1. **A**
2. **A**
3. **B**
4. **D**
5. **D**
6. **D**
7. **A**
8. **A**



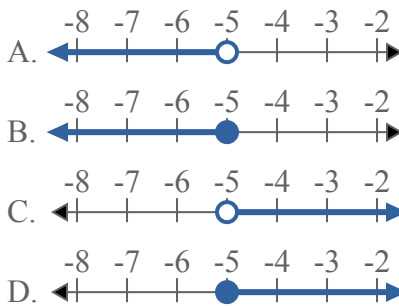
Решите каждую задачу.

ОТВЕТЫ

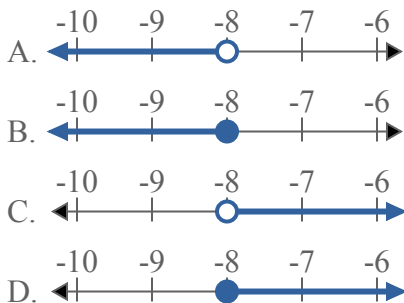
1) Какой вариант наиболее соответствует $X < 20$



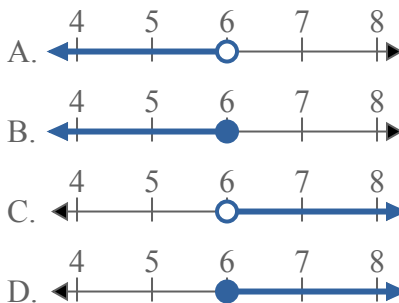
2) Какой вариант наиболее соответствует $X \geq -5$



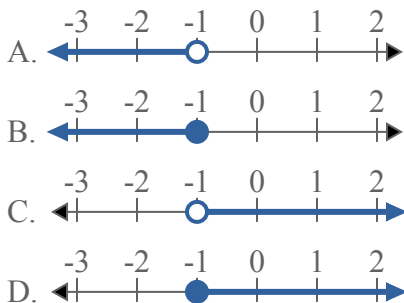
3) Какой вариант наиболее соответствует $X \leq -8$



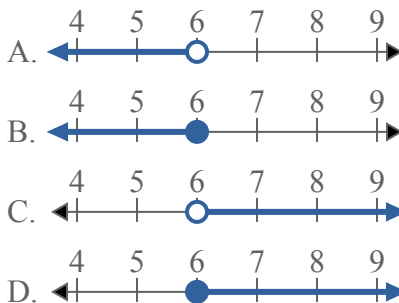
4) Какой вариант наиболее соответствует $X \geq 6$



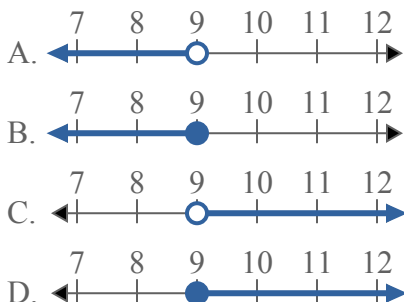
5) Какой вариант наиболее соответствует $X > -1$



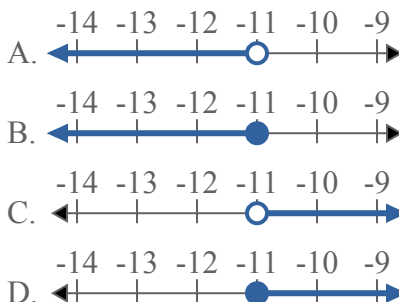
6) Какой вариант наиболее соответствует $X \leq 6$



7) Какой вариант наиболее соответствует $X < 9$



8) Какой вариант наиболее соответствует $X \leq -11$

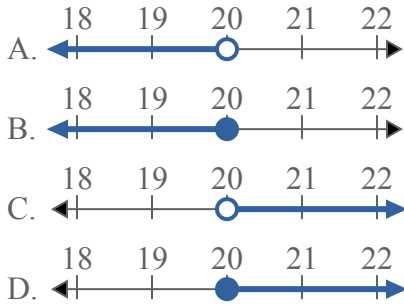


1. _____
2. _____
3. _____
4. _____
5. _____
6. _____
7. _____
8. _____

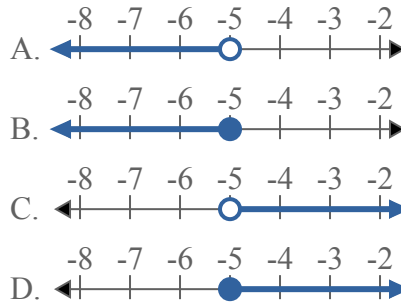


Решите каждую задачу.

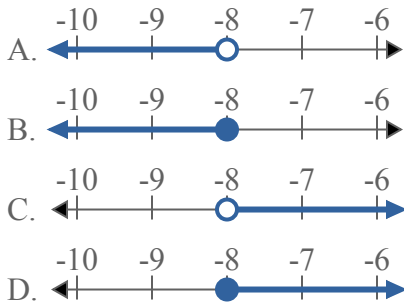
1) Какой вариант наиболее соответствует $X < 20$



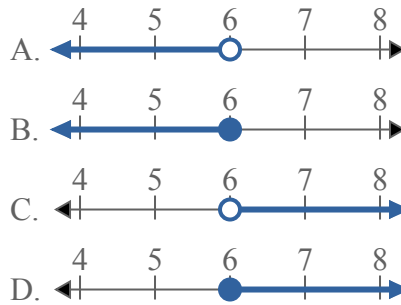
2) Какой вариант наиболее соответствует $X \geq -5$



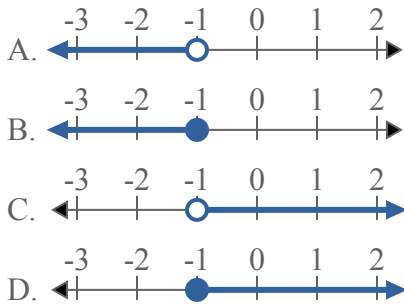
3) Какой вариант наиболее соответствует $X \leq -8$



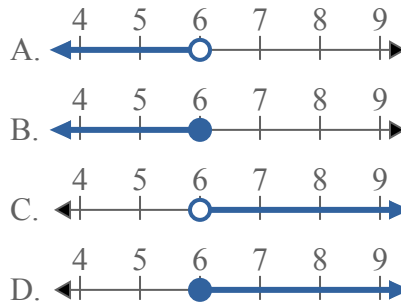
4) Какой вариант наиболее соответствует $X \geq 6$



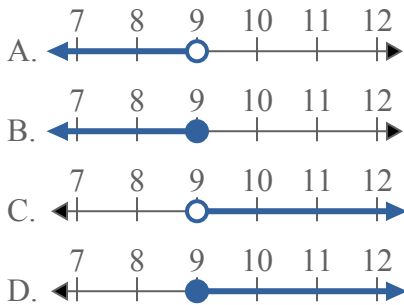
5) Какой вариант наиболее соответствует $X > -1$



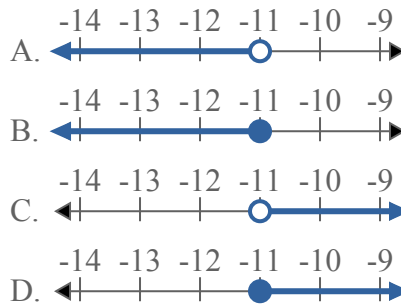
6) Какой вариант наиболее соответствует $X \leq 6$



7) Какой вариант наиболее соответствует $X < 9$



8) Какой вариант наиболее соответствует $X \leq -11$



ОТВЕТЫ

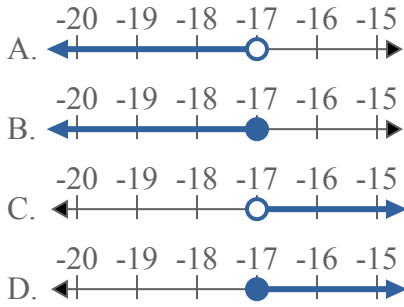
1. **A**
2. **D**
3. **B**
4. **D**
5. **C**
6. **B**
7. **A**
8. **B**



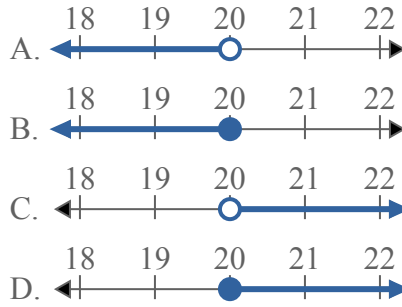
Решите каждую задачу.

ОТВЕТЫ

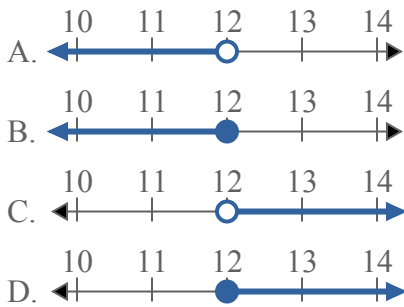
1) Какой вариант наиболее соответствует $X < -17$



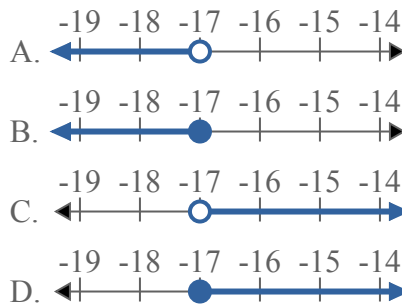
2) Какой вариант наиболее соответствует $X \leq 20$



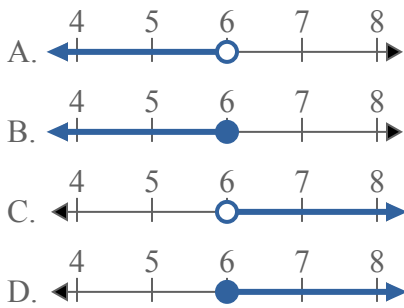
3) Какой вариант наиболее соответствует $X \geq 12$



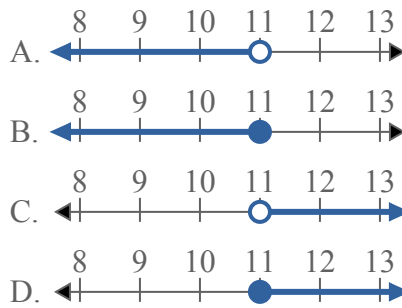
4) Какой вариант наиболее соответствует $X \geq -17$



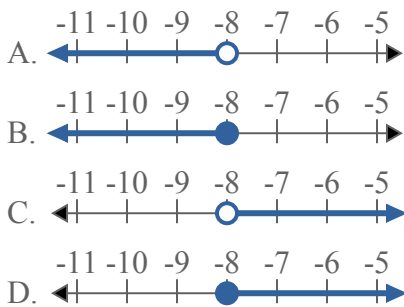
5) Какой вариант наиболее соответствует $X \geq 6$



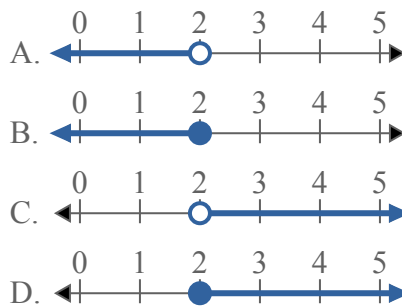
6) Какой вариант наиболее соответствует $X \leq 11$



7) Какой вариант наиболее соответствует $X \leq -8$



8) Какой вариант наиболее соответствует $X > 2$

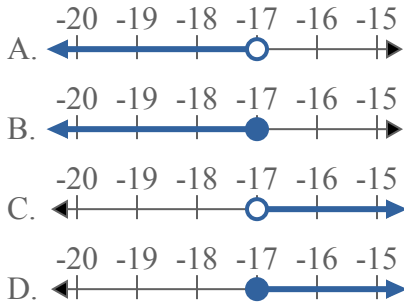


1. _____
2. _____
3. _____
4. _____
5. _____
6. _____
7. _____
8. _____

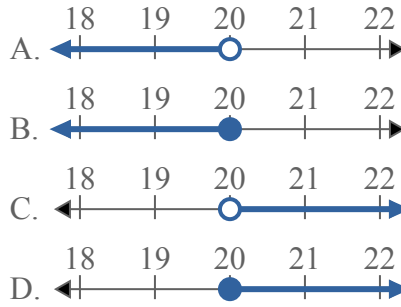


Решите каждую задачу.

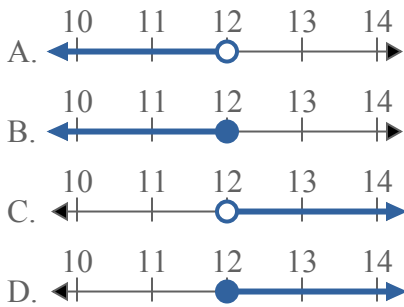
1) Какой вариант наиболее соответствует $X < -17$



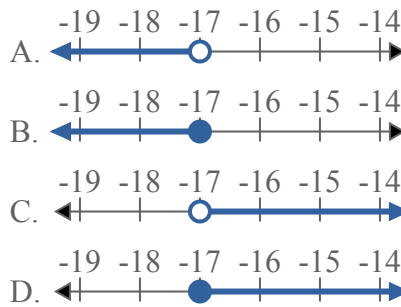
2) Какой вариант наиболее соответствует $X \leq 20$



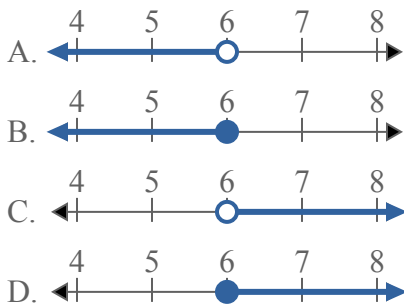
3) Какой вариант наиболее соответствует $X \geq 12$



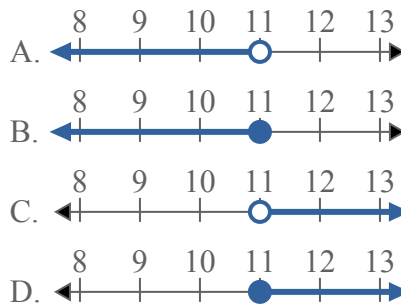
4) Какой вариант наиболее соответствует $X \geq -17$



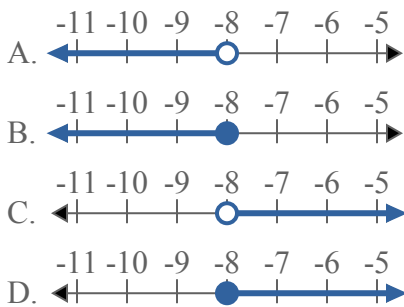
5) Какой вариант наиболее соответствует $X \geq 6$



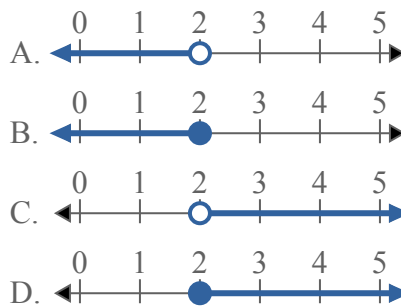
6) Какой вариант наиболее соответствует $X \leq 11$



7) Какой вариант наиболее соответствует $X \leq -8$



8) Какой вариант наиболее соответствует $X > 2$



ОТВЕТЫ

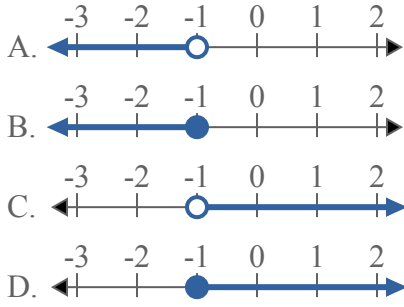
1. **A**
2. **B**
3. **D**
4. **D**
5. **D**
6. **B**
7. **B**
8. **C**



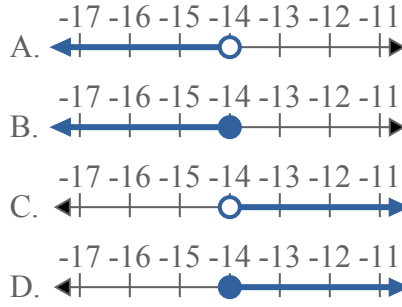
Решите каждую задачу.

ОТВЕТЫ

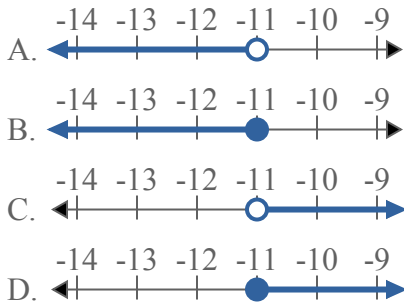
1) Какой вариант наиболее соответствует $X > -1$



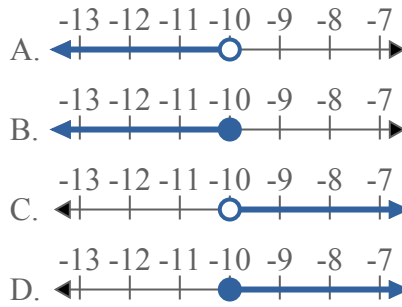
2) Какой вариант наиболее соответствует $X < -14$



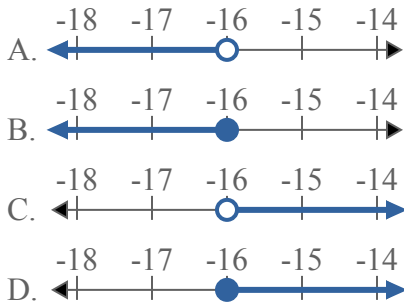
3) Какой вариант наиболее соответствует $X \leq -11$



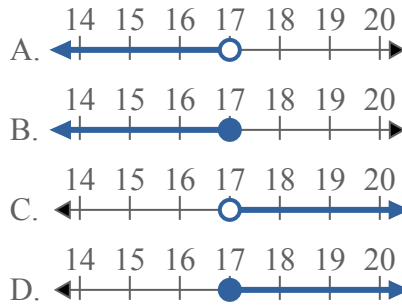
4) Какой вариант наиболее соответствует $X < -10$



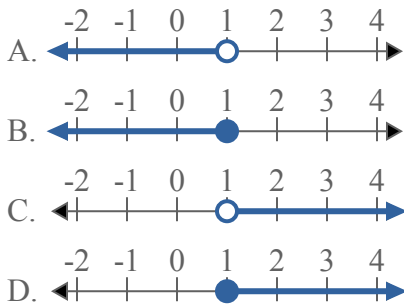
5) Какой вариант наиболее соответствует $X \leq -16$



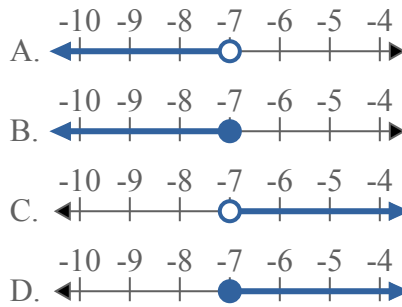
6) Какой вариант наиболее соответствует $X > 17$



7) Какой вариант наиболее соответствует $X > 1$



8) Какой вариант наиболее соответствует $X > -7$

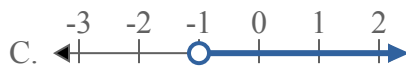
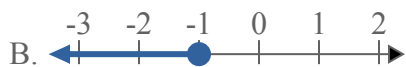
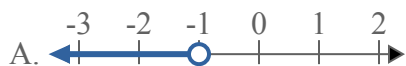


1. _____
2. _____
3. _____
4. _____
5. _____
6. _____
7. _____
8. _____

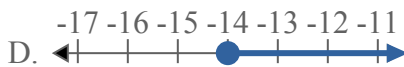
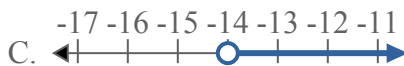
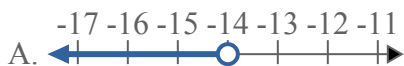


Решите каждую задачу.

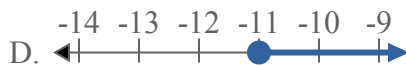
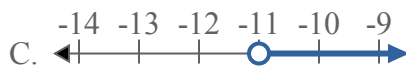
1) Какой вариант наиболее соответствует $X > -1$



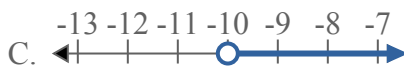
2) Какой вариант наиболее соответствует $X < -14$



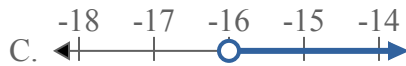
3) Какой вариант наиболее соответствует $X \leq -11$



4) Какой вариант наиболее соответствует $X < -10$



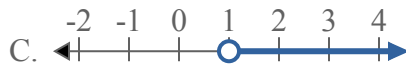
5) Какой вариант наиболее соответствует $X \leq -16$



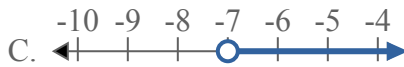
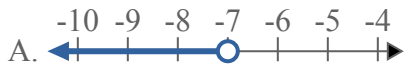
6) Какой вариант наиболее соответствует $X > 17$



7) Какой вариант наиболее соответствует $X > 1$



8) Какой вариант наиболее соответствует $X > -7$



ОТВЕТЫ

1. C

2. A

3. B

4. A

5. B

6. C

7. C

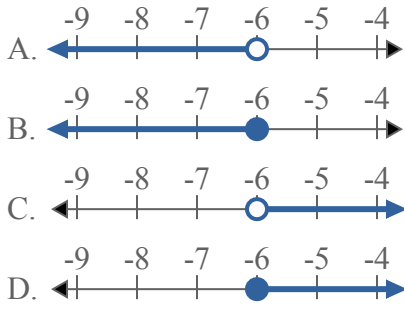
8. C



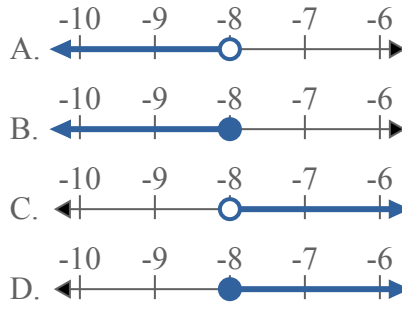
Решите каждую задачу.

ОТВЕТЫ

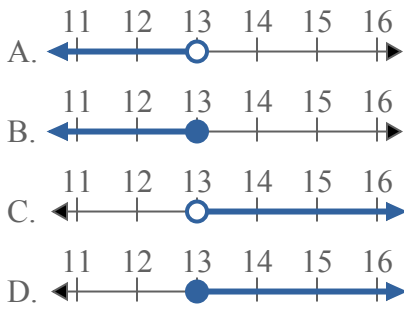
1) Какой вариант наиболее соответствует $X \leq -6$



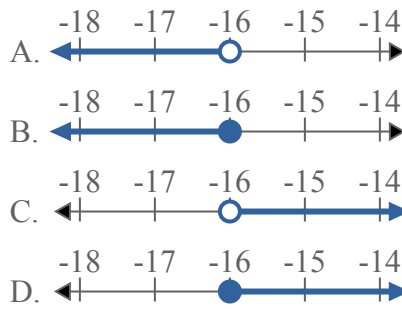
2) Какой вариант наиболее соответствует $X > -8$



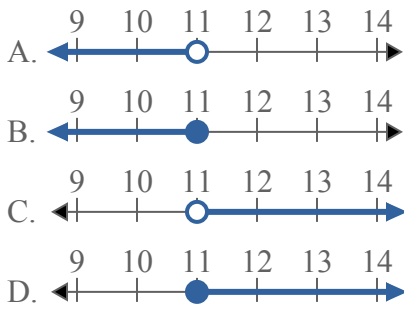
3) Какой вариант наиболее соответствует $X < 13$



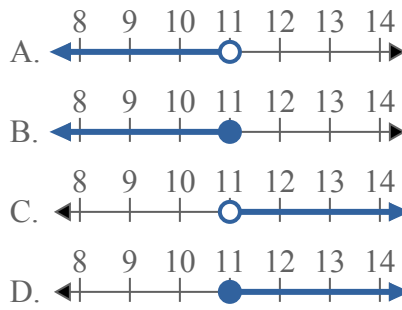
4) Какой вариант наиболее соответствует $X < -16$



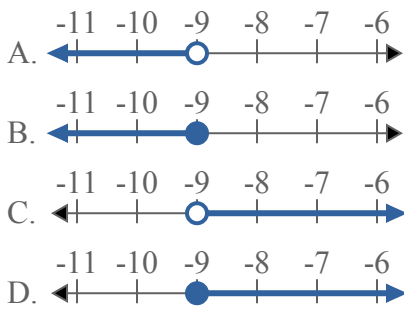
5) Какой вариант наиболее соответствует $X \leq 11$



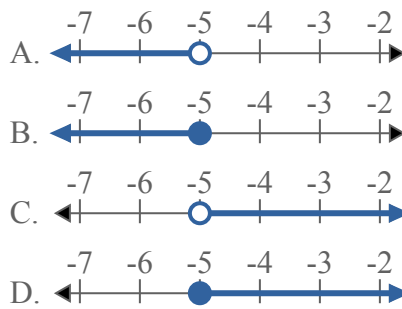
6) Какой вариант наиболее соответствует $X \geq 11$



7) Какой вариант наиболее соответствует $X > -9$



8) Какой вариант наиболее соответствует $X \geq -5$

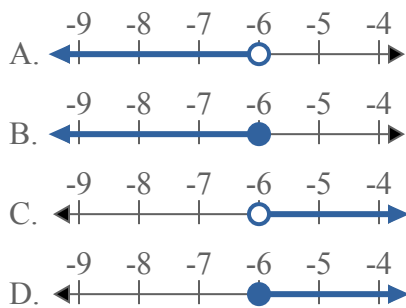


1. _____
2. _____
3. _____
4. _____
5. _____
6. _____
7. _____
8. _____

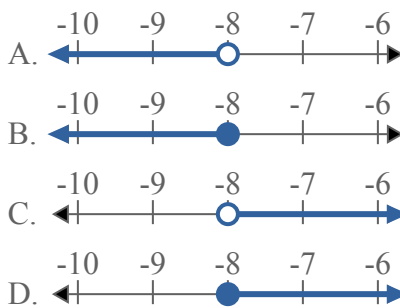


Решите каждую задачу.

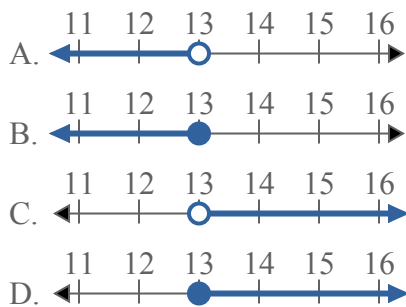
1) Какой вариант наиболее соответствует $X \leq -6$



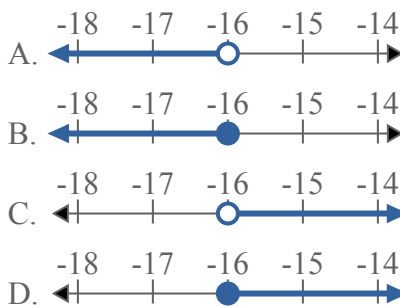
2) Какой вариант наиболее соответствует $X > -8$



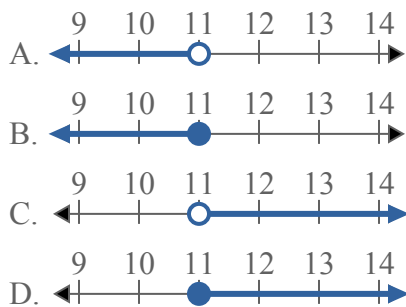
3) Какой вариант наиболее соответствует $X < 13$



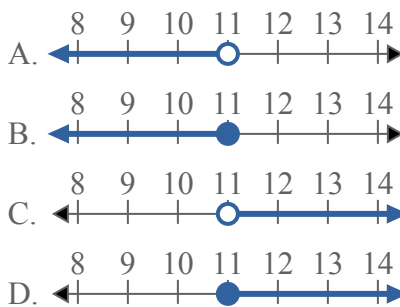
4) Какой вариант наиболее соответствует $X < -16$



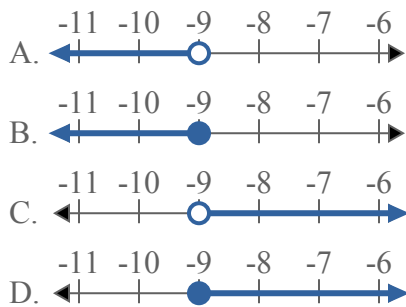
5) Какой вариант наиболее соответствует $X \leq 11$



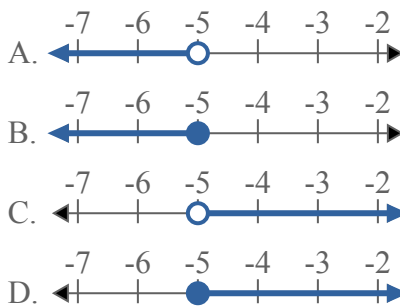
6) Какой вариант наиболее соответствует $X \geq 11$



7) Какой вариант наиболее соответствует $X > -9$



8) Какой вариант наиболее соответствует $X \geq -5$



ОТВЕТЫ

1. В

2. С

3. А

4. А

5. В

6. Д

7. С

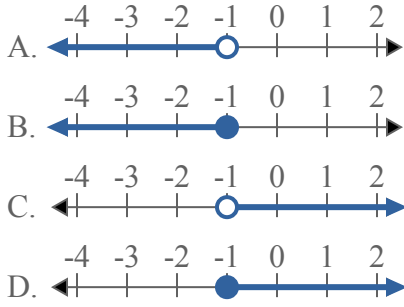
8. Д



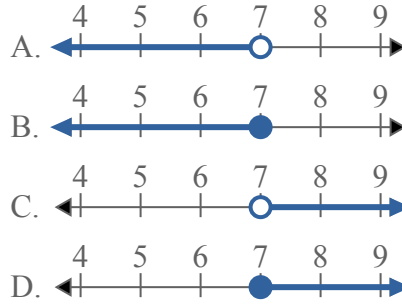
Решите каждую задачу.

ОТВЕТЫ

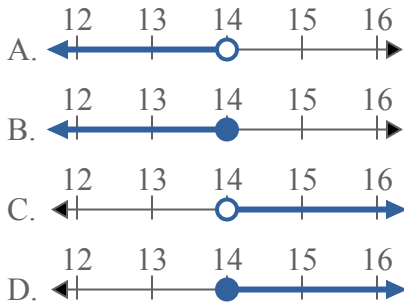
1) Какой вариант наиболее соответствует $X \geq -1$



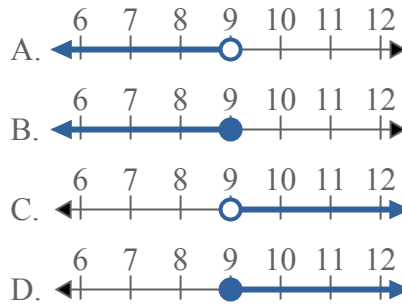
2) Какой вариант наиболее соответствует $X \leq 7$



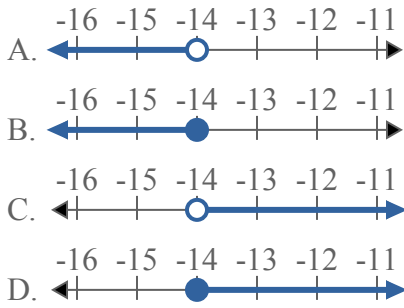
3) Какой вариант наиболее соответствует $X > 14$



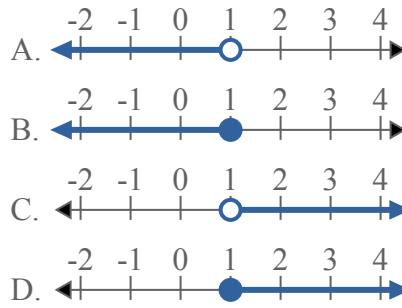
4) Какой вариант наиболее соответствует $X > 9$



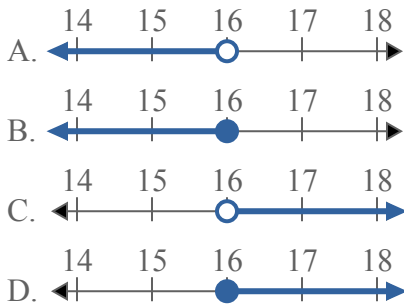
5) Какой вариант наиболее соответствует $X < -14$



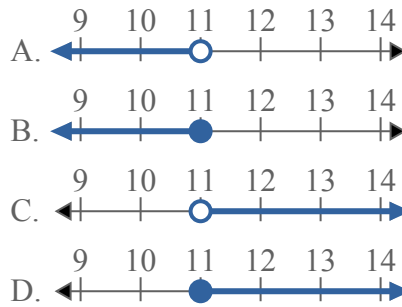
6) Какой вариант наиболее соответствует $X \geq 1$



7) Какой вариант наиболее соответствует $X \leq 16$



8) Какой вариант наиболее соответствует $X \leq 11$

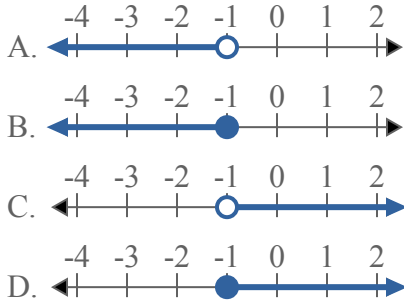


1. _____
2. _____
3. _____
4. _____
5. _____
6. _____
7. _____
8. _____

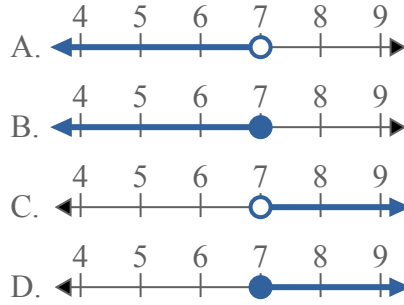


Решите каждую задачу.

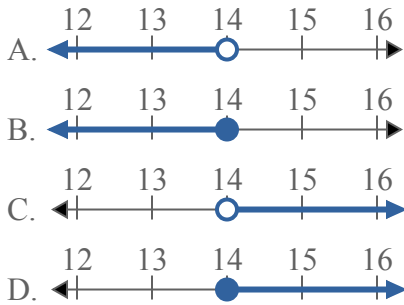
1) Какой вариант наиболее соответствует $X \geq -1$



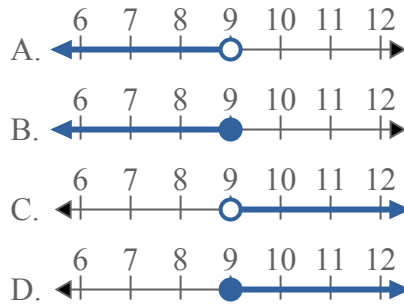
2) Какой вариант наиболее соответствует $X \leq 7$



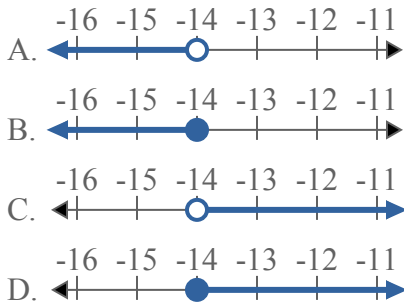
3) Какой вариант наиболее соответствует $X > 14$



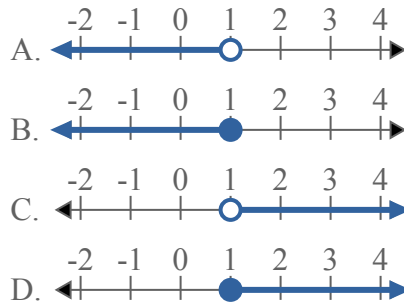
4) Какой вариант наиболее соответствует $X > 9$



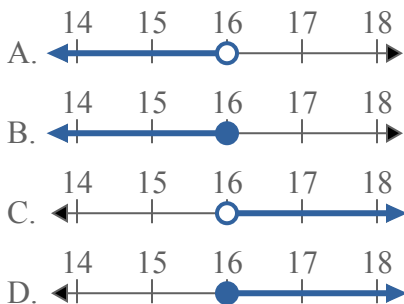
5) Какой вариант наиболее соответствует $X < -14$



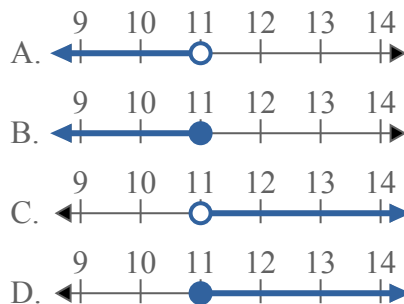
6) Какой вариант наиболее соответствует $X \geq 1$



7) Какой вариант наиболее соответствует $X \leq 16$



8) Какой вариант наиболее соответствует $X \leq 11$



ОТВЕТЫ

1. **D**
2. **B**
3. **C**
4. **C**
5. **A**
6. **D**
7. **B**
8. **B**



Решите каждую задачу.

ОТВЕТЫ

1) Какой вариант наиболее соответствует $X > -5$



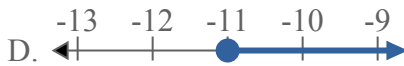
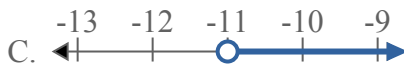
2) Какой вариант наиболее соответствует $X \geq 12$



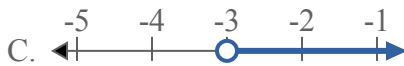
3) Какой вариант наиболее соответствует $X \leq 20$



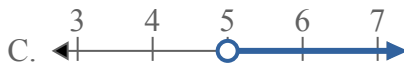
4) Какой вариант наиболее соответствует $X \geq -11$



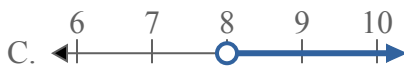
5) Какой вариант наиболее соответствует $X > -3$



6) Какой вариант наиболее соответствует $X \geq 5$



7) Какой вариант наиболее соответствует $X \leq 8$



8) Какой вариант наиболее соответствует $X \leq -13$



1. _____

2. _____

3. _____

4. _____

5. _____

6. _____

7. _____

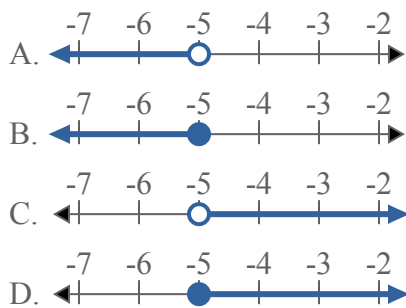
8. _____



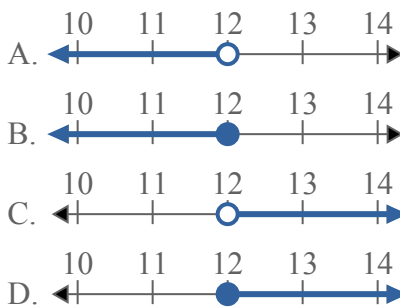
Решите каждую задачу.

ОТВЕТЫ

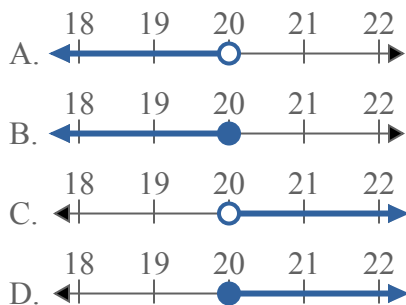
1) Какой вариант наиболее соответствует $X > -5$



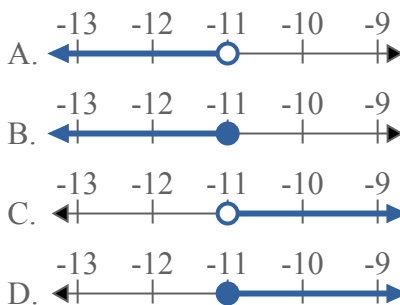
2) Какой вариант наиболее соответствует $X \geq 12$



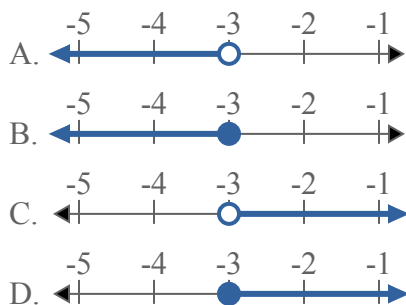
3) Какой вариант наиболее соответствует $X \leq 20$



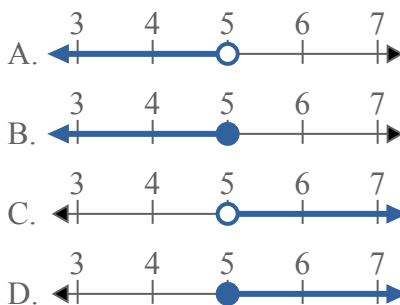
4) Какой вариант наиболее соответствует $X \geq -11$



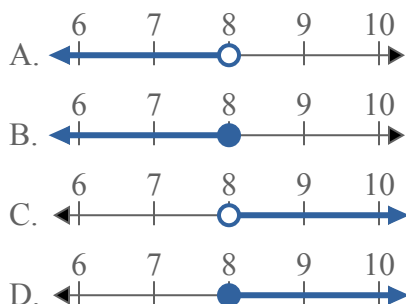
5) Какой вариант наиболее соответствует $X > -3$



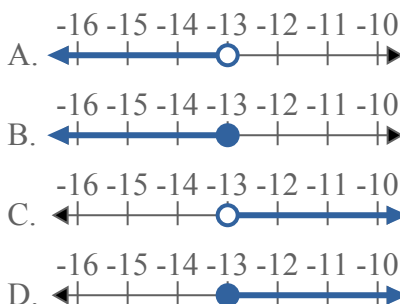
6) Какой вариант наиболее соответствует $X \geq 5$



7) Какой вариант наиболее соответствует $X \leq 8$



8) Какой вариант наиболее соответствует $X \leq -13$



1. **C**

2. **D**

3. **B**

4. **D**

5. **C**

6. **C**

7. **B**

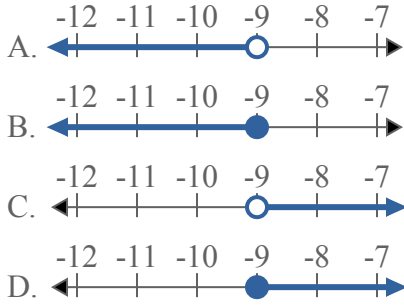
8. **B**



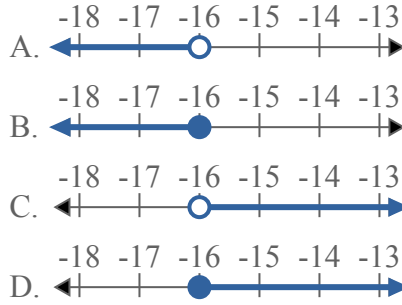
Решите каждую задачу.

ОТВЕТЫ

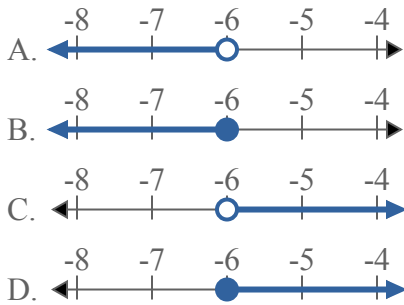
1) Какой вариант наиболее соответствует $X < -9$



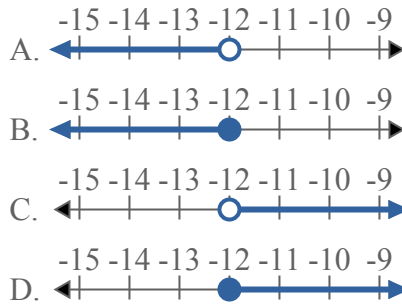
2) Какой вариант наиболее соответствует $X \leq -16$



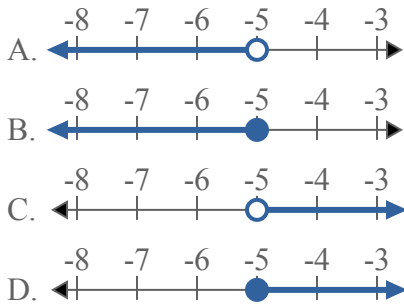
3) Какой вариант наиболее соответствует $X \geq -6$



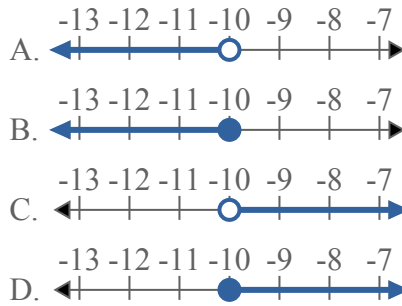
4) Какой вариант наиболее соответствует $X > -12$



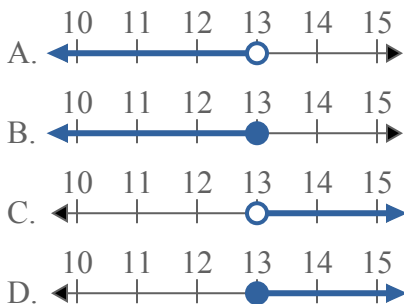
5) Какой вариант наиболее соответствует $X \leq -5$



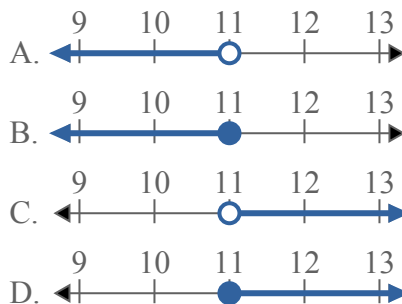
6) Какой вариант наиболее соответствует $X < -10$



7) Какой вариант наиболее соответствует $X > 13$



8) Какой вариант наиболее соответствует $X < 11$

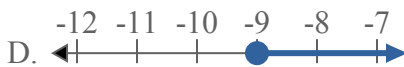
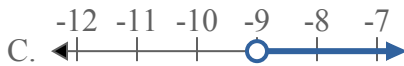


1. _____
2. _____
3. _____
4. _____
5. _____
6. _____
7. _____
8. _____

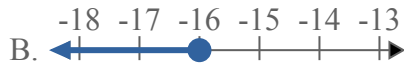
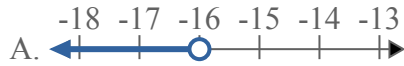


Решите каждую задачу.

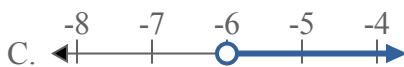
1) Какой вариант наиболее соответствует $X < -9$



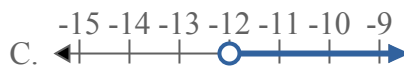
2) Какой вариант наиболее соответствует $X \leq -16$



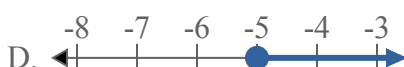
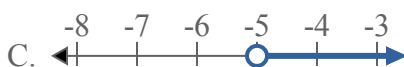
3) Какой вариант наиболее соответствует $X \geq -6$



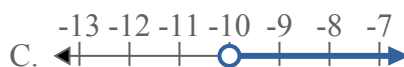
4) Какой вариант наиболее соответствует $X > -12$



5) Какой вариант наиболее соответствует $X \leq -5$



6) Какой вариант наиболее соответствует $X < -10$



7) Какой вариант наиболее соответствует $X > 13$



8) Какой вариант наиболее соответствует $X < 11$



ОТВЕТЫ

1. **A**

2. **B**

3. **D**

4. **C**

5. **B**

6. **A**

7. **C**

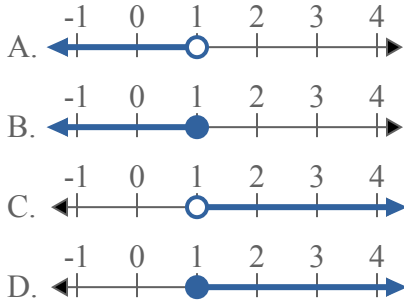
8. **A**



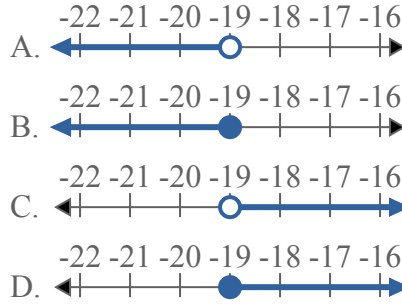
Решите каждую задачу.

ОТВЕТЫ

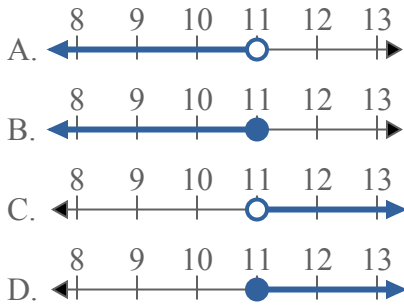
1) Какой вариант наиболее соответствует $X \leq 1$



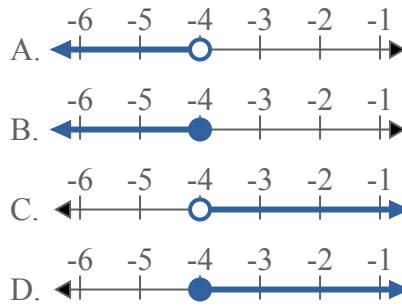
2) Какой вариант наиболее соответствует $X < -19$



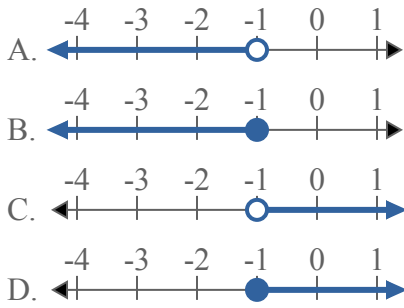
3) Какой вариант наиболее соответствует $X \geq 11$



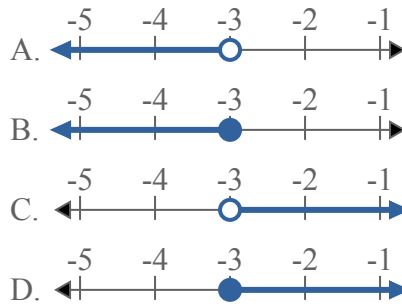
4) Какой вариант наиболее соответствует $X \geq -4$



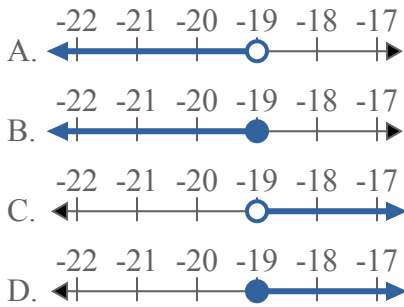
5) Какой вариант наиболее соответствует $X \geq -1$



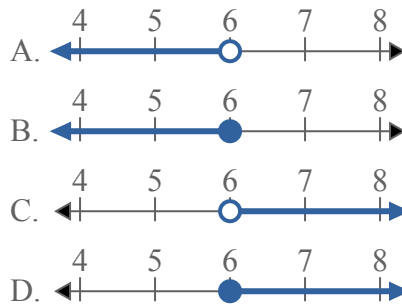
6) Какой вариант наиболее соответствует $X \leq -3$



7) Какой вариант наиболее соответствует $X > -19$



8) Какой вариант наиболее соответствует $X > 6$

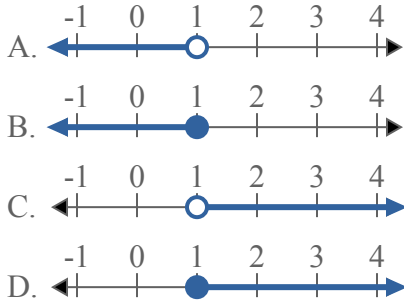


1. _____
2. _____
3. _____
4. _____
5. _____
6. _____
7. _____
8. _____

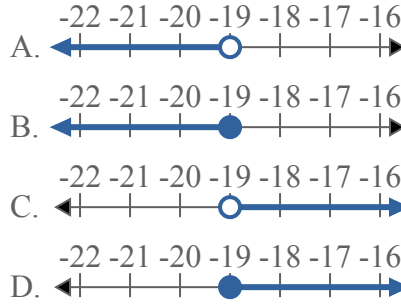


Решите каждую задачу.

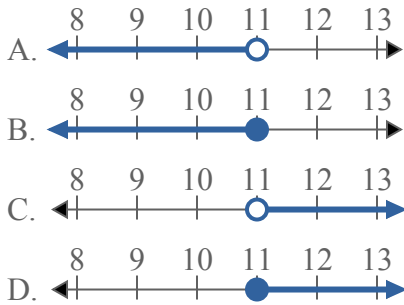
1) Какой вариант наиболее соответствует $X \leq 1$



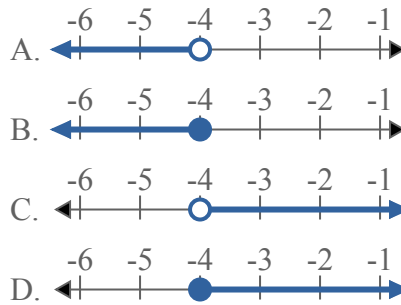
2) Какой вариант наиболее соответствует $X < -19$



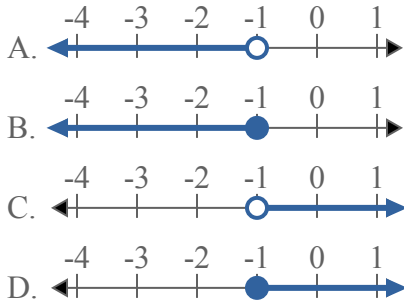
3) Какой вариант наиболее соответствует $X \geq 11$



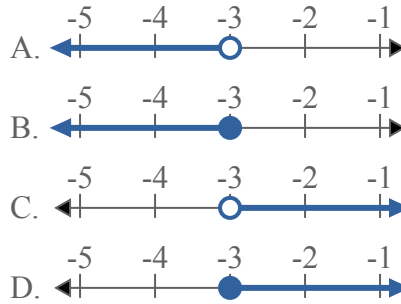
4) Какой вариант наиболее соответствует $X \geq -4$



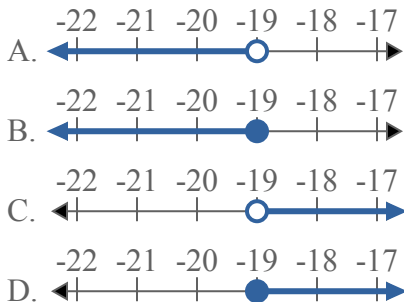
5) Какой вариант наиболее соответствует $X \geq -1$



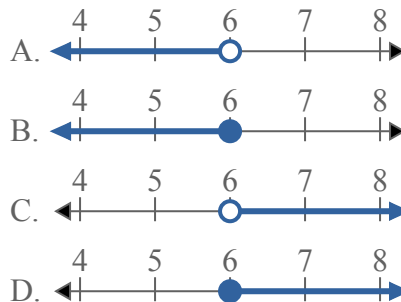
6) Какой вариант наиболее соответствует $X \leq -3$



7) Какой вариант наиболее соответствует $X > -19$



8) Какой вариант наиболее соответствует $X > 6$



ОТВЕТЫ

1. **B**
2. **A**
3. **D**
4. **D**
5. **D**
6. **B**
7. **C**
8. **C**