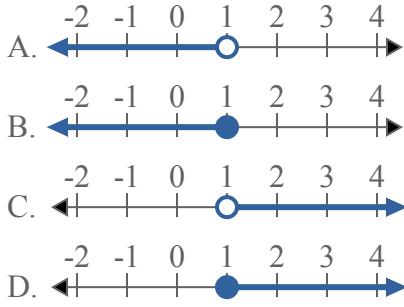




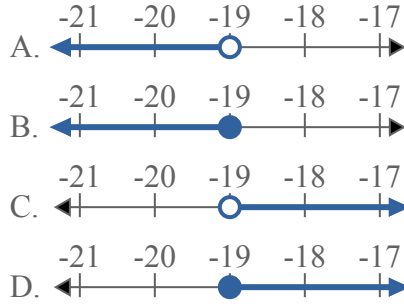
Решите каждую задачу.

**ОТВЕТЫ**

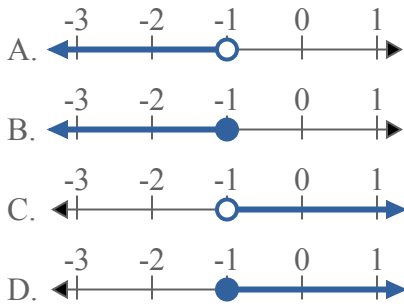
1) Какой вариант наиболее соответствует  $X > 1$



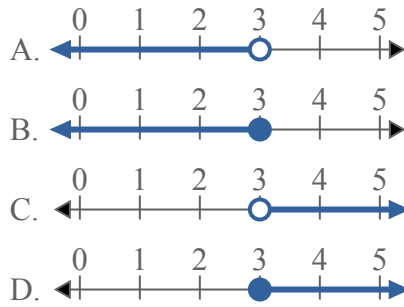
2) Какой вариант наиболее соответствует  $X \geq -19$



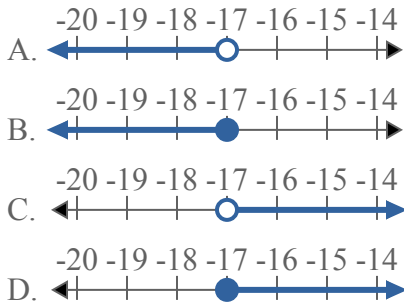
3) Какой вариант наиболее соответствует  $X > -1$



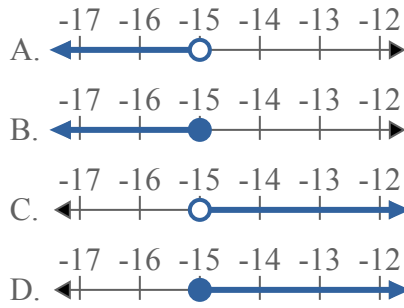
4) Какой вариант наиболее соответствует  $X \geq 3$



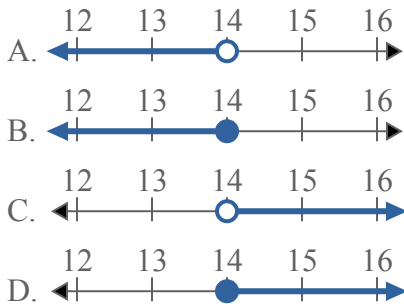
5) Какой вариант наиболее соответствует  $X \geq -17$



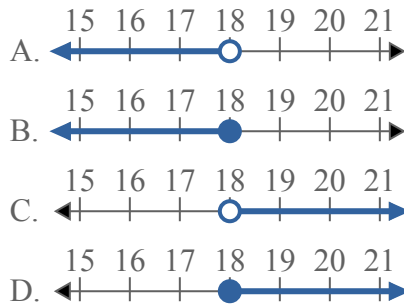
6) Какой вариант наиболее соответствует  $X < -15$



7) Какой вариант наиболее соответствует  $X > 14$



8) Какой вариант наиболее соответствует  $X \geq 18$



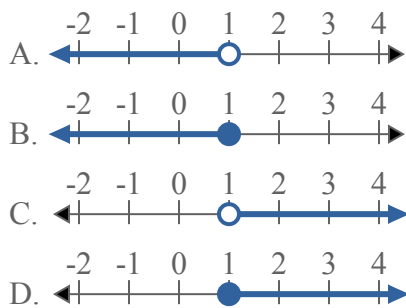
1. \_\_\_\_\_
2. \_\_\_\_\_
3. \_\_\_\_\_
4. \_\_\_\_\_
5. \_\_\_\_\_
6. \_\_\_\_\_
7. \_\_\_\_\_
8. \_\_\_\_\_



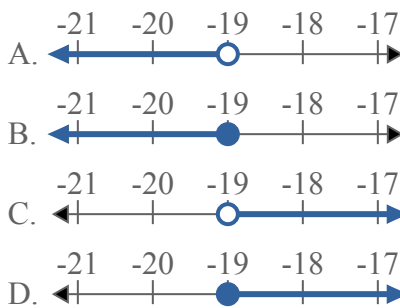
Решите каждую задачу.

**ОТВЕТЫ**

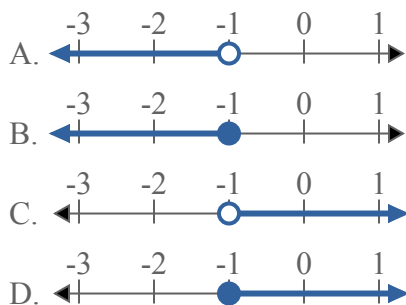
1) Какой вариант наиболее соответствует  $X > 1$



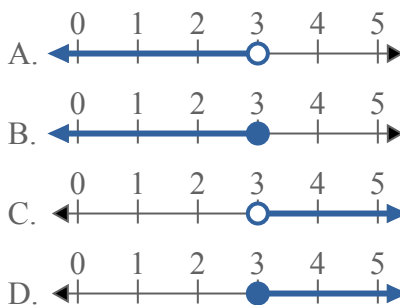
2) Какой вариант наиболее соответствует  $X \geq -19$



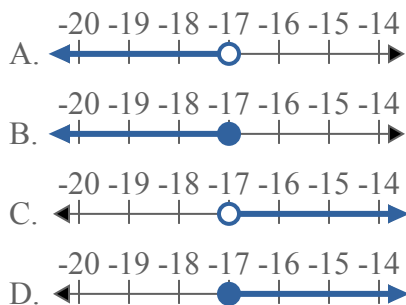
3) Какой вариант наиболее соответствует  $X > -1$



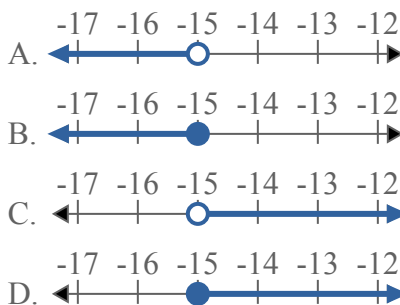
4) Какой вариант наиболее соответствует  $X \geq 3$



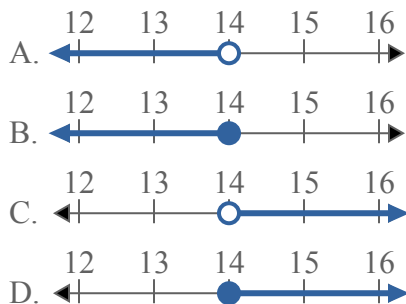
5) Какой вариант наиболее соответствует  $X \geq -17$



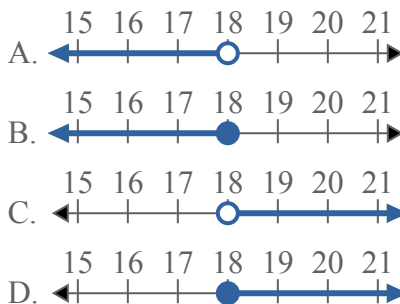
6) Какой вариант наиболее соответствует  $X < -15$



7) Какой вариант наиболее соответствует  $X > 14$



8) Какой вариант наиболее соответствует  $X \geq 18$



1.     C
2.     D
3.     C
4.     D
5.     D
6.     A
7.     C
8.     D