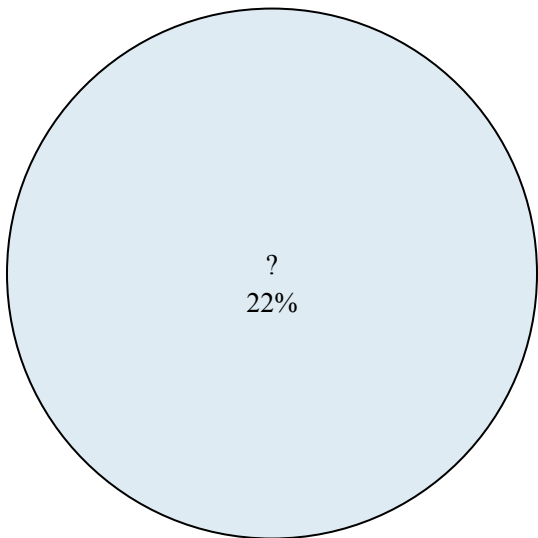




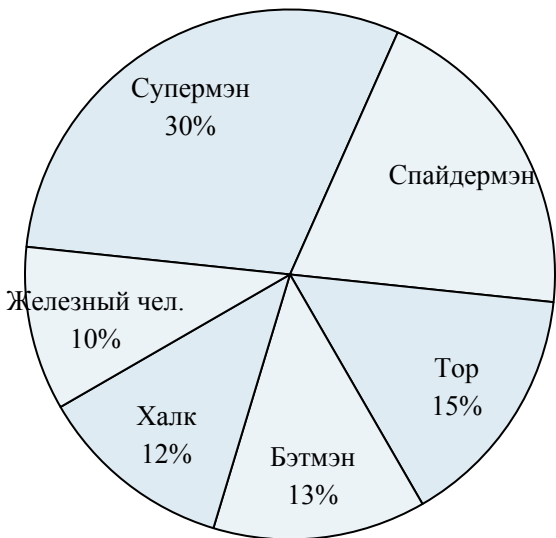
Используйте график при решении.

Результаты голосования в классе



- 1) Кто выиграл голосование?
- 2) Сколько процентов голосов получил(а) {VAR1}?
- 3) Кто набрал меньшее число голосов?
- 4) Сколько процентов голосов получили ? и ??
- 5) За каких двух кандидатов проголосовала половина голосовавших?

Любимый супер-герой



- 6) Какой герой самый непопулярный?
- 7) Сколько процентов голосов заработал {VAR1}?
- 8) Сколько процентов голосов заработали Спайдермэн и Тор ?
- 9) Какой герой самый популярный?
- 10) Каких двух героев предпочли почти половина опрошиваемых?

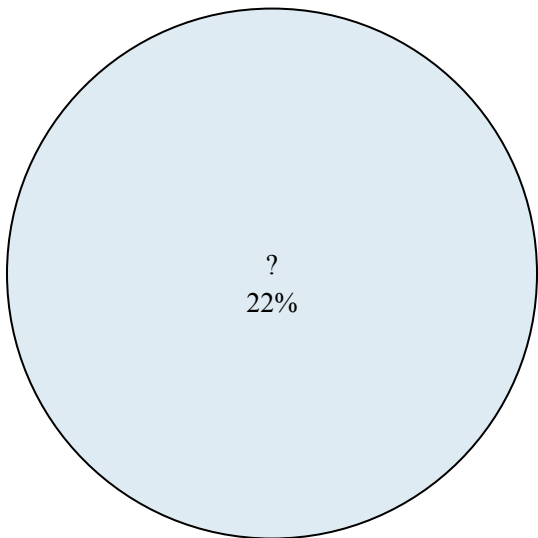
Ответы

1. _____
2. _____
3. _____
4. _____
5. _____
6. _____
7. _____
8. _____
9. _____
10. _____



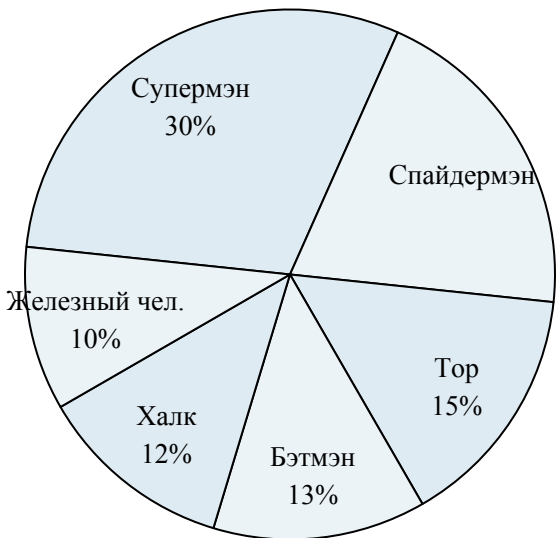
Используйте график при решении.

Результаты голосования в классе



- 1) Кто выиграл голосование?
- 2) Сколько процентов голосов получил(а) {VAR1}?
- 3) Кто набрал меньшее число голосов?
- 4) Сколько процентов голосов получили ? и ??
- 5) За каких двух кандидатов проголосовала половина голосовавших?

Любимый супер-герой



- 6) Какой герой самый непопулярный?
- 7) Сколько процентов голосов заработал {VAR1}?
- 8) Сколько процентов голосов заработали Спайдермэн и Тор ?
- 9) Какой герой самый популярный?
- 10) Каких двух героев предпочли почти половина опрошиваемых?

ОТВЕТЫ

1. ?
2. 22%
3. ?
4. 44%
5. ? &
6. Железный чел.
7. 12%
8. 35%
9. Супермэн
10. Супермэн & Спайдермэн