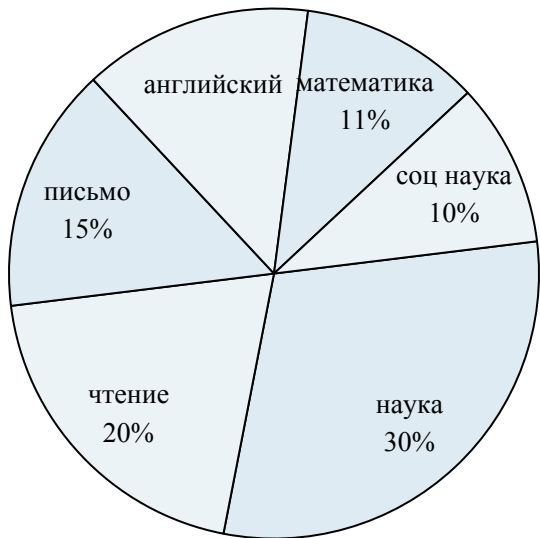




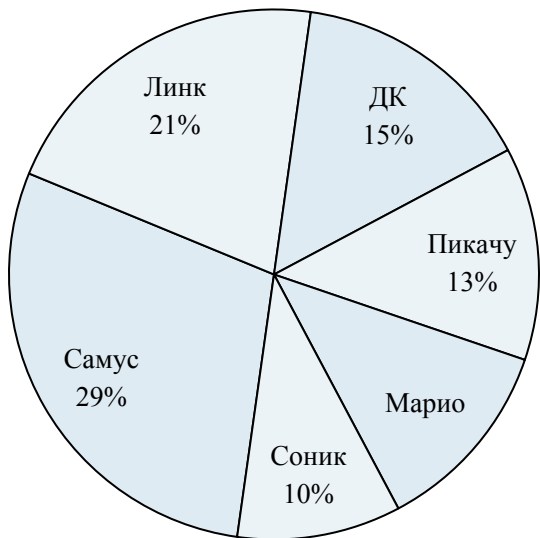
Используйте график при решении.

Время при выполнении домашней работы



- 1) Какой процент времени занимают письмо и соц наука?
- 2) На какой предмет потрачено больше всего времени?
- 3) Какой процент времени занимает {VAR1}?
- 4) На какой предмет потрачено меньше всего времени?
- 5) Какие два предмета занимают почти половину времени?

Любимый герой игры



- 6) Сколько процентов голосов заработал {VAR1}?
- 7) За каких двух героев проголосовали почти половина опрошиваемых?
- 8) Сколько процентов голосов заработали Пикачу и Марио ?
- 9) Какой герой самый непопулярный?
- 10) Какой герой самый популярный?

Ответы

1. _____
2. _____
3. _____
4. _____
5. _____
6. _____
7. _____
8. _____
9. _____
10. _____



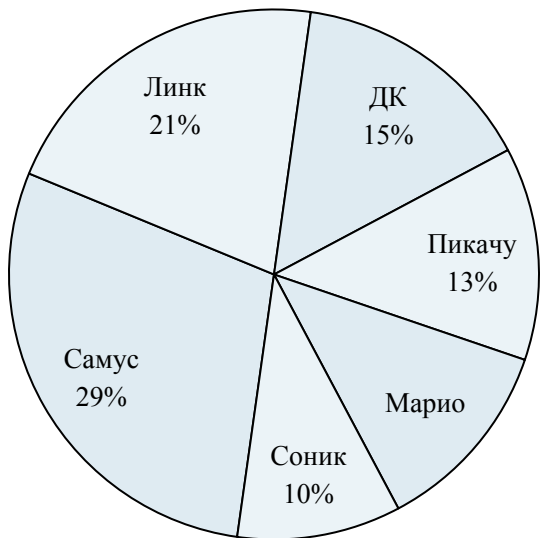
Используйте график при решении.

Время при выполнении домашней работы



- 1) Какой процент времени занимают письмо и соц наука?
- 2) На какой предмет потрачено больше всего времени?
- 3) Какой процент времени занимает {VAR1}?
- 4) На какой предмет потрачено меньше всего времени?
- 5) Какие два предмета занимают почти половину времени?

Любимый герой игры



- 6) Сколько процентов голосов заработал {VAR1}?
- 7) За каких двух героев проголосовали почти половина опрошиваемых?
- 8) Сколько процентов голосов заработали Пикачу и Марио ?
- 9) Какой герой самый непопулярный?
- 10) Какой герой самый популярный?

ОТВЕТЫ

1. 25%
2. наука
3. 20%
4. соц наука
5. наука & чтение
6. 15%
7. Самус & Линк
8. 25%
9. Соник
10. Самус