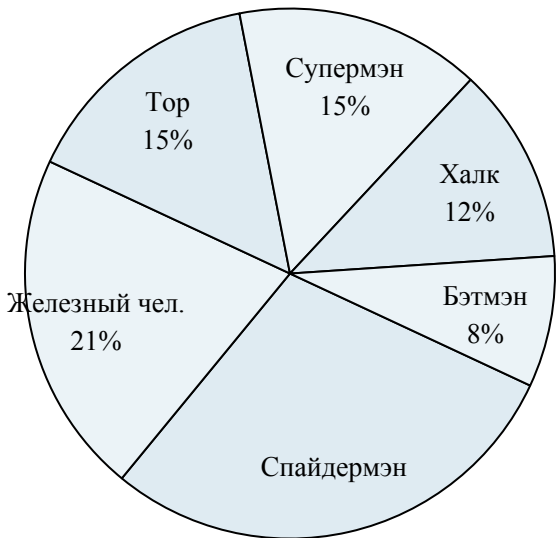




Используйте график при решении.

**Любимый супер-герой**



- 1) Какой герой самый популярный?
- 2) Сколько процентов голосов заработали Тор и Супермэн ?
- 3) Какой герой самый непопулярный?
- 4) Каких двух героев предпочли почти половина опрошиваемых?
- 5) Сколько процентов голосов заработал {VAR1}?

**Время при выполнении домашней работы**



- 6) Какой процент времени занимают математика и чтение?
- 7) На какой предмет потрачено больше всего времени?
- 8) На какой предмет потрачено меньше всего времени?
- 9) Какой процент времени занимает {VAR1}?
- 10) Какие два предмета занимают почти половину времени?

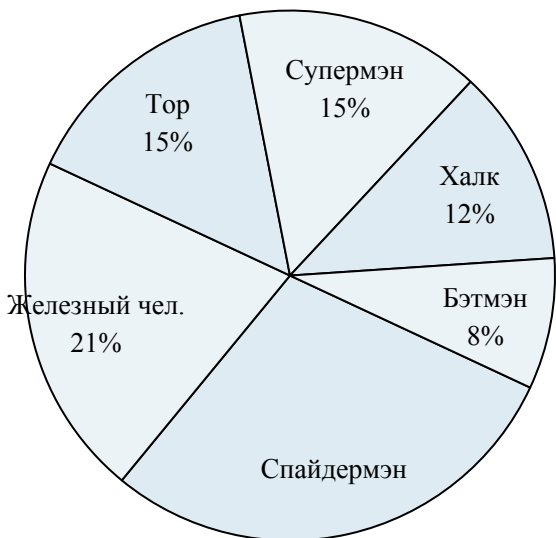
**Ответы**

1. \_\_\_\_\_
2. \_\_\_\_\_
3. \_\_\_\_\_
4. \_\_\_\_\_
5. \_\_\_\_\_
6. \_\_\_\_\_
7. \_\_\_\_\_
8. \_\_\_\_\_
9. \_\_\_\_\_
10. \_\_\_\_\_



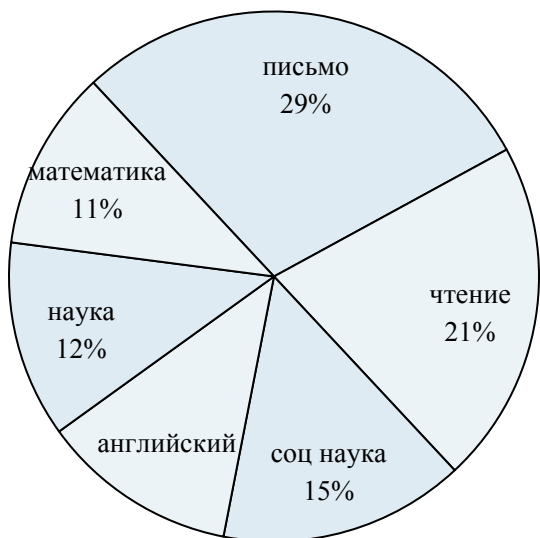
Используйте график при решении.

**Любимый супер-герой**



- 1) Какой герой самый популярный?
- 2) Сколько процентов голосов заработали Тор и Супермэн ?
- 3) Какой герой самый непопулярный?
- 4) Каких двух героев предпочли почти половина опрошиваемых?
- 5) Сколько процентов голосов заработал {VAR1}?

**Время при выполнении домашней работы**



- 6) Какой процент времени занимают математика и чтение?
- 7) На какой предмет потрачено больше всего времени?
- 8) На какой предмет потрачено меньше всего времени?
- 9) Какой процент времени занимает {VAR1}?
- 10) Какие два предмета занимают почти половину времени?

**ОТВЕТЫ**

1. Спайдермэн
2. 30%
3. Бэтмэн
4. Спайдермэн & Железный чел.
5. 21%
6. 32%
7. письмо
8. математика
9. 15%
10. письмо & чтение