




Используйте каждую диаграмму для решения проблем.

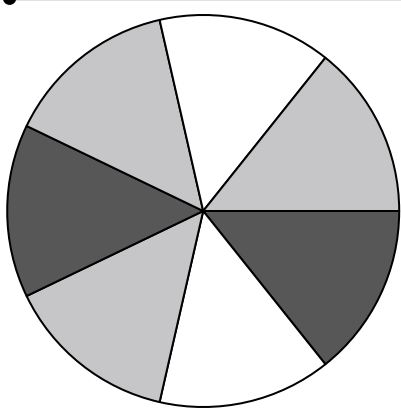


- 1) Если бы вы случайным образом выбрали одну фигуру из массива, какова вероятность, что это будет star?
- 2) У какой формы вероятность выбора 43,75% (7 из 16)?
- 3) Если бы вы выбрали одну фигуру случайным образом из массива, какую форму вы выбрали бы с наибольшей вероятностью?
- 4) Сколько всего фигур в массиве?

ОТВЕТЫ

1. _____
2. _____
3. _____
4. _____
5. _____
6. _____
7. _____
8. _____
9. _____
10. _____
11. _____
12. _____


- 5) Если бы вы бросили кубик один раз, какова вероятность того, что он выпадет на 2?
- 6) Если бы вы бросили кубик один раз, какова вероятность, что он {NOT} попадет на 1?
- 7) Если бы вы бросили кубик один раз, какова вероятность того, что он выпадет на число Нечетное?



- 8) Если вы прокрутите спиннер 1 раз, какова вероятность, что он упадет на белую фигуру?
- 9) Сколько всего штук в вертушке?
- 10) Если вы повернули спиннер 1 раз, какова вероятность того, что вы приземлитесь на фишку white или black?
- 11) Если вы прокрутите спиннер 1 раз, какова вероятность, что он упадет на черную фигуру?
- 12) Если вы покрутите спиннер 1 раз, какова вероятность того, что он упадет на серую деталь?




Используйте каждую диаграмму для решения проблем.

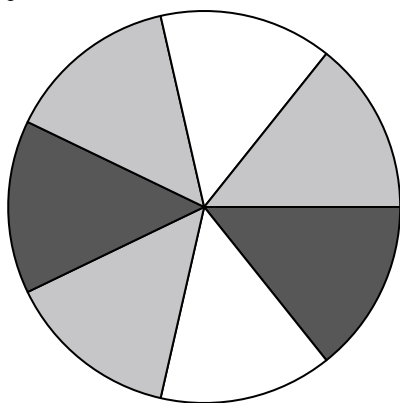


- 1) Если бы вы случайным образом выбрали одну фигуру из массива, какова вероятность, что это будет star?
- 2) У какой формы вероятность выбора 43,75% (7 из 16)?
- 3) Если бы вы выбрали одну фигуру случайным образом из массива, какую форму вы выбрали бы с наибольшей вероятностью?
- 4) Сколько всего фигур в массиве?

- 5) Если бы вы бросили кубик один раз, какова вероятность того, что он выпадет на 2?



- 6) Если бы вы бросили кубик один раз, какова вероятность, что он {NOT} попадет на 1?
- 7) Если бы вы бросили кубик один раз, какова вероятность того, что он выпадет на число Нечетное?



- 8) Если вы прокрутите спиннер 1 раз, какова вероятность, что он упадет на белую фигуру?
- 9) Сколько всего штук в вертушке?
- 10) Если вы повернули спиннер 1 раз, какова вероятность того, что вы приземлитесь на фишку white или black?
- 11) Если вы прокрутите спиннер 1 раз, какова вероятность, что он упадет на черную фигуру?
- 12) Если вы прокрутите спиннер 1 раз, какова вероятность того, что он упадет на серую деталь?

ОТВЕТЫ

1. 5 из 16
2. heart
3. circle
4. 16
5. 1 из 6
6. 5 из 6
7. 3 из 6
8. 2 из 7
9. 7
10. 4 из 7
11. 2 из 7
12. 3 из 7