





Решите каждую задачу.

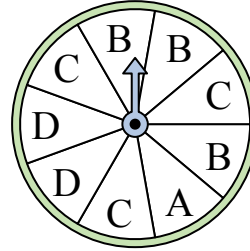
- 1) На какую букву чаще всего попадет спиннер?



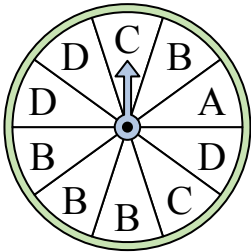
- 2) На какое число прядильщик с наименьшей вероятностью попадет?



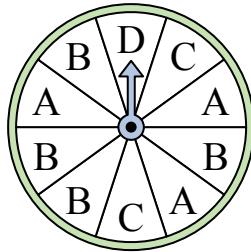
- 3) На какие две буквы с одинаковой вероятностью попадет спиннер?



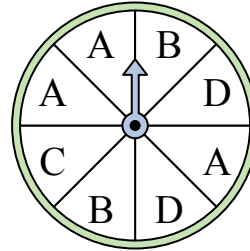
- 4) На какую букву чаще всего попадет спиннер?




- 5) На какую букву тот с наименьшей вероятностью попадет?




- 6) На какие две буквы с одинаковой вероятностью попадет спиннер?



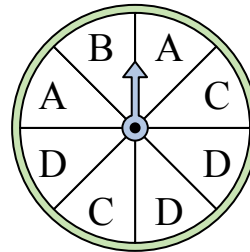
- 7) На какое число прядильщик с наименьшей вероятностью попадет?



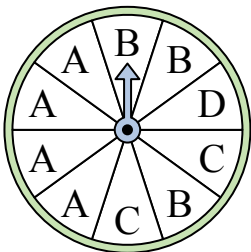
- 8) На какое число прядильщик с наименьшей вероятностью попадет?



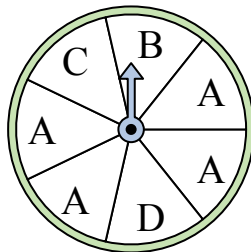
- 9) На какие две буквы с одинаковой вероятностью попадет спиннер?



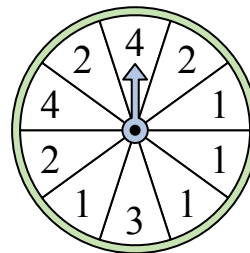
- 10) На какую букву чаще всего попадет спиннер?



- 11) На какую букву чаще всего попадет спиннер?



- 12) На какое число с наибольшей вероятностью попадет спиннер?




Ответы

1. _____
2. _____
3. _____
4. _____
5. _____
6. _____
7. _____
8. _____
9. _____
10. _____
11. _____
12. _____




Решите каждую задачу.

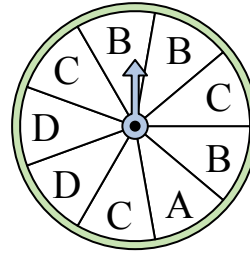
- 1) На какую букву чаще всего попадет спиннер?



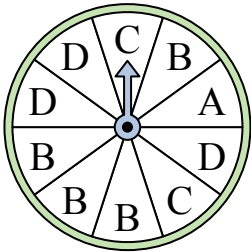
- 2) На какое число прядильщик с наименьшей вероятностью попадет?



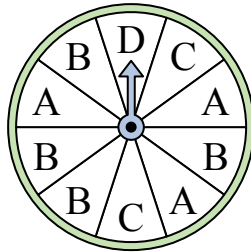
- 3) На какие две буквы с одинаковой вероятностью попадет спиннер?



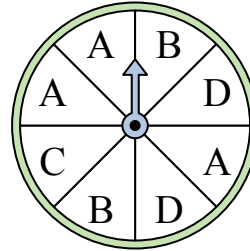
- 4) На какую букву чаще всего попадет спиннер?




- 5) На какую букву тот с наименьшей вероятностью попадет?




- 6) На какие две буквы с одинаковой вероятностью попадет спиннер?



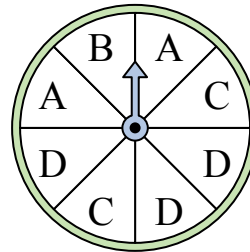
- 7) На какое число прядильщик с наименьшей вероятностью попадет?



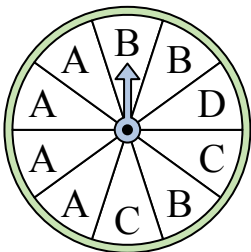
- 8) На какое число прядильщик с наименьшей вероятностью попадет?



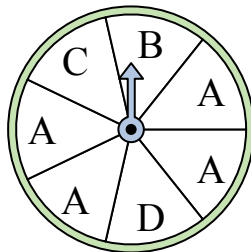
- 9) На какие две буквы с одинаковой вероятностью попадет спиннер?



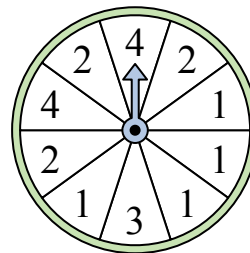
- 10) На какую букву чаще всего попадет спиннер?



- 11) На какую букву чаще всего попадет спиннер?



- 12) На какое число с наибольшей вероятностью попадет спиннер?



Отвeты

1. **B**
2. **4**
3. **B & C**
4. **B**
5. **D**
6. **B & D**
7. **1**
8. **1**
9. **A & C**
10. **A**
11. **A**
12. **1**