


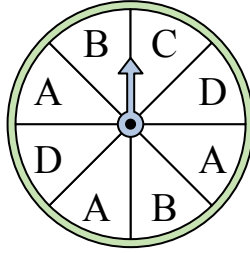


Решите каждую задачу.

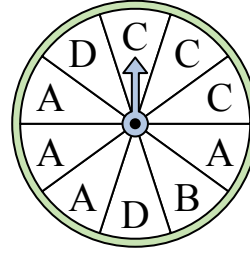
- 1) На какое число прядильщик с наименьшей вероятностью попадет?



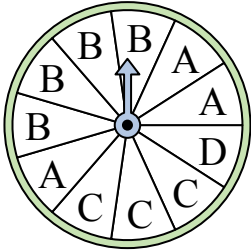
- 2) На какие две буквы с одинаковой вероятностью попадет спиннер?



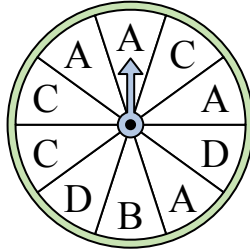
- 3) На какую букву тот с наименьшей вероятностью попадет?



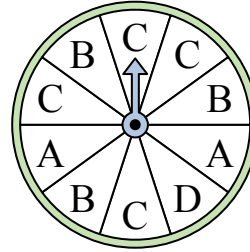
- 4) На какую букву тот с наименьшей вероятностью попадет?



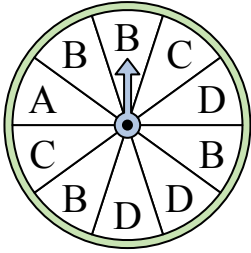
- 5) На какую букву чаще всего попадет спиннер?



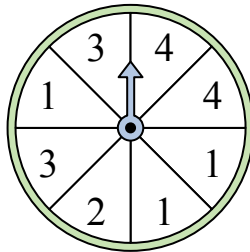
- 6) На какую букву чаще всего попадет спиннер?



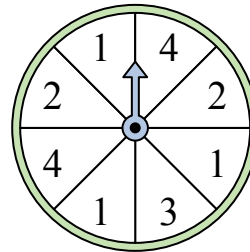
- 7) На какую букву чаще всего попадет спиннер?



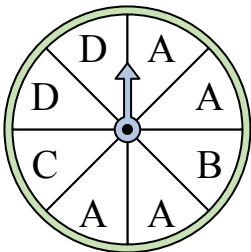
- 8) На какое число с наибольшей вероятностью попадет спиннер?



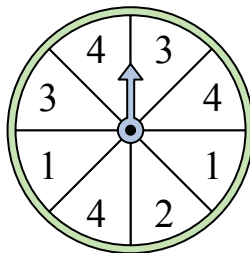
- 9) На какие два числа с одинаковой вероятностью попадет спиннер?



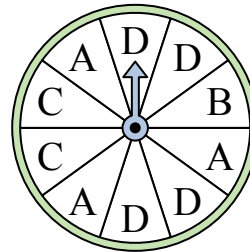
- 10) На какую букву чаще всего попадет спиннер?



- 11) На какие два числа с одинаковой вероятностью попадет спиннер?



- 12) На какую букву тот с наименьшей вероятностью попадет?




Ответы

1. _____
2. _____
3. _____
4. _____
5. _____
6. _____
7. _____
8. _____
9. _____
10. _____
11. _____
12. _____

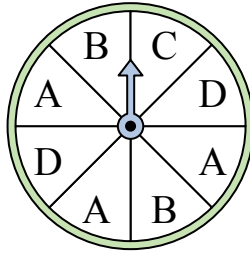


Решите каждую задачу.

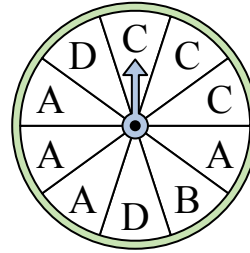
- 1) На какое число прядильщик с наименьшей вероятностью попадет?



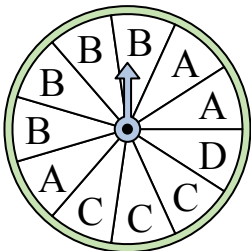
- 2) На какие две буквы с одинаковой вероятностью попадет спиннер?



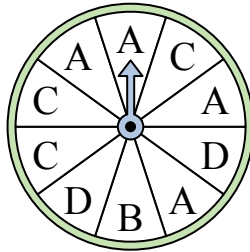
- 3) На какую букву тот с наименьшей вероятностью попадет?



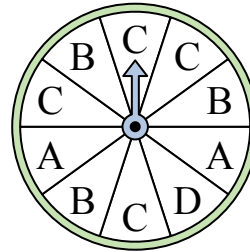
- 4) На какую букву тот с наименьшей вероятностью попадет?



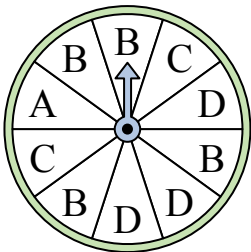
- 5) На какую букву чаще всего попадет спиннер?



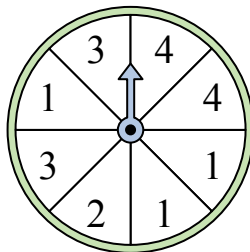
- 6) На какую букву чаще всего попадет спиннер?



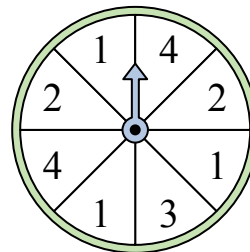
- 7) На какую букву чаще всего попадет спиннер?



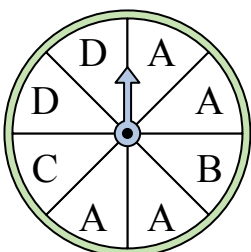
- 8) На какое число с наибольшей вероятностью попадет спиннер?



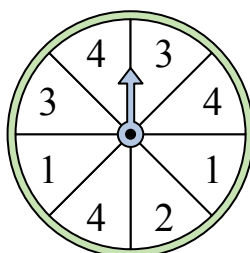
- 9) На какие два числа с одинаковой вероятностью попадет спиннер?



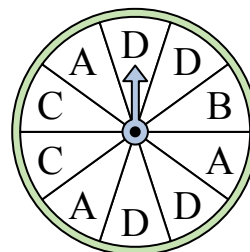
- 10) На какую букву чаще всего попадет спиннер?



- 11) На какие два числа с одинаковой вероятностью попадет спиннер?



- 12) На какую букву тот с наименьшей вероятностью попадет?



ОТВЕТЫ

1. 4
2. B & D
3. B
4. D
5. A
6. C
7. B
8. 1
9. 2 & 4
10. A
11. 1 & 3
12. B