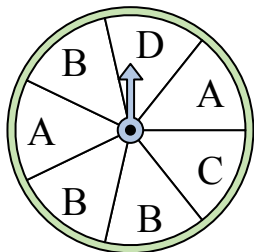


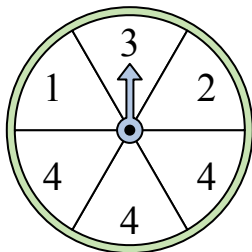


Решите каждую задачу.

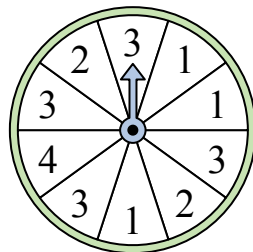
- 1) На какие две буквы с одинаковой вероятностью попадет спиннер?




- 2) На какое число с наибольшей вероятностью попадет спиннер?



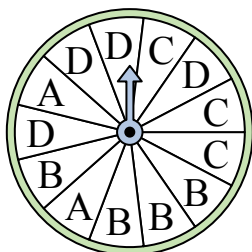
- 3) На какое число прядильщик с наименьшей вероятностью попадет?



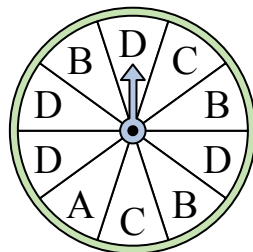
- 4) На какое число прядильщик с наименьшей вероятностью попадет?



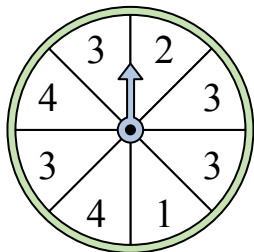
- 5) На какую букву тот с наименьшей вероятностью попадет?



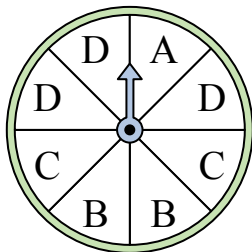
- 6) На какую букву чаще всего попадет спиннер?



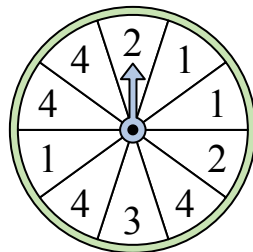
- 7) На какое число с наибольшей вероятностью попадет спиннер?




- 8) На какие две буквы с одинаковой вероятностью попадет спиннер?




- 9) На какое число с наибольшей вероятностью попадет спиннер?




- 10) На какое число прядильщик с наименьшей вероятностью попадет?



- 11) На какое число с наибольшей вероятностью попадет спиннер?



- 12) На какое число прядильщик с наименьшей вероятностью попадет?



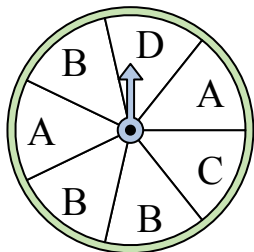
Ответы

1. _____
2. _____
3. _____
4. _____
5. _____
6. _____
7. _____
8. _____
9. _____
10. _____
11. _____
12. _____

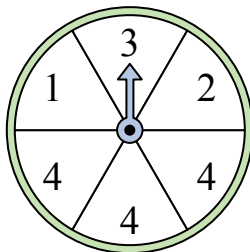


Решите каждую задачу.

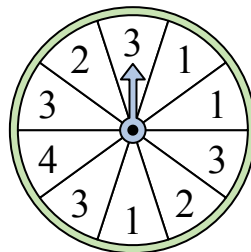
- 1) На какие две буквы с одинаковой вероятностью попадет спиннер?




- 2) На какое число с наибольшей вероятностью попадет спиннер?



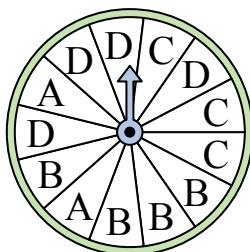
- 3) На какое число прядильщик с наименьшей вероятностью попадет?



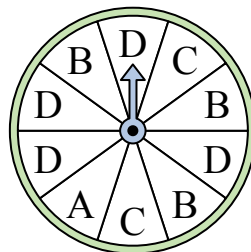
- 4) На какое число прядильщик с наименьшей вероятностью попадет?



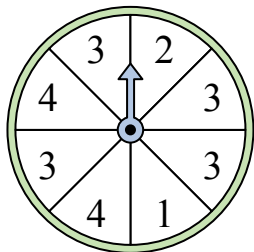
- 5) На какую букву тот с наименьшей вероятностью попадет?



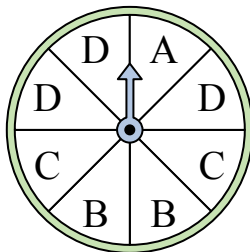
- 6) На какую букву чаще всего попадет спиннер?



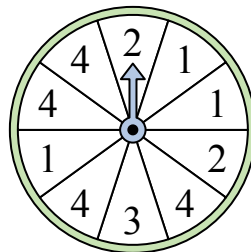
- 7) На какое число с наибольшей вероятностью попадет спиннер?




- 8) На какие две буквы с одинаковой вероятностью попадет спиннер?




- 9) На какое число с наибольшей вероятностью попадет спиннер?



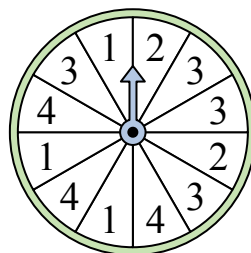
- 10) На какое число прядильщик с наименьшей вероятностью попадет?



- 11) На какое число с наибольшей вероятностью попадет спиннер?



- 12) На какое число прядильщик с наименьшей вероятностью попадет?



Ответы

1. **C & D**
2. **4**
3. **4**
4. **2**
5. **A**
6. **D**
7. **3**
8. **B & C**
9. **4**
10. **4**
11. **4**
12. **2**