


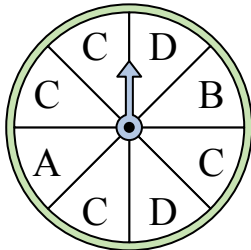


Решите каждую задачу.

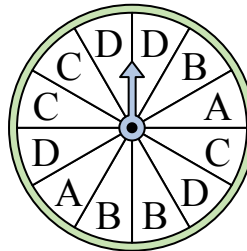
- 1) На какое число прядильщик с наименьшей вероятностью попадет?




- 2) На какую букву чаще всего попадет спиннер?



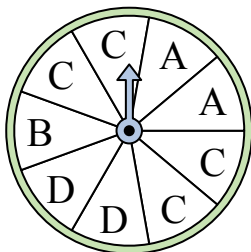
- 3) На какую букву тот с наименьшей вероятностью попадет?



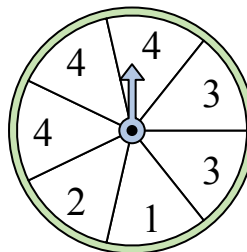
- 4) На какое число с наибольшей вероятностью попадет спиннер?




- 5) На какую букву чаще всего попадет спиннер?




- 6) На какие два числа с одинаковой вероятностью попадет спиннер?



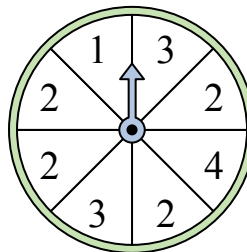
- 7) На какое число прядильщик с наименьшей вероятностью попадет?



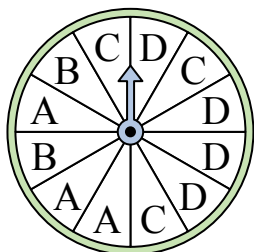
- 8) На какое число с наибольшей вероятностью попадет спиннер?




- 9) На какое число с наибольшей вероятностью попадет спиннер?



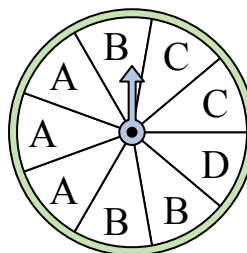
- 10) На какую букву тот с наименьшей вероятностью попадет?



- 11) На какое число с наибольшей вероятностью попадет спиннер?



- 12) На какие две буквы с одинаковой вероятностью попадет спиннер?




Ответы

1. _____
2. _____
3. _____
4. _____
5. _____
6. _____
7. _____
8. _____
9. _____
10. _____
11. _____
12. _____

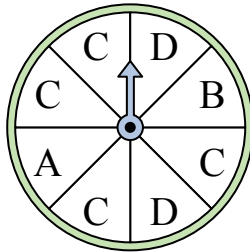


Решите каждую задачу.

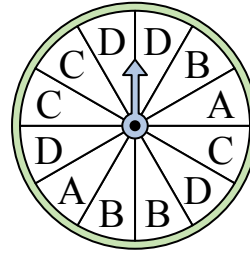
- 1) На какое число прядильщик с наименьшей вероятностью попадет?




- 2) На какую букву чаще всего попадет спиннер?



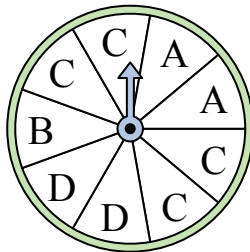
- 3) На какую букву тот с наименьшей вероятностью попадет?



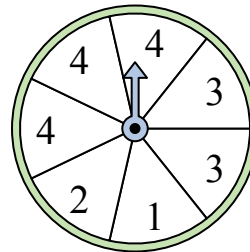
- 4) На какое число с наибольшей вероятностью попадет спиннер?




- 5) На какую букву чаще всего попадет спиннер?




- 6) На какие два числа с одинаковой вероятностью попадет спиннер?



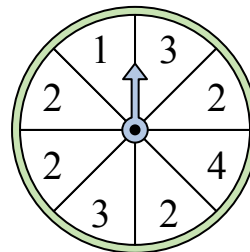
- 7) На какое число прядильщик с наименьшей вероятностью попадет?



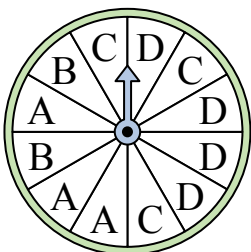
- 8) На какое число с наибольшей вероятностью попадет спиннер?




- 9) На какое число с наибольшей вероятностью попадет спиннер?



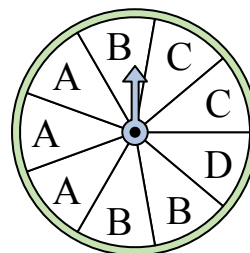
- 10) На какую букву тот с наименьшей вероятностью попадет?



- 11) На какое число с наибольшей вероятностью попадет спиннер?



- 12) На какие две буквы с одинаковой вероятностью попадет спиннер?



ОТВЕТЫ

1. 4
2. C
3. A
4. 3
5. C
6. 1 & 2
7. 2
8. 1
9. 2
10. B
11. 3
12. A & B