





Решите каждую задачу.


- 1) На какое число с наибольшей вероятностью попадет спиннер?



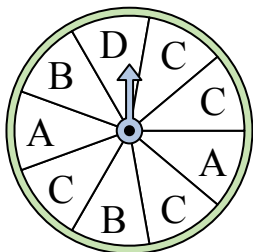
- 2) На какое число прядильщик с наименьшей вероятностью попадет?



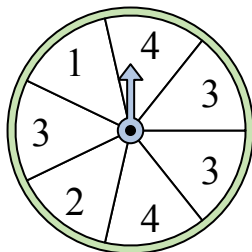
- 3) На какое число с наибольшей вероятностью попадет спиннер?



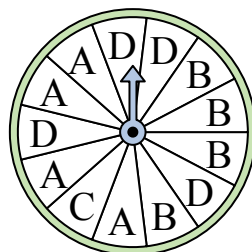
- 4) На какую букву чаще всего попадет спиннер?




- 5) На какие два числа с одинаковой вероятностью попадет спиннер?



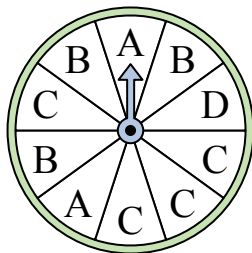
- 6) На какую букву тот с наименьшей вероятностью попадет?



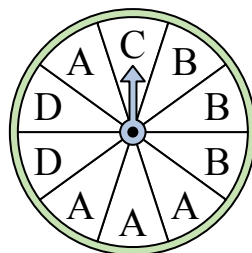
- 7) На какие два числа с одинаковой вероятностью попадет спиннер?




- 8) На какую букву тот с наименьшей вероятностью попадет?



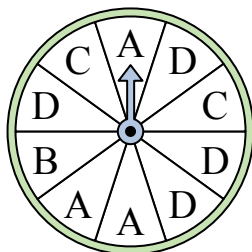
- 9) На какую букву чаще всего попадет спиннер?



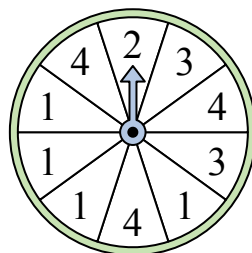
- 10) На какое число прядильщик с наименьшей вероятностью попадет?



- 11) На какую букву чаще всего попадет спиннер?



- 12) На какое число прядильщик с наименьшей вероятностью попадет?




Отвeты

1. _____
2. _____
3. _____
4. _____
5. _____
6. _____
7. _____
8. _____
9. _____
10. _____
11. _____
12. _____




Решите каждую задачу.

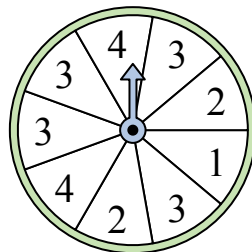
- 1) На какое число с наибольшей вероятностью попадет спиннер?



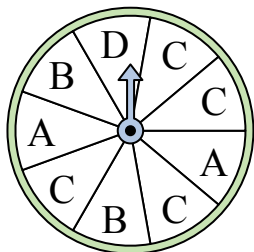
- 2) На какое число прядильщик с наименьшей вероятностью попадет?



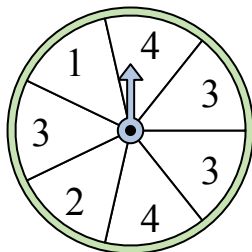
- 3) На какое число с наибольшей вероятностью попадет спиннер?



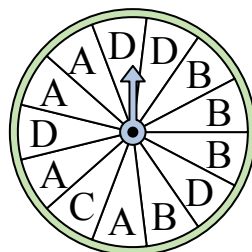
- 4) На какую букву чаще всего попадет спиннер?




- 5) На какие два числа с одинаковой вероятностью попадет спиннер?



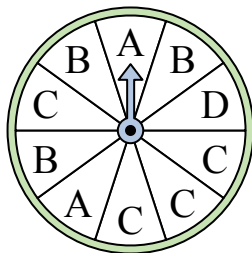
- 6) На какую букву тот с наименьшей вероятностью попадет?



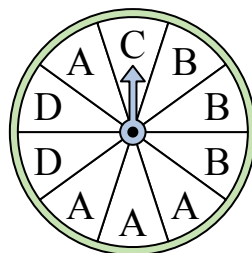
- 7) На какие два числа с одинаковой вероятностью попадет спиннер?




- 8) На какую букву тот с наименьшей вероятностью попадет?



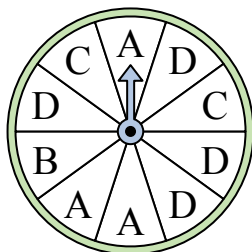
- 9) На какую букву чаще всего попадет спиннер?



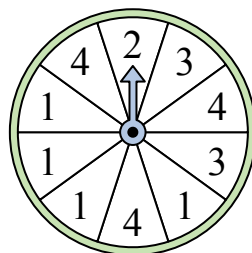
- 10) На какое число прядильщик с наименьшей вероятностью попадет?



- 11) На какую букву чаще всего попадет спиннер?



- 12) На какое число прядильщик с наименьшей вероятностью попадет?



ОТВЕТЫ

1. 3
2. 2
3. 3
4. C
5. 1 & 2
6. C
7. 2 & 4
8. D
9. A
10. 2
11. D
12. 2