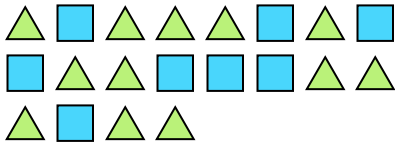





Решите каждую задачу.

Ответы

об) Каково соотношение треугольников(ка) и квадратов(та)?



1) Каково соотношение звезд(ы) и квадратов(та)?



об. **12:8**

2) Каково соотношение луны и звезд(ы)?




3) Каково соотношение луны и звезд(ы)?




1. _____

2. _____

4) Каково соотношение звезд(ы) и сердца ?



5) Каково соотношение треугольников(ка) и сердца ?



3. _____

4. _____

5. _____

6. _____

7. _____

8. _____

9. _____

6) Каково соотношение сердца и луны ?




7) Каково соотношение сердца и звезд(ы)?



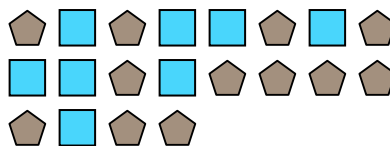
10. _____

11. _____

8) Каково соотношение сердца и кругов(га)?



9) Каково соотношение квадратов(та) и пятиугольников(ка)?



10) Каково соотношение сердца и пятиугольников(ка)?



11) Каково соотношение квадратов(та) и звезд(ы)?

