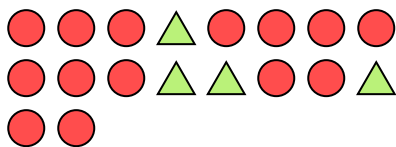





Решите каждую задачу.

об) Каково соотношение треугольников(ка) и кругов(га)?



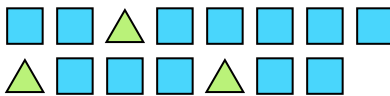
1) Каково соотношение луны и пятиугольников(ка)?



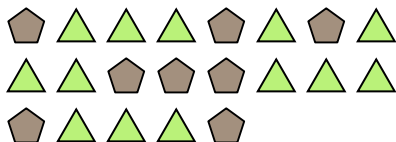
2) Каково соотношение кругов(га) и звезд(ы)?



3) Каково соотношение квадратов(га) и треугольников(ка)?



4) Каково соотношение треугольников(ка) и пятиугольников(ка)?




5) Каково соотношение треугольников(ка) и сердца ?



6) Каково соотношение луны и кругов(га)?



7) Каково соотношение кругов(га) и луны ?




8) Каково соотношение луны и звезд(ы)?



9) Каково соотношение звезд(ы) и пятиугольников(ка)?



10) Каково соотношение кругов(га) и луны ?



11) Каково соотношение пятиугольников(ка) и луны ?



Ответы

об. 4:14

1. \_\_\_\_\_

2. \_\_\_\_\_

3. \_\_\_\_\_

4. \_\_\_\_\_

5. \_\_\_\_\_

6. \_\_\_\_\_

7. \_\_\_\_\_

8. \_\_\_\_\_

9. \_\_\_\_\_

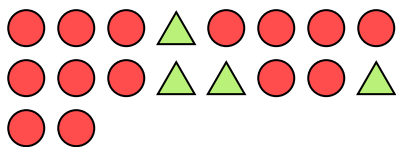
10. \_\_\_\_\_

11. \_\_\_\_\_



Решите каждую задачу.

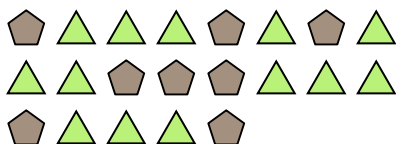
об) Каково соотношение треугольников(ка) и кругов(га)?



2) Каково соотношение кругов(га) и звезд(ы)?



4) Каково соотношение треугольников(ка) и пятиугольников(ка)?




6) Каково соотношение луны и кругов(га)?




8) Каково соотношение луны и звезд(ы)?



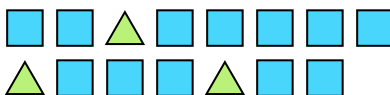
10) Каково соотношение кругов(га) и луны ?



1) Каково соотношение луны и пятиугольников(ка)?




3) Каково соотношение квадратов(га) и треугольников(ка)?




5) Каково соотношение треугольников(ка) и сердца ?



7) Каково соотношение кругов(га) и луны ?



9) Каково соотношение звезд(ы) и пятиугольников(ка)?



11) Каково соотношение пятиугольников(ка) и луны ?



**Ответы**

об. 4:14

1. 15:8

2. 9:7

3. 12:3

4. 13:8

5. 4:10

6. 5:4

7. 11:12

8. 7:5

9. 6:13

10. 8:15

11. 2:3