



Используйте числовые прямые для округления до сотни.

об)

4 410



1)

853



2)

783



3)

9 697



4)

8 980



5)

569



6)

9 924



7)

99 310



8)

90 005



9)

17 192



10)

60 453



Ответы

об. 4 400

1. \_\_\_\_\_

2. \_\_\_\_\_

3. \_\_\_\_\_

4. \_\_\_\_\_

5. \_\_\_\_\_

6. \_\_\_\_\_

7. \_\_\_\_\_

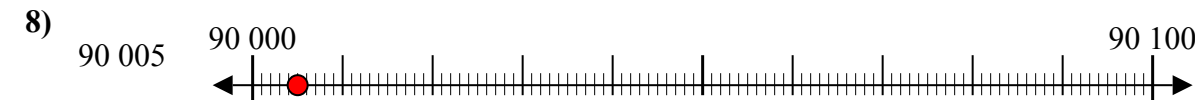
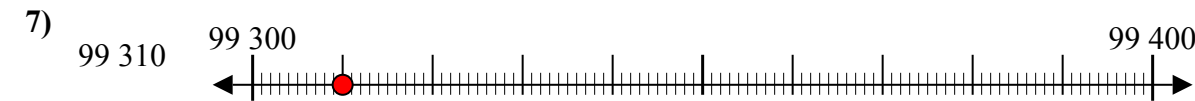
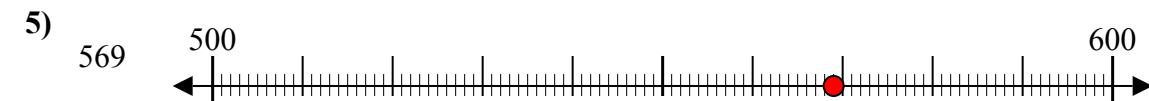
8. \_\_\_\_\_

9. \_\_\_\_\_

10. \_\_\_\_\_



Используйте числовые прямые для округления до сотни.



**Ответы**

об. 4 400

1. 900

2. 800

3. 9 700

4. 9 000

5. 600

6. 9 900

7. 99 300

8. 90 000

9. 17 200

10. 60 500