



Используйте числовые прямые для округления до сотни.

об)

22 128



1)

7 798



2)

73 791



3)

48 807



4)

1 381



5)

746



6)

140



7)

904



8)

93 445



9)

4 176



10)

369



Ответы

об. 22 100

1. \_\_\_\_\_

2. \_\_\_\_\_

3. \_\_\_\_\_

4. \_\_\_\_\_

5. \_\_\_\_\_

6. \_\_\_\_\_

7. \_\_\_\_\_

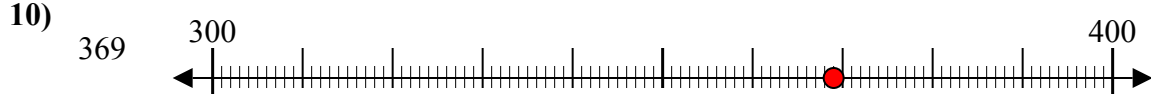
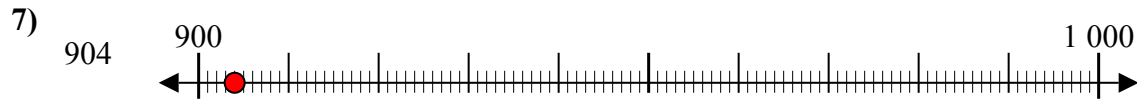
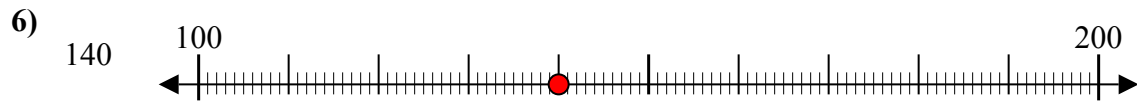
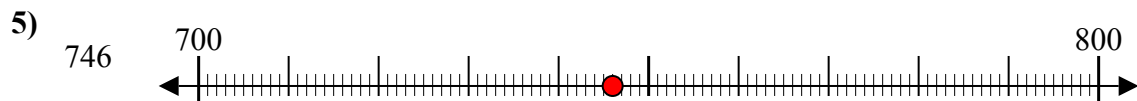
8. \_\_\_\_\_

9. \_\_\_\_\_

10. \_\_\_\_\_



Используйте числовые прямые для округления до сотни.



**Ответы**

об. 22 100

1. 7 800

2. 73 800

3. 48 800

4. 1 400

5. 700

6. 100

7. 900

8. 93 400

9. 4 200

10. 400