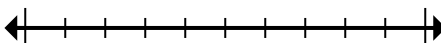




Обозначьте местоположение (приблизительное) на числовой прямой при решении.

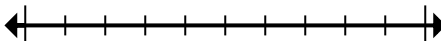
ОТВЕТЫ

1) Округлите 60 393 636 до ближайших ста тысячных.



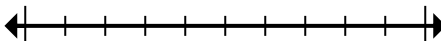
1. _____

2) Округлите 94 001 до ближайших десяти тысячных.



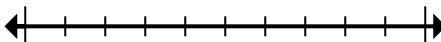
2. _____

3) Округлите 665 до ближайших сотых.



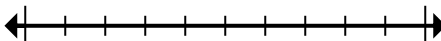
3. _____

4) Округлите 257 до ближайших сотых.



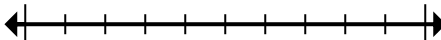
4. _____

5) Округлите 888 081 до ближайших десяти тысячных.



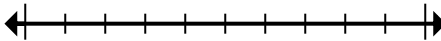
5. _____

6) Округлите 2 138 до ближайших тысячных.



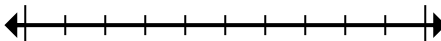
6. _____

7) Округлите 3 390 до ближайших тысячных.



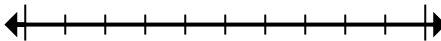
7. _____

8) Округлите 8 542 890 до ближайших десяти тысячных.



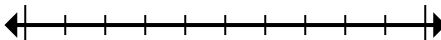
8. _____

9) Округлите 515 011 до ближайших ста тысячных.



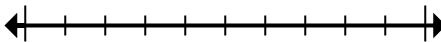
9. _____

10) Округлите 962 363 до ближайших сотых.



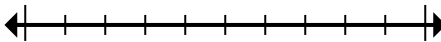
10. _____

11) Округлите 656 429 до ближайших ста тысячных.



11. _____

12) Округлите 87 606 до ближайших десяти тысячных.



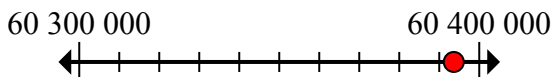
12. _____



Обозначьте местоположение (приблизительное) на числовой прямой при решении.

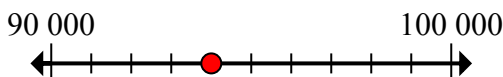
ОТВЕТЫ

1) Округлите 60 393 636 до ближайших ста тысячных.



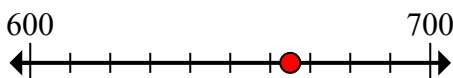
1. 60 400 000

2) Округлите 94 001 до ближайших десяти тысячных.



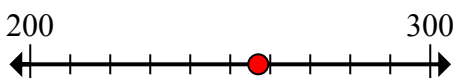
2. 90 000

3) Округлите 665 до ближайших сотых.



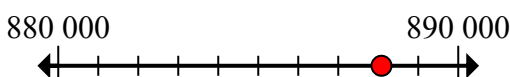
3. 700

4) Округлите 257 до ближайших сотых.



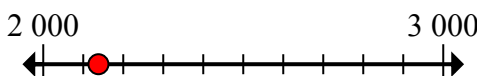
4. 300

5) Округлите 888 081 до ближайших десяти тысячных.



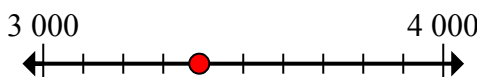
5. 890 000

6) Округлите 2 138 до ближайших тысячных.



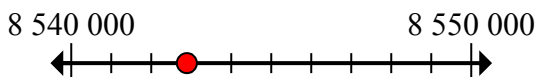
6. 2 000

7) Округлите 3 390 до ближайших тысячных.



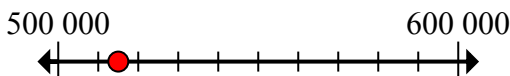
7. 3 000

8) Округлите 8 542 890 до ближайших десяти тысячных.



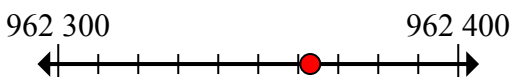
8. 8 540 000

9) Округлите 515 011 до ближайших ста тысячных.



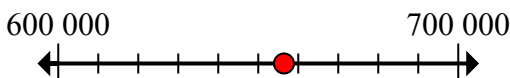
9. 500 000

10) Округлите 962 363 до ближайших сотых.



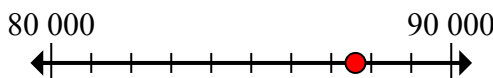
10. 962 400

11) Округлите 656 429 до ближайших ста тысячных.



11. 700 000

12) Округлите 87 606 до ближайших десяти тысячных.



12. 90 000

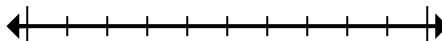


Обозначьте местоположение (приблизительное) на числовой прямой при решении.

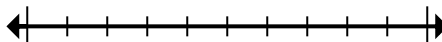
Отвeты

2 000	60 400 000	700	90 000
90 000	700 000	3 000	8 540 000
962 400	300	500 000	890 000

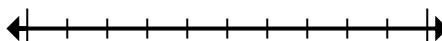
1) Округлите 60 393 636 до ближайших ста тысячных.



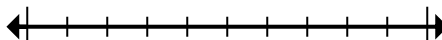
2) Округлите 94 001 до ближайших десяти тысячных.



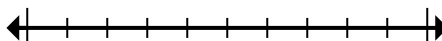
3) Округлите 665 до ближайших сотых.



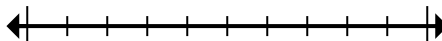
4) Округлите 257 до ближайших сотых.



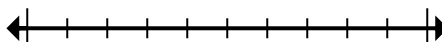
5) Округлите 888 081 до ближайших десяти тысячных.



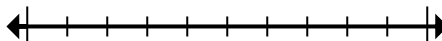
6) Округлите 2 138 до ближайших тысячных.



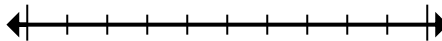
7) Округлите 3 390 до ближайших тысячных.



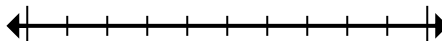
8) Округлите 8 542 890 до ближайших десяти тысячных.



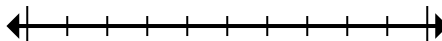
9) Округлите 515 011 до ближайших ста тысячных.



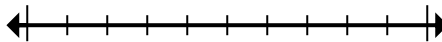
10) Округлите 962 363 до ближайших сотых.



11) Округлите 656 429 до ближайших ста тысячных.



12) Округлите 87 606 до ближайших десяти тысячных.



1. _____
2. _____
3. _____
4. _____
5. _____
6. _____
7. _____
8. _____
9. _____
10. _____
11. _____
12. _____