



Обозначьте местоположение (приблизительное) на числовой прямой при решении.

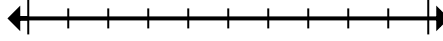
ОТВЕТЫ

1) Округлите 636 до ближайших сотых.



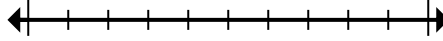
1. \_\_\_\_\_

2) Округлите 460 239 до ближайших ста тысячных.



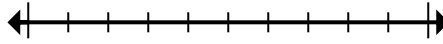
2. \_\_\_\_\_

3) Округлите 43 360 678 до ближайших ста тысячных.



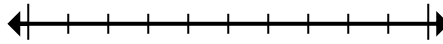
3. \_\_\_\_\_

4) Округлите 525 до ближайших сотых.



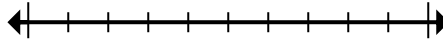
4. \_\_\_\_\_

5) Округлите 520 968 до ближайших ста тысячных.



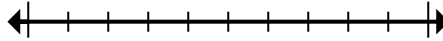
5. \_\_\_\_\_

6) Округлите 242 983 до ближайших десяти тысячных.



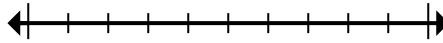
6. \_\_\_\_\_

7) Округлите 6 825 849 до ближайших сотых.



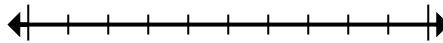
7. \_\_\_\_\_

8) Округлите 4 314 до ближайших тысячных.



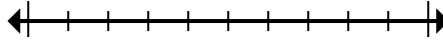
8. \_\_\_\_\_

9) Округлите 97 589 до ближайших десяти тысячных.



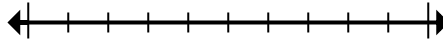
9. \_\_\_\_\_

10) Округлите 6 435 до ближайших тысячных.



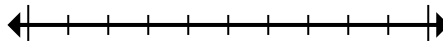
10. \_\_\_\_\_

11) Округлите 29 689 529 до ближайших ста тысячных.



11. \_\_\_\_\_

12) Округлите 4 801 539 до ближайших десяти тысячных.



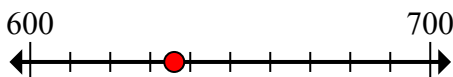
12. \_\_\_\_\_



Обозначьте местоположение (приблизительное) на числовой прямой при решении.

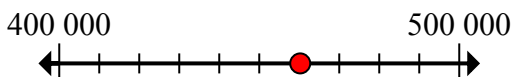
**Ответы**

1) Округлите 636 до ближайших сотых.



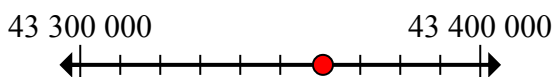
1. 600

2) Округлите 460 239 до ближайших ста тысячных.



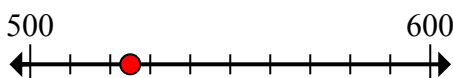
2. 500 000

3) Округлите 43 360 678 до ближайших ста тысячных.



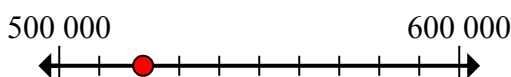
3. 43 400 000

4) Округлите 525 до ближайших сотых.



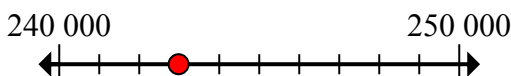
4. 500

5) Округлите 520 968 до ближайших ста тысячных.



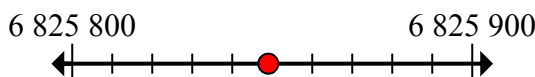
5. 500 000

6) Округлите 242 983 до ближайших десяти тысячных.



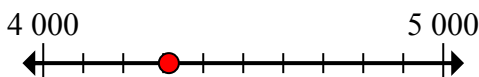
6. 240 000

7) Округлите 6 825 849 до ближайших сотых.



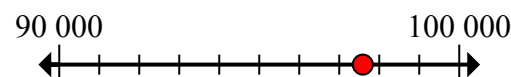
7. 6 825 800

8) Округлите 4 314 до ближайших тысячных.



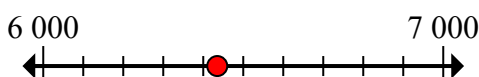
8. 4 000

9) Округлите 97 589 до ближайших десяти тысячных.



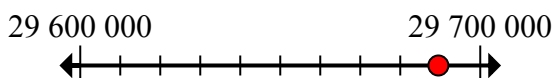
9. 100 000

10) Округлите 6 435 до ближайших тысячных.



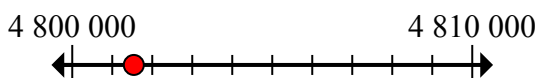
10. 6 000

11) Округлите 29 689 529 до ближайших ста тысячных.



11. 29 700 000

12) Округлите 4 801 539 до ближайших десяти тысячных.



12. 4 800 000



Обозначьте местоположение (приблизительное) на числовой прямой при решении.

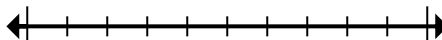
**Отвeты**

4 800 000	43 400 000	600	500
29 700 000	6 825 800	240 000	500 000
4 000	100 000	500 000	6 000

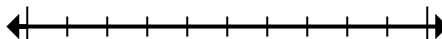
1) Округлите 636 до ближайших сотых.



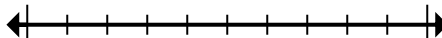
2) Округлите 460 239 до ближайших ста тысячных.



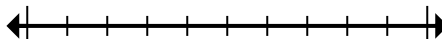
3) Округлите 43 360 678 до ближайших ста тысячных.



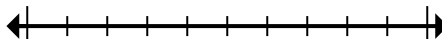
4) Округлите 525 до ближайших сотых.



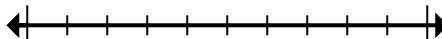
5) Округлите 520 968 до ближайших ста тысячных.



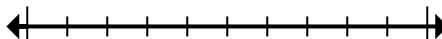
6) Округлите 242 983 до ближайших десяти тысячных.



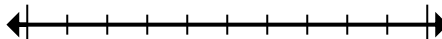
7) Округлите 6 825 849 до ближайших сотых.



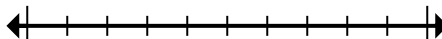
8) Округлите 4 314 до ближайших тысячных.



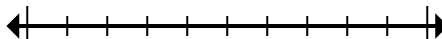
9) Округлите 97 589 до ближайших десяти тысячных.



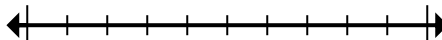
10) Округлите 6 435 до ближайших тысячных.



11) Округлите 29 689 529 до ближайших ста тысячных.



12) Округлите 4 801 539 до ближайших десяти тысячных.



1. \_\_\_\_\_
2. \_\_\_\_\_
3. \_\_\_\_\_
4. \_\_\_\_\_
5. \_\_\_\_\_
6. \_\_\_\_\_
7. \_\_\_\_\_
8. \_\_\_\_\_
9. \_\_\_\_\_
10. \_\_\_\_\_
11. \_\_\_\_\_
12. \_\_\_\_\_