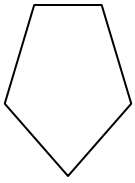




Определите, какая буква **НАИЛУЧШИМ** представляет формы, которые использовались для создания показанной фигуры.

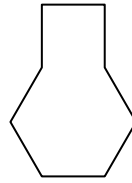
ОТВЕТЫ

1)



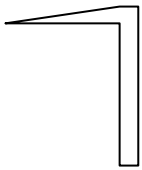
- A. шестиугольник & треугольник
- B. четырехугольник & треугольник
- C. прямоугольник & пятиугольник
- D. прямоугольник & восьмиугольник

2)



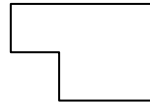
- A. пятиугольник & квадрат
- B. квадрат & семиугольник
- C. шестиугольник & квадрат
- D. квадрат & треугольник

3)




- A. четырехугольник & треугольник
- B. квадрат & четырехугольник
- C. семиугольник & восьмиугольник
- D. шестиугольник & семиугольник

4)



- A. прямоугольник & квадрат
- B. шестиугольник & квадрат
- C. четырехугольник & восьмиугольник
- D. прямоугольник & треугольник

5)



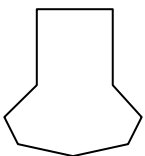
- A. треугольник & треугольник
- B. прямоугольник & шестиугольник
- C. пятиугольник & четырехугольник
- D. прямоугольник & четырехугольник

6)



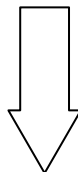
- A. четырехугольник & шестиугольник
- B. четырехугольник & семиугольник
- C. шестиугольник & четырехугольник
- D. четырехугольник & треугольник

7)



- A. семиугольник & прямоугольник
- B. квадрат & прямоугольник
- C. семиугольник & четырехугольник
- D. пятиугольник & восьмиугольник

8)



- A. шестиугольник & восьмиугольник
- B. восьмиугольник & квадрат
- C. треугольник & пятиугольник
- D. прямоугольник & треугольник

1. _____

2. _____

3. _____

4. _____

5. _____

6. _____

7. _____

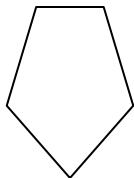
8. _____



Определите, какая буква **НАИЛУЧШИМ** представляет формы, которые использовались для создания показанной фигуры.

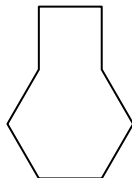
ОТВЕТЫ

1)



- A. шестиугольник & треугольник
- B. четырехугольник & треугольник
- C. прямоугольник & пятиугольник
- D. прямоугольник & восьмиугольник

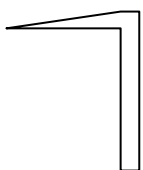
2)



- A. пятиугольник & квадрат
- B. квадрат & семиугольник
- C. шестиугольник & квадрат
- D. квадрат & треугольник

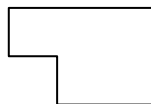
1. **B** 2. **C** 3. **A** 4. **A** 5. **A**

3)



- A. четырехугольник & треугольник
- B. квадрат & четырехугольник
- C. семиугольник & восьмиугольник
- D. шестиугольник & семиугольник

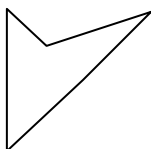
4)



- A. прямоугольник & квадрат
- B. шестиугольник & квадрат
- C. четырехугольник & восьмиугольник
- D. прямоугольник & треугольник

6. **C** 7. **C** 8. **D**

5)



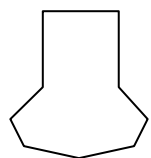
- A. треугольник & треугольник
- B. прямоугольник & шестиугольник
- C. пятиугольник & четырехугольник
- D. прямоугольник & четырехугольник

6)



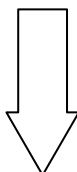
- A. четырехугольник & шестиугольник
- B. четырехугольник & семиугольник
- C. шестиугольник & четырехугольник
- D. четырехугольник & треугольник

7)



- A. семиугольник & прямоугольник
- B. квадрат & прямоугольник
- C. семиугольник & четырехугольник
- D. пятиугольник & восьмиугольник

8)



- A. шестиугольник & восьмиугольник
- B. восьмиугольник & квадрат
- C. треугольник & пятиугольник
- D. прямоугольник & треугольник