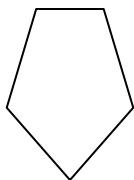




Определите, какая буква **НАИЛУЧШИМ** представляет формы, которые использовались для создания показанной фигуры.

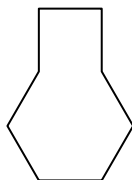
**ОТВЕТЫ**

1)



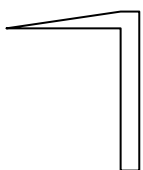
- A. шестиугольник & треугольник
- B. четырехугольник & треугольник
- C. прямоугольник & пятиугольник
- D. прямоугольник & восьмиугольник

2)



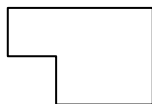
- A. пятиугольник & квадрат
- B. квадрат & семиугольник
- C. шестиугольник & квадрат
- D. квадрат & треугольник

3)



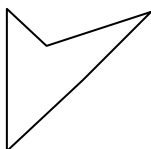
- A. четырехугольник & треугольник
- B. квадрат & четырехугольник
- C. семиугольник & восьмиугольник
- D. шестиугольник & семиугольник

4)



- A. прямоугольник & квадрат
- B. шестиугольник & квадрат
- C. четырехугольник & восьмиугольник
- D. прямоугольник & треугольник

5)



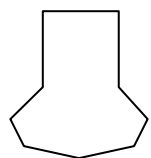
- A. треугольник & треугольник
- B. прямоугольник & шестиугольник
- C. пятиугольник & четырехугольник
- D. прямоугольник & четырехугольник

6)



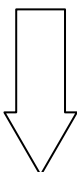
- A. четырехугольник & шестиугольник
- B. четырехугольник & семиугольник
- C. шестиугольник & четырехугольник
- D. четырехугольник & треугольник

7)



- A. семиугольник & прямоугольник
- B. квадрат & прямоугольник
- C. семиугольник & четырехугольник
- D. пятиугольник & восьмиугольник

8)

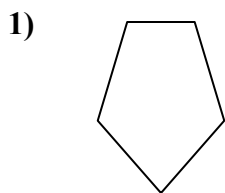


- A. шестиугольник & восьмиугольник
- B. восьмиугольник & квадрат
- C. треугольник & пятиугольник
- D. прямоугольник & треугольник

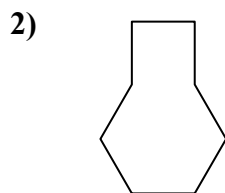
1. \_\_\_\_\_
2. \_\_\_\_\_
3. \_\_\_\_\_
4. \_\_\_\_\_
5. \_\_\_\_\_
6. \_\_\_\_\_
7. \_\_\_\_\_
8. \_\_\_\_\_



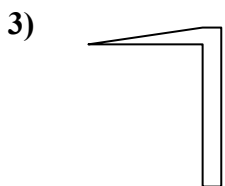
Определите, какая буква **НАИЛУЧШИМ** представляет формы, которые использовались для создания показанной фигуры.

**ОТВЕТЫ**

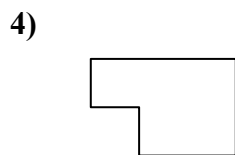
- A. шестиугольник & треугольник
- B. четырехугольник & треугольник
- C. прямоугольник & пятиугольник
- D. прямоугольник & восьмиугольник




- A. пятиугольник & квадрат
- B. квадрат & семиугольник
- C. шестиугольник & квадрат
- D. квадрат & треугольник



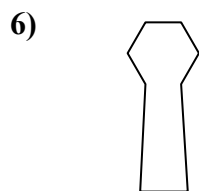
- A. четырехугольник & треугольник
- B. квадрат & четырехугольник
- C. семиугольник & восьмиугольник
- D. шестиугольник & семиугольник



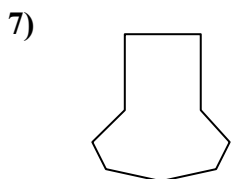
- A. прямоугольник & квадрат
- B. шестиугольник & квадрат
- C. четырехугольник & восьмиугольник
- D. прямоугольник & треугольник



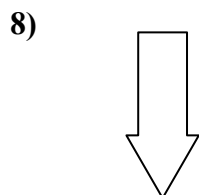
- A. треугольник & треугольник
- B. прямоугольник & шестиугольник
- C. пятиугольник & четырехугольник
- D. прямоугольник & четырехугольник



- A. четырехугольник & шестиугольник
- B. четырехугольник & семиугольник
- C. шестиугольник & четырехугольник
- D. четырехугольник & треугольник



- A. семиугольник & прямоугольник
- B. квадрат & прямоугольник
- C. семиугольник & четырехугольник
- D. пятиугольник & восьмиугольник



- A. шестиугольник & восьмиугольник
- B. восьмиугольник & квадрат
- C. треугольник & пятиугольник
- D. прямоугольник & треугольник

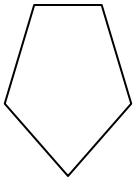
1.   **B**  2.   **C**  3.   **A**  4.   **A**  5.   **A**  6.   **C**  7.   **C**  8.   **D**



Определите, какая буква **НАИЛУЧШИМ** представляет формы, которые использовались для создания показанной фигуры.

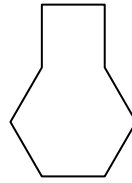
**ОТВЕТЫ**

1)



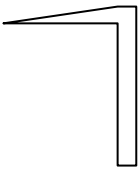
- A. шестиугольник & треугольник
- B. четырехугольник & треугольник
- C. прямоугольник & пятиугольник
- D. прямоугольник & восьмиугольник

2)



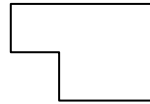
- A. пятиугольник & квадрат
- B. квадрат & семиугольник
- C. шестиугольник & квадрат
- D. квадрат & треугольник

3)




- A. четырехугольник & треугольник
- B. квадрат & четырехугольник
- C. семиугольник & восьмиугольник
- D. шестиугольник & семиугольник

4)



- A. прямоугольник & квадрат
- B. шестиугольник & квадрат
- C. четырехугольник & восьмиугольник
- D. прямоугольник & треугольник

5)



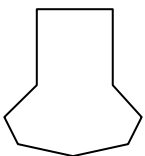
- A. треугольник & треугольник
- B. прямоугольник & шестиугольник
- C. пятиугольник & четырехугольник
- D. прямоугольник & четырехугольник

6)



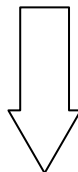
- A. четырехугольник & шестиугольник
- B. четырехугольник & семиугольник
- C. шестиугольник & четырехугольник
- D. четырехугольник & треугольник

7)



- A. семиугольник & прямоугольник
- B. квадрат & прямоугольник
- C. семиугольник & четырехугольник
- D. пятиугольник & восьмиугольник

8)



- A. шестиугольник & восьмиугольник
- B. восьмиугольник & квадрат
- C. треугольник & пятиугольник
- D. прямоугольник & треугольник

1. \_\_\_\_\_

2. \_\_\_\_\_

3. \_\_\_\_\_

4. \_\_\_\_\_

5. \_\_\_\_\_

6. \_\_\_\_\_

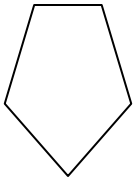
7. \_\_\_\_\_

8. \_\_\_\_\_



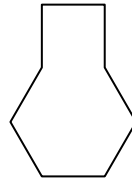
Определите, какая буква **НАИЛУЧШИМ** представляет формы, которые использовались для создания показанной фигуры.

1)



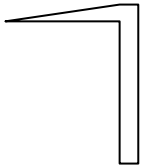
- A. шестиугольник & треугольник
- B. четырехугольник & треугольник
- C. прямоугольник & пятиугольник
- D. прямоугольник & восьмиугольник

2)



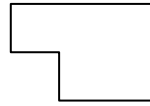
- A. пятиугольник & квадрат
- B. квадрат & семиугольник
- C. шестиугольник & квадрат
- D. квадрат & треугольник

3)




- A. четырехугольник & треугольник
- B. квадрат & четырехугольник
- C. семиугольник & восьмиугольник
- D. шестиугольник & семиугольник

4)



- A. прямоугольник & квадрат
- B. шестиугольник & квадрат
- C. четырехугольник & восьмиугольник
- D. прямоугольник & треугольник

5)



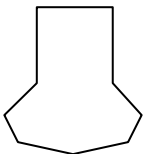
- A. треугольник & треугольник
- B. прямоугольник & шестиугольник
- C. пятиугольник & четырехугольник
- D. прямоугольник & четырехугольник

6)



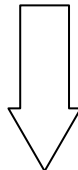
- A. четырехугольник & шестиугольник
- B. четырехугольник & семиугольник
- C. шестиугольник & четырехугольник
- D. четырехугольник & треугольник

7)



- A. семиугольник & прямоугольник
- B. квадрат & прямоугольник
- C. семиугольник & четырехугольник
- D. пятиугольник & восьмиугольник

8)



- A. шестиугольник & восьмиугольник
- B. восьмиугольник & квадрат
- C. треугольник & пятиугольник
- D. прямоугольник & треугольник

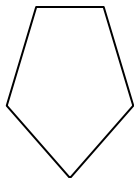
**ОТВЕТЫ**1. В2. С3. А4. А5. А6. С7. С8. Д



Определите, какая буква **НАИЛУЧШИМ** представляет формы, которые использовались для создания показанной фигуры.

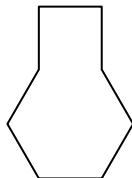
**ОТВЕТЫ**

1)



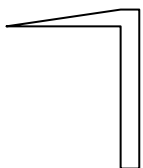
- A. шестиугольник & треугольник
- B. четырехугольник & треугольник
- C. прямоугольник & пятиугольник
- D. прямоугольник & восьмиугольник

2)



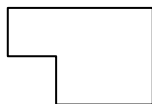
- A. пятиугольник & квадрат
- B. квадрат & семиугольник
- C. шестиугольник & квадрат
- D. квадрат & треугольник

3)



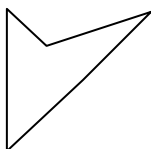
- A. четырехугольник & треугольник
- B. квадрат & четырехугольник
- C. семиугольник & восьмиугольник
- D. шестиугольник & семиугольник

4)



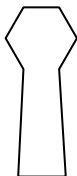
- A. прямоугольник & квадрат
- B. шестиугольник & квадрат
- C. четырехугольник & восьмиугольник
- D. прямоугольник & треугольник

5)



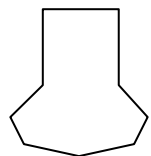
- A. треугольник & треугольник
- B. прямоугольник & шестиугольник
- C. пятиугольник & четырехугольник
- D. прямоугольник & четырехугольник

6)



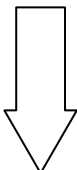
- A. четырехугольник & шестиугольник
- B. четырехугольник & семиугольник
- C. шестиугольник & четырехугольник
- D. четырехугольник & треугольник

7)



- A. семиугольник & прямоугольник
- B. квадрат & прямоугольник
- C. семиугольник & четырехугольник
- D. пятиугольник & восьмиугольник

8)



- A. шестиугольник & восьмиугольник
- B. восьмиугольник & квадрат
- C. треугольник & пятиугольник
- D. прямоугольник & треугольник

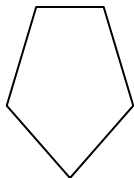
1. \_\_\_\_\_
2. \_\_\_\_\_
3. \_\_\_\_\_
4. \_\_\_\_\_
5. \_\_\_\_\_
6. \_\_\_\_\_
7. \_\_\_\_\_
8. \_\_\_\_\_



Определите, какая буква **НАИЛУЧШИМ** представляет формы, которые использовались для создания показанной фигуры.

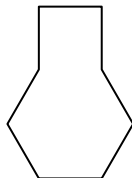
**ОТВЕТЫ**

1)



- A. шестиугольник & треугольник
- B. четырехугольник & треугольник
- C. прямоугольник & пятиугольник
- D. прямоугольник & восьмиугольник

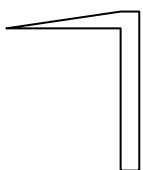
2)



- A. пятиугольник & квадрат
- B. квадрат & семиугольник
- C. шестиугольник & квадрат
- D. квадрат & треугольник

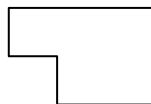
1.   **B**  2.   **C**  3.   **A**  4.   **A**  5.   **A**  

3)



- A. четырехугольник & треугольник
- B. квадрат & четырехугольник
- C. семиугольник & восьмиугольник
- D. шестиугольник & семиугольник

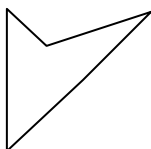
4)



- A. прямоугольник & квадрат
- B. шестиугольник & квадрат
- C. четырехугольник & восьмиугольник
- D. прямоугольник & треугольник

6.   **C**  7.   **C**  8.   **D**  

5)



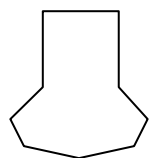
- A. треугольник & треугольник
- B. прямоугольник & шестиугольник
- C. пятиугольник & четырехугольник
- D. прямоугольник & четырехугольник

6)



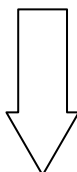
- A. четырехугольник & шестиугольник
- B. четырехугольник & семиугольник
- C. шестиугольник & четырехугольник
- D. четырехугольник & треугольник

7)



- A. семиугольник & прямоугольник
- B. квадрат & прямоугольник
- C. семиугольник & четырехугольник
- D. пятиугольник & восьмиугольник

8)



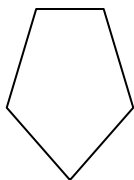
- A. шестиугольник & восьмиугольник
- B. восьмиугольник & квадрат
- C. треугольник & пятиугольник
- D. прямоугольник & треугольник



Определите, какая буква **НАИЛУЧШИМ** представляет формы, которые использовались для создания показанной фигуры.

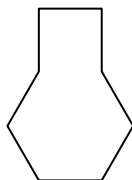
**ОТВЕТЫ**

1)



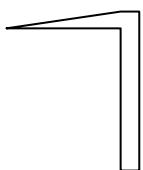
- A. шестиугольник & треугольник
- B. четырехугольник & треугольник
- C. прямоугольник & пятиугольник
- D. прямоугольник & восьмиугольник

2)



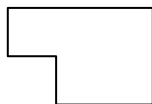
- A. пятиугольник & квадрат
- B. квадрат & семиугольник
- C. шестиугольник & квадрат
- D. квадрат & треугольник

3)



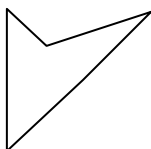
- A. четырехугольник & треугольник
- B. квадрат & четырехугольник
- C. семиугольник & восьмиугольник
- D. шестиугольник & семиугольник

4)



- A. прямоугольник & квадрат
- B. шестиугольник & квадрат
- C. четырехугольник & восьмиугольник
- D. прямоугольник & треугольник

5)



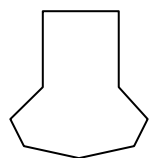
- A. треугольник & треугольник
- B. прямоугольник & шестиугольник
- C. пятиугольник & четырехугольник
- D. прямоугольник & четырехугольник

6)



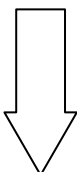
- A. четырехугольник & шестиугольник
- B. четырехугольник & семиугольник
- C. шестиугольник & четырехугольник
- D. четырехугольник & треугольник

7)



- A. семиугольник & прямоугольник
- B. квадрат & прямоугольник
- C. семиугольник & четырехугольник
- D. пятиугольник & восьмиугольник

8)

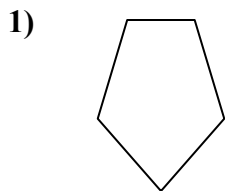


- A. шестиугольник & восьмиугольник
- B. восьмиугольник & квадрат
- C. треугольник & пятиугольник
- D. прямоугольник & треугольник

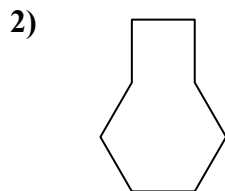
1. \_\_\_\_\_
2. \_\_\_\_\_
3. \_\_\_\_\_
4. \_\_\_\_\_
5. \_\_\_\_\_
6. \_\_\_\_\_
7. \_\_\_\_\_
8. \_\_\_\_\_



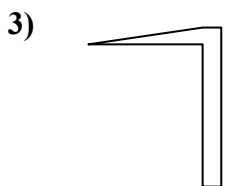
Определите, какая буква **НАИЛУЧШИМ** представляет формы, которые использовались для создания показанной фигуры.

**ОТВЕТЫ**

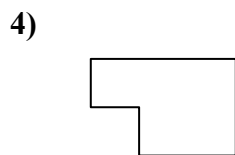
- A. шестиугольник & треугольник
- B. четырехугольник & треугольник
- C. прямоугольник & пятиугольник
- D. прямоугольник & восьмиугольник




- A. пятиугольник & квадрат
- B. квадрат & семиугольник
- C. шестиугольник & квадрат
- D. квадрат & треугольник



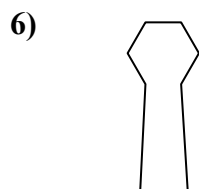
- A. четырехугольник & треугольник
- B. квадрат & четырехугольник
- C. семиугольник & восьмиугольник
- D. шестиугольник & семиугольник



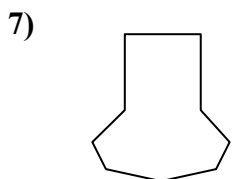
- A. прямоугольник & квадрат
- B. шестиугольник & квадрат
- C. четырехугольник & восьмиугольник
- D. прямоугольник & треугольник



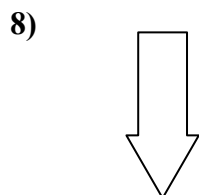
- A. треугольник & треугольник
- B. прямоугольник & шестиугольник
- C. пятиугольник & четырехугольник
- D. прямоугольник & четырехугольник



- A. четырехугольник & шестиугольник
- B. четырехугольник & семиугольник
- C. шестиугольник & четырехугольник
- D. четырехугольник & треугольник



- A. семиугольник & прямоугольник
- B. квадрат & прямоугольник
- C. семиугольник & четырехугольник
- D. пятиугольник & восьмиугольник



- A. шестиугольник & восьмиугольник
- B. восьмиугольник & квадрат
- C. треугольник & пятиугольник
- D. прямоугольник & треугольник

1. В2. С3. А4. А5. А6. С7. С8. Д

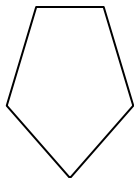




Определите, какая буква **НАИЛУЧШИМ** представляет формы, которые использовались для создания показанной фигуры.

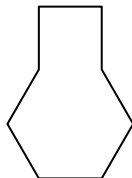
**ОТВЕТЫ**

1)



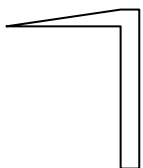
- A. шестиугольник & треугольник
- B. четырехугольник & треугольник
- C. прямоугольник & пятиугольник
- D. прямоугольник & восьмиугольник

2)



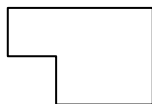
- A. пятиугольник & квадрат
- B. квадрат & семиугольник
- C. шестиугольник & квадрат
- D. квадрат & треугольник

3)



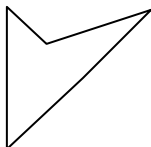
- A. четырехугольник & треугольник
- B. квадрат & четырехугольник
- C. семиугольник & восьмиугольник
- D. шестиугольник & семиугольник

4)



- A. прямоугольник & квадрат
- B. шестиугольник & квадрат
- C. четырехугольник & восьмиугольник
- D. прямоугольник & треугольник

5)



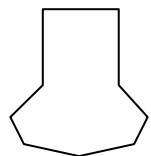
- A. треугольник & треугольник
- B. прямоугольник & шестиугольник
- C. пятиугольник & четырехугольник
- D. прямоугольник & четырехугольник

6)



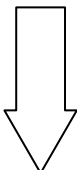
- A. четырехугольник & шестиугольник
- B. четырехугольник & семиугольник
- C. шестиугольник & четырехугольник
- D. четырехугольник & треугольник

7)



- A. семиугольник & прямоугольник
- B. квадрат & прямоугольник
- C. семиугольник & четырехугольник
- D. пятиугольник & восьмиугольник

8)



- A. шестиугольник & восьмиугольник
- B. восьмиугольник & квадрат
- C. треугольник & пятиугольник
- D. прямоугольник & треугольник

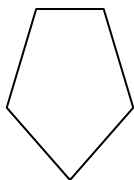
- 1. \_\_\_\_\_
- 2. \_\_\_\_\_
- 3. \_\_\_\_\_
- 4. \_\_\_\_\_
- 5. \_\_\_\_\_
- 6. \_\_\_\_\_
- 7. \_\_\_\_\_
- 8. \_\_\_\_\_



Определите, какая буква **НАИЛУЧШИМ** представляет формы, которые использовались для создания показанной фигуры.

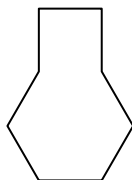
**ОТВЕТЫ**

1)



- A. шестиугольник & треугольник
- B. четырехугольник & треугольник
- C. прямоугольник & пятиугольник
- D. прямоугольник & восьмиугольник

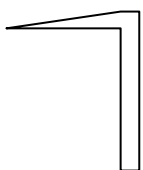
2)



- A. пятиугольник & квадрат
- B. квадрат & семиугольник
- C. шестиугольник & квадрат
- D. квадрат & треугольник

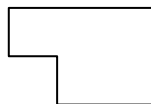
1.     **B**    2.     **C**    3.     **A**    4.     **A**    5.     **A**    

3)



- A. четырехугольник & треугольник
- B. квадрат & четырехугольник
- C. семиугольник & восьмиугольник
- D. шестиугольник & семиугольник

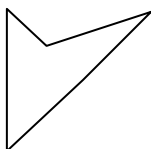
4)



- A. прямоугольник & квадрат
- B. шестиугольник & квадрат
- C. четырехугольник & восьмиугольник
- D. прямоугольник & треугольник

6.     **C**    7.     **C**    8.     **D**    

5)



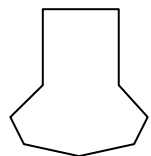
- A. треугольник & треугольник
- B. прямоугольник & шестиугольник
- C. пятиугольник & четырехугольник
- D. прямоугольник & четырехугольник

6)



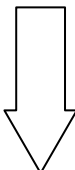
- A. четырехугольник & шестиугольник
- B. четырехугольник & семиугольник
- C. шестиугольник & четырехугольник
- D. четырехугольник & треугольник

7)



- A. семиугольник & прямоугольник
- B. квадрат & прямоугольник
- C. семиугольник & четырехугольник
- D. пятиугольник & восьмиугольник

8)



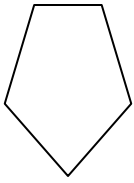
- A. шестиугольник & восьмиугольник
- B. восьмиугольник & квадрат
- C. треугольник & пятиугольник
- D. прямоугольник & треугольник



Определите, какая буква **НАИЛУЧШИМ** представляет формы, которые использовались для создания показанной фигуры.

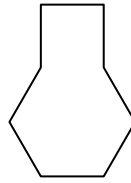
**ОТВЕТЫ**

1)



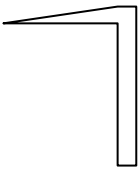
- A. шестиугольник & треугольник
- B. четырехугольник & треугольник
- C. прямоугольник & пятиугольник
- D. прямоугольник & восьмиугольник

2)



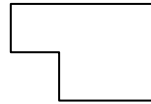
- A. пятиугольник & квадрат
- B. квадрат & семиугольник
- C. шестиугольник & квадрат
- D. квадрат & треугольник

3)




- A. четырехугольник & треугольник
- B. квадрат & четырехугольник
- C. семиугольник & восьмиугольник
- D. шестиугольник & семиугольник

4)



- A. прямоугольник & квадрат
- B. шестиугольник & квадрат
- C. четырехугольник & восьмиугольник
- D. прямоугольник & треугольник

5)



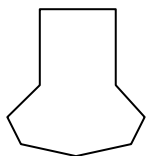
- A. треугольник & треугольник
- B. прямоугольник & шестиугольник
- C. пятиугольник & четырехугольник
- D. прямоугольник & четырехугольник

6)



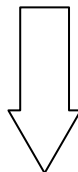
- A. четырехугольник & шестиугольник
- B. четырехугольник & семиугольник
- C. шестиугольник & четырехугольник
- D. четырехугольник & треугольник

7)



- A. семиугольник & прямоугольник
- B. квадрат & прямоугольник
- C. семиугольник & четырехугольник
- D. пятиугольник & восьмиугольник

8)



- A. шестиугольник & восьмиугольник
- B. восьмиугольник & квадрат
- C. треугольник & пятиугольник
- D. прямоугольник & треугольник

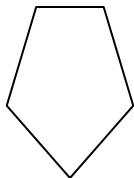
1. \_\_\_\_\_
2. \_\_\_\_\_
3. \_\_\_\_\_
4. \_\_\_\_\_
5. \_\_\_\_\_
6. \_\_\_\_\_
7. \_\_\_\_\_
8. \_\_\_\_\_



Определите, какая буква **НАИЛУЧШИМ** представляет формы, которые использовались для создания показанной фигуры.

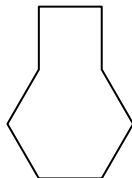
**ОТВЕТЫ**

1)



- A. шестиугольник & треугольник
- B. четырехугольник & треугольник
- C. прямоугольник & пятиугольник
- D. прямоугольник & восьмиугольник

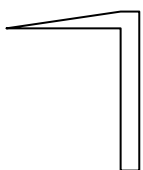
2)



- A. пятиугольник & квадрат
- B. квадрат & семиугольник
- C. шестиугольник & квадрат
- D. квадрат & треугольник

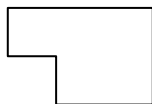
1.     **B**    2.     **C**    3.     **A**    4.     **A**    5.     **A**    

3)



- A. четырехугольник & треугольник
- B. квадрат & четырехугольник
- C. семиугольник & восьмиугольник
- D. шестиугольник & семиугольник

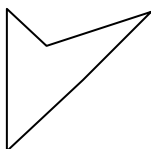
4)



- A. прямоугольник & квадрат
- B. шестиугольник & квадрат
- C. четырехугольник & восьмиугольник
- D. прямоугольник & треугольник

6.     **C**    7.     **C**    8.     **D**    

5)



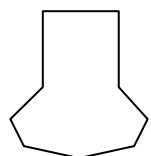
- A. треугольник & треугольник
- B. прямоугольник & шестиугольник
- C. пятиугольник & четырехугольник
- D. прямоугольник & четырехугольник

6)



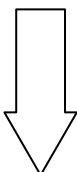
- A. четырехугольник & шестиугольник
- B. четырехугольник & семиугольник
- C. шестиугольник & четырехугольник
- D. четырехугольник & треугольник

7)



- A. семиугольник & прямоугольник
- B. квадрат & прямоугольник
- C. семиугольник & четырехугольник
- D. пятиугольник & восьмиугольник

8)



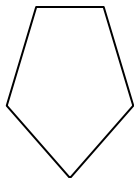
- A. шестиугольник & восьмиугольник
- B. восьмиугольник & квадрат
- C. треугольник & пятиугольник
- D. прямоугольник & треугольник



Определите, какая буква **НАИЛУЧШИМ** представляет формы, которые использовались для создания показанной фигуры.

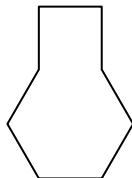
**ОТВЕТЫ**

1)



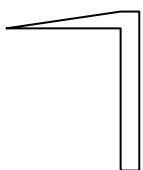
- A. шестиугольник & треугольник
- B. четырехугольник & треугольник
- C. прямоугольник & пятиугольник
- D. прямоугольник & восьмиугольник

2)



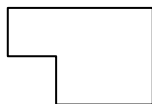
- A. пятиугольник & квадрат
- B. квадрат & семиугольник
- C. шестиугольник & квадрат
- D. квадрат & треугольник

3)



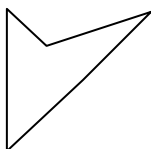
- A. четырехугольник & треугольник
- B. квадрат & четырехугольник
- C. семиугольник & восьмиугольник
- D. шестиугольник & семиугольник

4)



- A. прямоугольник & квадрат
- B. шестиугольник & квадрат
- C. четырехугольник & восьмиугольник
- D. прямоугольник & треугольник

5)



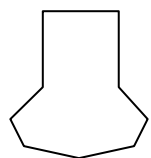
- A. треугольник & треугольник
- B. прямоугольник & шестиугольник
- C. пятиугольник & четырехугольник
- D. прямоугольник & четырехугольник

6)



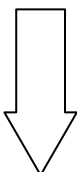
- A. четырехугольник & шестиугольник
- B. четырехугольник & семиугольник
- C. шестиугольник & четырехугольник
- D. четырехугольник & треугольник

7)



- A. семиугольник & прямоугольник
- B. квадрат & прямоугольник
- C. семиугольник & четырехугольник
- D. пятиугольник & восьмиугольник

8)



- A. шестиугольник & восьмиугольник
- B. восьмиугольник & квадрат
- C. треугольник & пятиугольник
- D. прямоугольник & треугольник

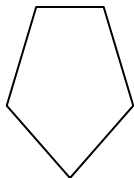
1. \_\_\_\_\_
2. \_\_\_\_\_
3. \_\_\_\_\_
4. \_\_\_\_\_
5. \_\_\_\_\_
6. \_\_\_\_\_
7. \_\_\_\_\_
8. \_\_\_\_\_



Определите, какая буква **НАИЛУЧШИМ** представляет формы, которые использовались для создания показанной фигуры.

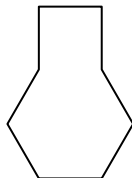
**ОТВЕТЫ**

1)



- A. шестиугольник & треугольник
- B. четырехугольник & треугольник
- C. прямоугольник & пятиугольник
- D. прямоугольник & восьмиугольник

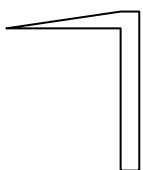
2)



- A. пятиугольник & квадрат
- B. квадрат & семиугольник
- C. шестиугольник & квадрат
- D. квадрат & треугольник

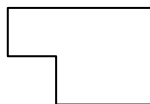
1.      **B**2.      **C**3.      **A**4.      **A**5.      **A**

3)



- A. четырехугольник & треугольник
- B. квадрат & четырехугольник
- C. семиугольник & восьмиугольник
- D. шестиугольник & семиугольник

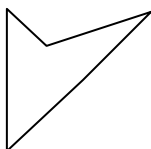
4)



- A. прямоугольник & квадрат
- B. шестиугольник & квадрат
- C. четырехугольник & восьмиугольник
- D. прямоугольник & треугольник

6.      **C**7.      **C**8.      **D**

5)



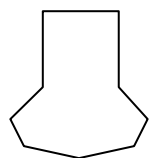
- A. треугольник & треугольник
- B. прямоугольник & шестиугольник
- C. пятиугольник & четырехугольник
- D. прямоугольник & четырехугольник

6)



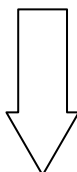
- A. четырехугольник & шестиугольник
- B. четырехугольник & семиугольник
- C. шестиугольник & четырехугольник
- D. четырехугольник & треугольник

7)



- A. семиугольник & прямоугольник
- B. квадрат & прямоугольник
- C. семиугольник & четырехугольник
- D. пятиугольник & восьмиугольник

8)



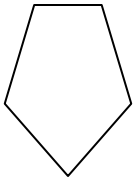
- A. шестиугольник & восьмиугольник
- B. восьмиугольник & квадрат
- C. треугольник & пятиугольник
- D. прямоугольник & треугольник



Определите, какая буква **НАИЛУЧШИМ** представляет формы, которые использовались для создания показанной фигуры.

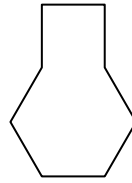
**ОТВЕТЫ**

1)



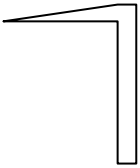
- A. шестиугольник & треугольник
- B. четырехугольник & треугольник
- C. прямоугольник & пятиугольник
- D. прямоугольник & восьмиугольник

2)



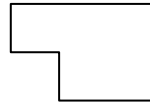
- A. пятиугольник & квадрат
- B. квадрат & семиугольник
- C. шестиугольник & квадрат
- D. квадрат & треугольник

3)




- A. четырехугольник & треугольник
- B. квадрат & четырехугольник
- C. семиугольник & восьмиугольник
- D. шестиугольник & семиугольник

4)



- A. прямоугольник & квадрат
- B. шестиугольник & квадрат
- C. четырехугольник & восьмиугольник
- D. прямоугольник & треугольник

5)



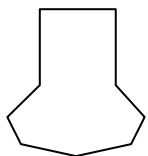
- A. треугольник & треугольник
- B. прямоугольник & шестиугольник
- C. пятиугольник & четырехугольник
- D. прямоугольник & четырехугольник

6)



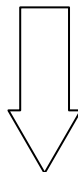
- A. четырехугольник & шестиугольник
- B. четырехугольник & семиугольник
- C. шестиугольник & четырехугольник
- D. четырехугольник & треугольник

7)



- A. семиугольник & прямоугольник
- B. квадрат & прямоугольник
- C. семиугольник & четырехугольник
- D. пятиугольник & восьмиугольник

8)



- A. шестиугольник & восьмиугольник
- B. восьмиугольник & квадрат
- C. треугольник & пятиугольник
- D. прямоугольник & треугольник

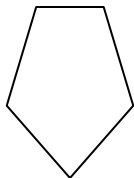
1. \_\_\_\_\_
2. \_\_\_\_\_
3. \_\_\_\_\_
4. \_\_\_\_\_
5. \_\_\_\_\_
6. \_\_\_\_\_
7. \_\_\_\_\_
8. \_\_\_\_\_



Определите, какая буква **НАИЛУЧШИМ** представляет формы, которые использовались для создания показанной фигуры.

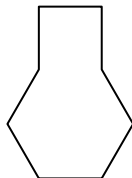
**ОТВЕТЫ**

1)



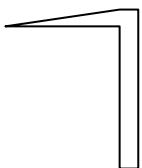
- A. шестиугольник & треугольник
- B. четырехугольник & треугольник
- C. прямоугольник & пятиугольник
- D. прямоугольник & восьмиугольник

2)



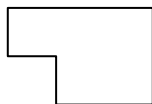
- A. пятиугольник & квадрат
- B. квадрат & семиугольник
- C. шестиугольник & квадрат
- D. квадрат & треугольник

3)



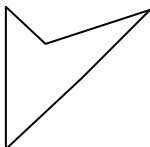
- A. четырехугольник & треугольник
- B. квадрат & четырехугольник
- C. семиугольник & восьмиугольник
- D. шестиугольник & семиугольник

4)



- A. прямоугольник & квадрат
- B. шестиугольник & квадрат
- C. четырехугольник & восьмиугольник
- D. прямоугольник & треугольник

5)



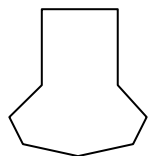
- A. треугольник & треугольник
- B. прямоугольник & шестиугольник
- C. пятиугольник & четырехугольник
- D. прямоугольник & четырехугольник

6)



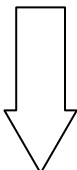
- A. четырехугольник & шестиугольник
- B. четырехугольник & семиугольник
- C. шестиугольник & четырехугольник
- D. четырехугольник & треугольник

7)



- A. семиугольник & прямоугольник
- B. квадрат & прямоугольник
- C. семиугольник & четырехугольник
- D. пятиугольник & восьмиугольник

8)



- A. шестиугольник & восьмиугольник
- B. восьмиугольник & квадрат
- C. треугольник & пятиугольник
- D. прямоугольник & треугольник

1.   **B**  2.   **C**  3.   **A**  4.   **A**  5.   **A**  6.   **C**  7.   **C**  8.   **D**





Определите, какая буква **НАИЛУЧШИМ** представляет формы, которые использовались для создания показанной фигуры.

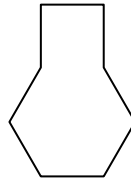
**ОТВЕТЫ**

1)



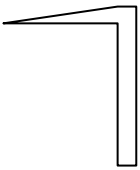
- A. шестиугольник & треугольник
- B. четырехугольник & треугольник
- C. прямоугольник & пятиугольник
- D. прямоугольник & восьмиугольник

2)



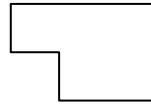
- A. пятиугольник & квадрат
- B. квадрат & семиугольник
- C. шестиугольник & квадрат
- D. квадрат & треугольник

3)




- A. четырехугольник & треугольник
- B. квадрат & четырехугольник
- C. семиугольник & восьмиугольник
- D. шестиугольник & семиугольник

4)



- A. прямоугольник & квадрат
- B. шестиугольник & квадрат
- C. четырехугольник & восьмиугольник
- D. прямоугольник & треугольник

5)



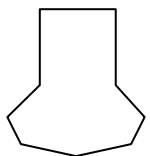
- A. треугольник & треугольник
- B. прямоугольник & шестиугольник
- C. пятиугольник & четырехугольник
- D. прямоугольник & четырехугольник

6)



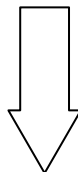
- A. четырехугольник & шестиугольник
- B. четырехугольник & семиугольник
- C. шестиугольник & четырехугольник
- D. четырехугольник & треугольник

7)



- A. семиугольник & прямоугольник
- B. квадрат & прямоугольник
- C. семиугольник & четырехугольник
- D. пятиугольник & восьмиугольник

8)



- A. шестиугольник & восьмиугольник
- B. восьмиугольник & квадрат
- C. треугольник & пятиугольник
- D. прямоугольник & треугольник

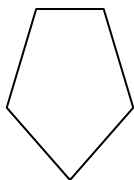
1. \_\_\_\_\_
2. \_\_\_\_\_
3. \_\_\_\_\_
4. \_\_\_\_\_
5. \_\_\_\_\_
6. \_\_\_\_\_
7. \_\_\_\_\_
8. \_\_\_\_\_



Определите, какая буква **НАИЛУЧШИМ** представляет формы, которые использовались для создания показанной фигуры.

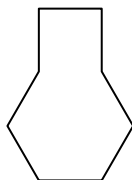
**ОТВЕТЫ**

1)



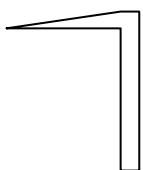
- A. шестиугольник & треугольник
- B. четырехугольник & треугольник
- C. прямоугольник & пятиугольник
- D. прямоугольник & восьмиугольник

2)



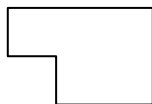
- A. пятиугольник & квадрат
- B. квадрат & семиугольник
- C. шестиугольник & квадрат
- D. квадрат & треугольник

3)



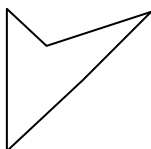
- A. четырехугольник & треугольник
- B. квадрат & четырехугольник
- C. семиугольник & восьмиугольник
- D. шестиугольник & семиугольник

4)



- A. прямоугольник & квадрат
- B. шестиугольник & квадрат
- C. четырехугольник & восьмиугольник
- D. прямоугольник & треугольник

5)



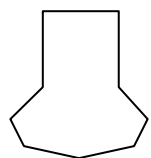
- A. треугольник & треугольник
- B. прямоугольник & шестиугольник
- C. пятиугольник & четырехугольник
- D. прямоугольник & четырехугольник

6)



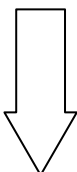
- A. четырехугольник & шестиугольник
- B. четырехугольник & семиугольник
- C. шестиугольник & четырехугольник
- D. четырехугольник & треугольник

7)



- A. семиугольник & прямоугольник
- B. квадрат & прямоугольник
- C. семиугольник & четырехугольник
- D. пятиугольник & восьмиугольник

8)



- A. шестиугольник & восьмиугольник
- B. восьмиугольник & квадрат
- C. треугольник & пятиугольник
- D. прямоугольник & треугольник

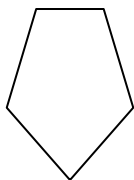
1.   **B**  2.   **C**  3.   **A**  4.   **A**  5.   **A**  6.   **C**  7.   **C**  8.   **D**



Определите, какая буква **НАИЛУЧШИМ** представляет формы, которые использовались для создания показанной фигуры.

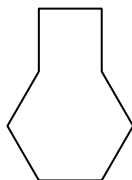
**ОТВЕТЫ**

1)



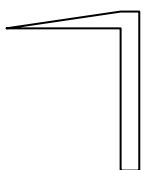
- A. шестиугольник & треугольник
- B. четырехугольник & треугольник
- C. прямоугольник & пятиугольник
- D. прямоугольник & восьмиугольник

2)



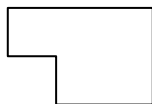
- A. пятиугольник & квадрат
- B. квадрат & семиугольник
- C. шестиугольник & квадрат
- D. квадрат & треугольник

3)



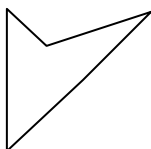
- A. четырехугольник & треугольник
- B. квадрат & четырехугольник
- C. семиугольник & восьмиугольник
- D. шестиугольник & семиугольник

4)



- A. прямоугольник & квадрат
- B. шестиугольник & квадрат
- C. четырехугольник & восьмиугольник
- D. прямоугольник & треугольник

5)



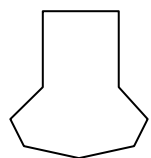
- A. треугольник & треугольник
- B. прямоугольник & шестиугольник
- C. пятиугольник & четырехугольник
- D. прямоугольник & четырехугольник

6)



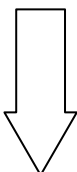
- A. четырехугольник & шестиугольник
- B. четырехугольник & семиугольник
- C. шестиугольник & четырехугольник
- D. четырехугольник & треугольник

7)



- A. семиугольник & прямоугольник
- B. квадрат & прямоугольник
- C. семиугольник & четырехугольник
- D. пятиугольник & восьмиугольник

8)

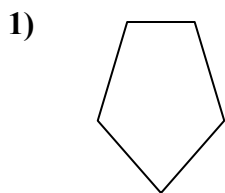


- A. шестиугольник & восьмиугольник
- B. восьмиугольник & квадрат
- C. треугольник & пятиугольник
- D. прямоугольник & треугольник

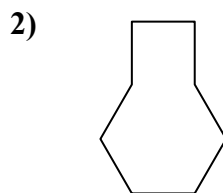
1. \_\_\_\_\_
2. \_\_\_\_\_
3. \_\_\_\_\_
4. \_\_\_\_\_
5. \_\_\_\_\_
6. \_\_\_\_\_
7. \_\_\_\_\_
8. \_\_\_\_\_



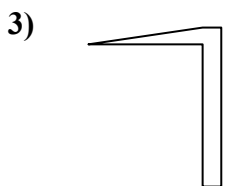
Определите, какая буква **НАИЛУЧШИМ** представляет формы, которые использовались для создания показанной фигуры.

**ОТВЕТЫ**

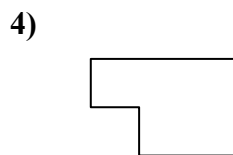
- A. шестиугольник & треугольник
- B. четырехугольник & треугольник
- C. прямоугольник & пятиугольник
- D. прямоугольник & восьмиугольник




- A. пятиугольник & квадрат
- B. квадрат & семиугольник
- C. шестиугольник & квадрат
- D. квадрат & треугольник



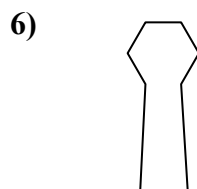
- A. четырехугольник & треугольник
- B. квадрат & четырехугольник
- C. семиугольник & восьмиугольник
- D. шестиугольник & семиугольник



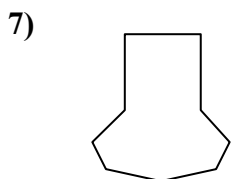
- A. прямоугольник & квадрат
- B. шестиугольник & квадрат
- C. четырехугольник & восьмиугольник
- D. прямоугольник & треугольник



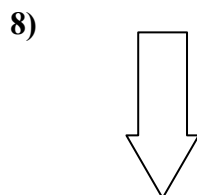
- A. треугольник & треугольник
- B. прямоугольник & шестиугольник
- C. пятиугольник & четырехугольник
- D. прямоугольник & четырехугольник



- A. четырехугольник & шестиугольник
- B. четырехугольник & семиугольник
- C. шестиугольник & четырехугольник
- D. четырехугольник & треугольник



- A. семиугольник & прямоугольник
- B. квадрат & прямоугольник
- C. семиугольник & четырехугольник
- D. пятиугольник & восьмиугольник



- A. шестиугольник & восьмиугольник
- B. восьмиугольник & квадрат
- C. треугольник & пятиугольник
- D. прямоугольник & треугольник

1. В2. С3. А4. А5. А6. С7. С8. Д