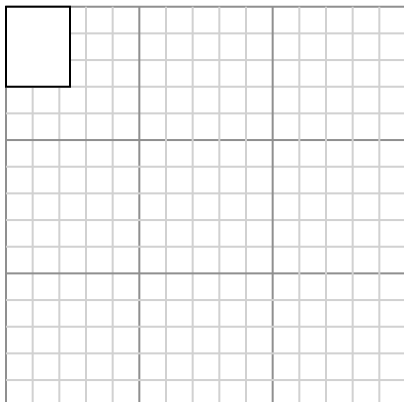




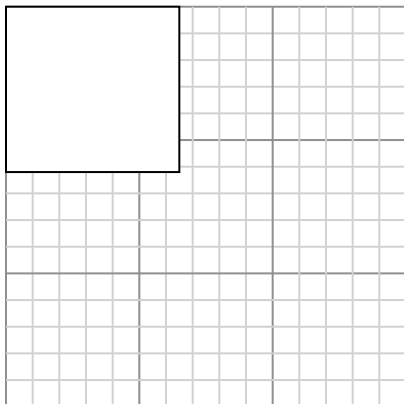
Нарисуйте каждый прямоугольник в указанном масштабе и определите новые размеры.

- 1) Прямоугольник ниже имеет размеры:
 2.4×3



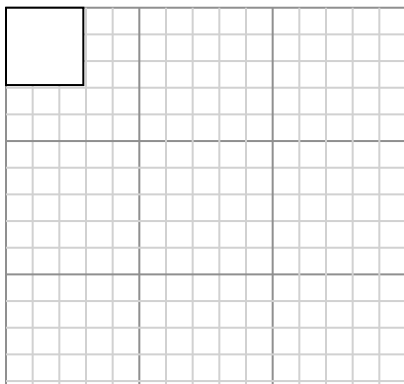
Создайте еще один прямоугольник, который масштабируется до 16, умноженного на размер текущего прямоугольника.

- 3) Прямоугольник ниже имеет размеры:
 6.5×6.2

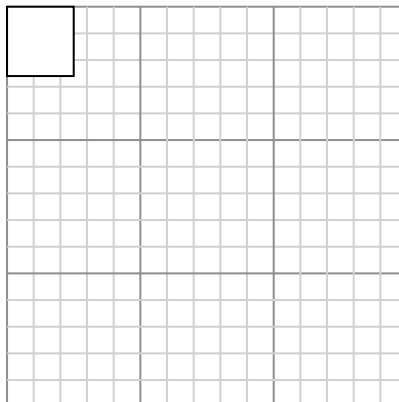


Создайте еще один прямоугольник, который масштабируется до 4, умноженного на размер текущего прямоугольника.

- 5) Прямоугольник ниже имеет размеры:
 2.9×2.9

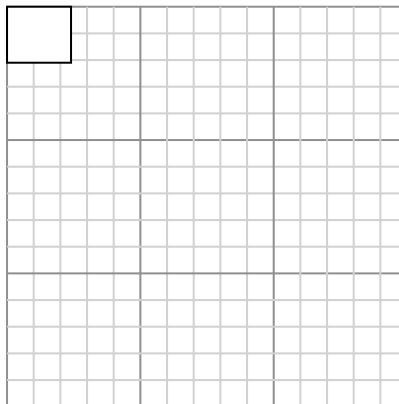


- 2) Прямоугольник ниже имеет размеры:
 2.5×2.6



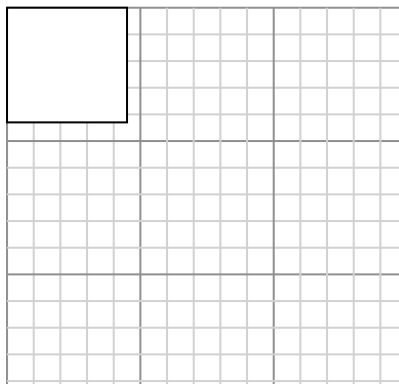
Создайте еще один прямоугольник, который масштабируется до 16, умноженного на размер текущего прямоугольника.

- 4) Прямоугольник ниже имеет размеры:
 2.4×2.1



Создайте еще один прямоугольник, который масштабируется до 16, умноженного на размер текущего прямоугольника.

- 6) Прямоугольник ниже имеет размеры:
 4.5×4.3



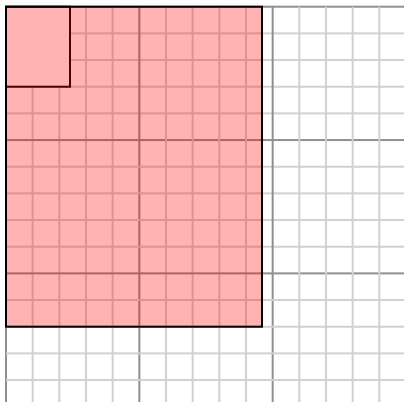
Ответы

1. _____
2. _____
3. _____
4. _____
5. _____
6. _____



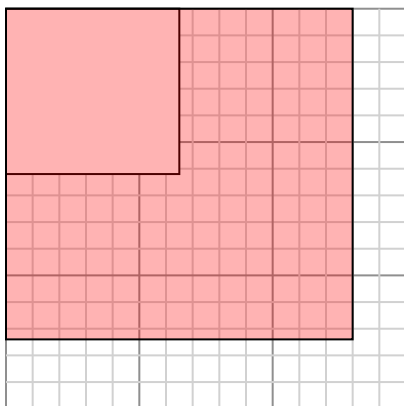
Нарисуйте каждый прямоугольник в указанном масштабе и определите новые размеры.

- 1) Прямоугольник ниже имеет размеры:
 2.4×3



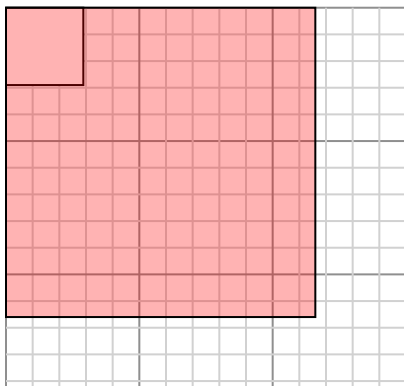
Создайте еще один прямоугольник, который масштабируется до 16, умноженного на размер текущего прямоугольника.

- 3) Прямоугольник ниже имеет размеры:
 6.5×6.2

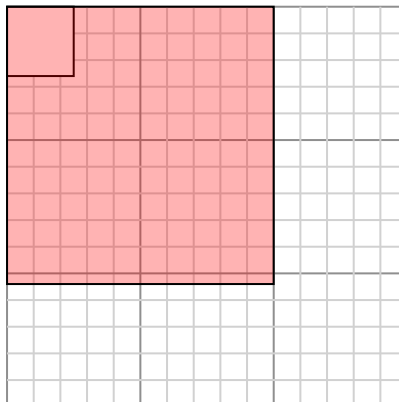


Создайте еще один прямоугольник, который масштабируется до 4, умноженного на размер текущего прямоугольника.

- 5) Прямоугольник ниже имеет размеры:
 2.9×2.9

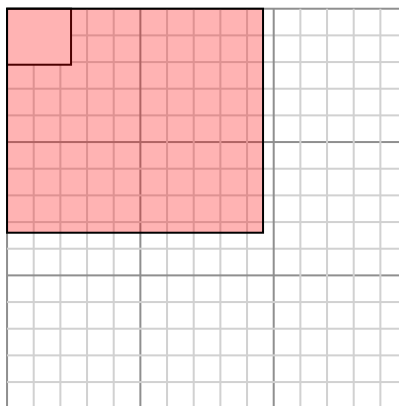


- 2) Прямоугольник ниже имеет размеры:
 2.5×2.6



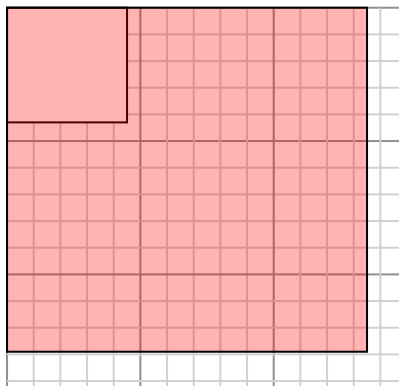
Создайте еще один прямоугольник, который масштабируется до 16, умноженного на размер текущего прямоугольника.

- 4) Прямоугольник ниже имеет размеры:
 2.4×2.1



Создайте еще один прямоугольник, который масштабируется до 16, умноженного на размер текущего прямоугольника.

- 6) Прямоугольник ниже имеет размеры:
 4.5×4.3

**Ответы**

1. $9,6 \times 12$

2. $10 \times 10,4$

3. $13 \times 12,4$

4. $9,6 \times 8,4$

5. $11,6 \times 11,6$

6. $13,5 \times 12,9$