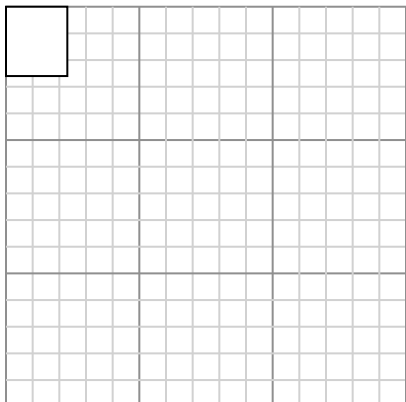




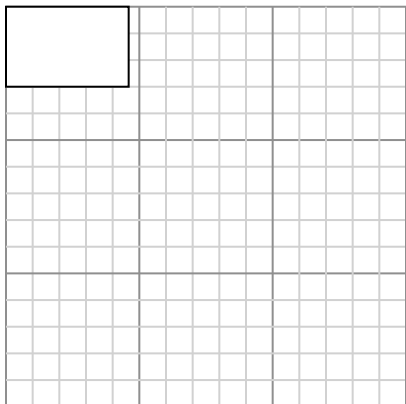
Нарисуйте каждый прямоугольник в указанном масштабе и определите новые размеры.

- 1) Прямоугольник ниже имеет размеры:
 2.3×2.6



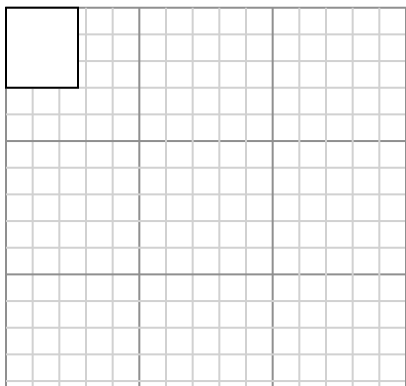
Создайте еще один прямоугольник, который масштабируется до 16, умноженного на размер текущего прямоугольника.

- 3) Прямоугольник ниже имеет размеры:
 4.6×3

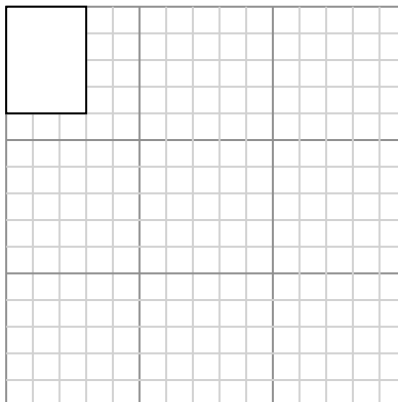


Создайте еще один прямоугольник, который масштабируется до 9, умноженного на размер текущего прямоугольника.

- 5) Прямоугольник ниже имеет размеры:
 2.7×3

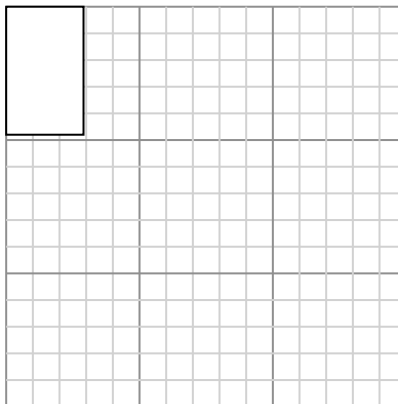


- 2) Прямоугольник ниже имеет размеры:
 3×4



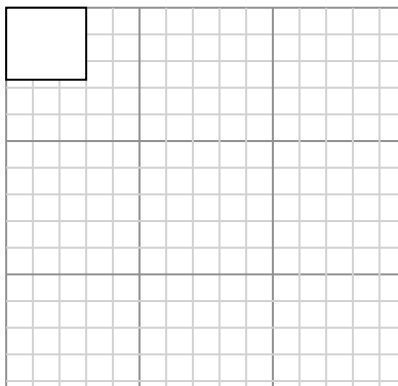
Создайте еще один прямоугольник, который масштабируется до 9, умноженного на размер текущего прямоугольника.

- 4) Прямоугольник ниже имеет размеры:
 2.9×4.8



Создайте еще один прямоугольник, который масштабируется до 9, умноженного на размер текущего прямоугольника.

- 6) Прямоугольник ниже имеет размеры:
 3×2.7



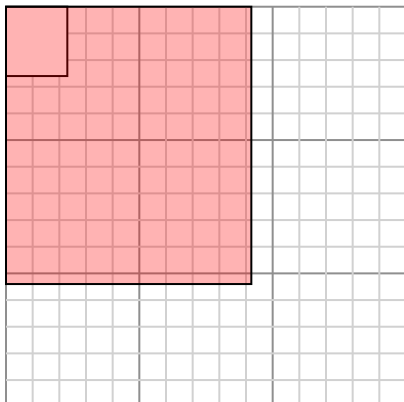
Ответы

1. _____
2. _____
3. _____
4. _____
5. _____
6. _____



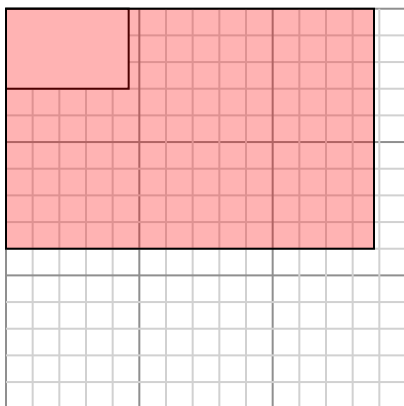
Нарисуйте каждый прямоугольник в указанном масштабе и определите новые размеры.

- 1) Прямоугольник ниже имеет размеры:
 2.3×2.6



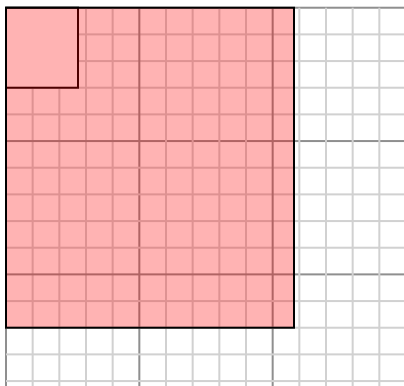
Создайте еще один прямоугольник, который масштабируется до 16, умноженного на размер текущего прямоугольника.

- 3) Прямоугольник ниже имеет размеры:
 4.6×3

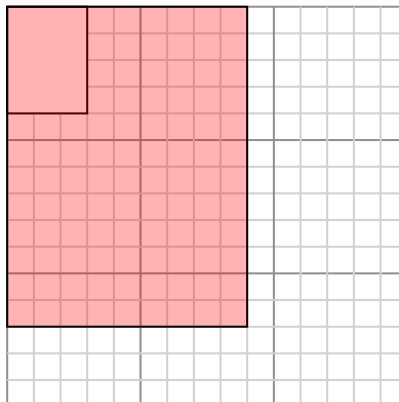


Создайте еще один прямоугольник, который масштабируется до 9, умноженного на размер текущего прямоугольника.

- 5) Прямоугольник ниже имеет размеры:
 2.7×3

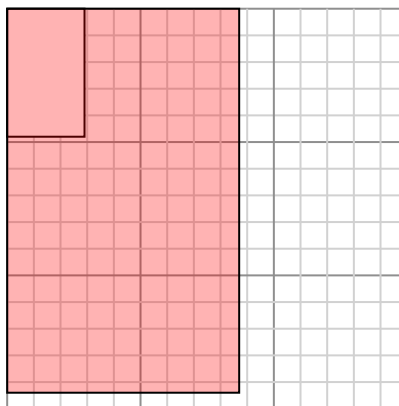


- 2) Прямоугольник ниже имеет размеры:
 3×4



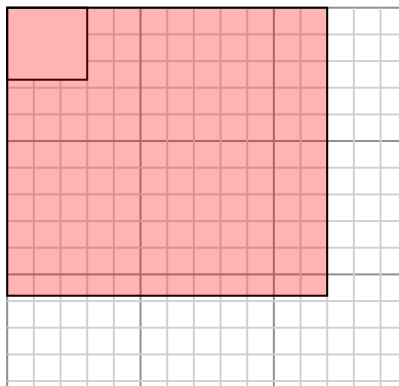
Создайте еще один прямоугольник, который масштабируется до 9, умноженного на размер текущего прямоугольника.

- 4) Прямоугольник ниже имеет размеры:
 2.9×4.8



Создайте еще один прямоугольник, который масштабируется до 9, умноженного на размер текущего прямоугольника.

- 6) Прямоугольник ниже имеет размеры:
 3×2.7

**Ответы**

1. $9,2 \times 10,4$
2. 9×12
3. $13,8 \times 9$
4. $8,7 \times 14,4$
5. $10,8 \times 12$
6. $12 \times 10,8$