



Определите, является ли фигура сдвинутой, повернутой или отраженной.

ОТВЕТЫ

1)



2)



3)



4)



5)



6)



7)



8)



9)



10)



11)



12)



13)



14)



15)



1. _____

2. _____

3. _____

4. _____

5. _____

6. _____

7. _____

8. _____

9. _____

10. _____

11. _____

12. _____

13. _____

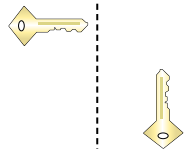
14. _____

15. _____



Определите, является ли фигура сдвинутой, повернутой или отраженной.

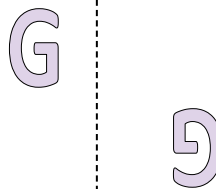
1)



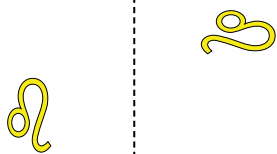
2)



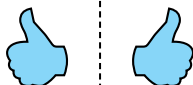
3)



4)



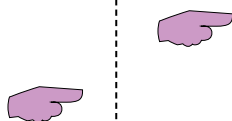
5)



6)



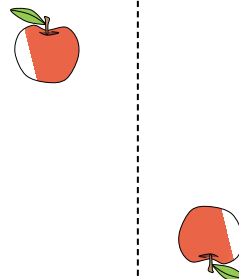
7)



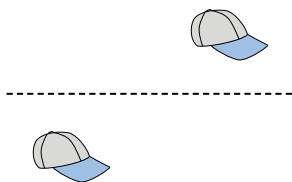
8)



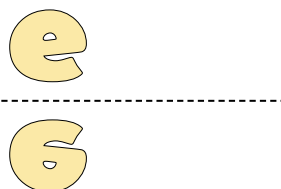
9)



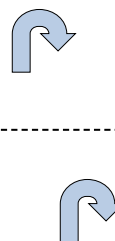
10)




11)




12)



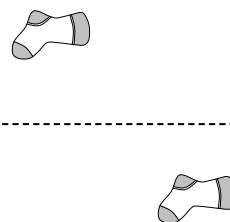
13)



14)



15)



ОТВЕТЫ

1. **повернутая**

2. **сдвинутая**

3. **повернутая**

4. **повернутая**

5. **отраженная**

6. **отраженная**

7. **сдвинутая**

8. **отраженная**

9. **повернутая**

10. **сдвинутая**

11. **отраженная**

12. **сдвинутая**

13. **отраженная**

14. **отраженная**

15. **сдвинутая**