




Определите, является ли фигура сдвинутой, повернутой или отраженной.

ОТВЕТЫ


1)



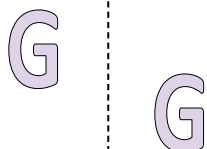
2)



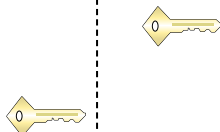
3)




4)



5)




6)




7)



8)



9)



10)



11)



12)



13)



14)



15)




1. _____
2. _____
3. _____
4. _____
5. _____
6. _____
7. _____
8. _____
9. _____
10. _____
11. _____
12. _____
13. _____
14. _____
15. _____



Определите, является ли фигура сдвинутой, повернутой или отраженной.

1)



2)



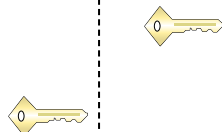
3)




4)



5)




6)




7)



8)



9)



10)



11)



12)



13)



14)



15)



ОТВЕТЫ

1. отраженная

2. сдвинутая

3. повернутая

4. сдвинутая

5. сдвинутая

6. повернутая

7. отраженная

8. отраженная

9. сдвинутая

10. сдвинутая

11. сдвинутая

12. отраженная

13. повернутая

14. повернутая

15. повернутая