




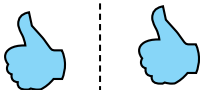
Определите, является ли фигура сдвинутой, повернутой или отраженной.

ОТВЕТЫ


1)



2)



3)



1. _____

2. _____

3. _____

4. _____

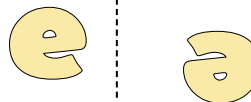
4)



5)



6)



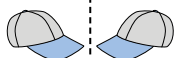
5. _____

6. _____


7. _____

8. _____

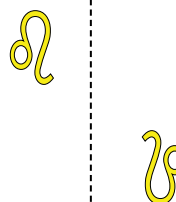
7)



8)



9)



9. _____

10. _____

11. _____

10)



11)



12)



13. _____

14. _____



15. _____

13)



14)



15)



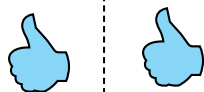


Определите, является ли фигура сдвинутой, повернутой или отраженной.


1)



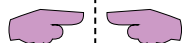
2)



3)



4)



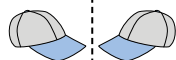
5)



6)



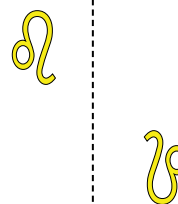
7)



8)



9)



10)



11)



12)



13)



14)



15)



ОТВЕТЫ

1. повернутая

2. сдвинутая

3. отраженная

4. отраженная

5. отраженная

6. повернутая

7. отраженная

8. сдвинутая

9. повернутая

10. сдвинутая

11. отраженная

12. сдвинутая

13. повернутая

14. повернутая

15. сдвинутая