




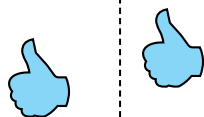
Определите, является ли фигура сдвинутой, повернутой или отраженной.

ОТВЕТЫ

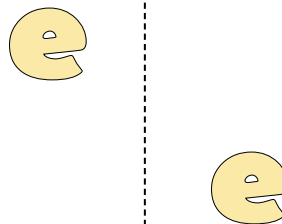
1)



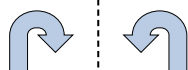
2)



3)




4)



5)



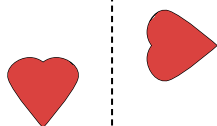
6)



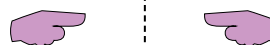
7)



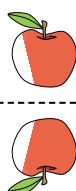
8)



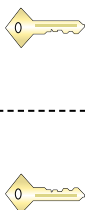
9)



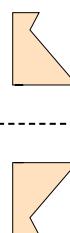
10)



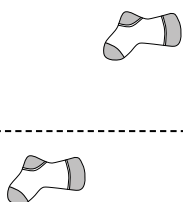
11)



12)



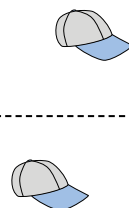
13)



14)



15)




1. _____
2. _____
3. _____
4. _____
5. _____
6. _____
7. _____
8. _____
9. _____
10. _____
11. _____
12. _____
13. _____
14. _____
15. _____

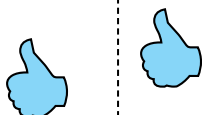


Определите, является ли фигура сдвинутой, повернутой или отраженной.

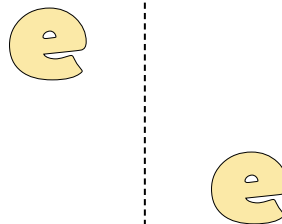
1)



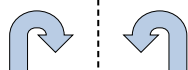
2)




3)




4)



5)



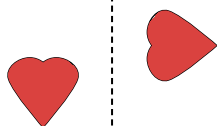
6)



7)



8)



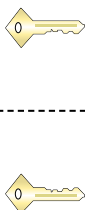
9)



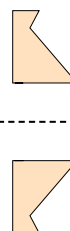
10)



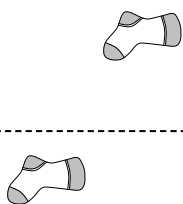
11)



12)



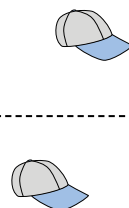
13)



14)



15)



ОТВЕТЫ

1. повернутая

2. сдвинутая

3. сдвинутая

4. отраженная

5. сдвинутая

6. повернутая

7. повернутая

8. повернутая

9. отраженная

10. отраженная

11. отраженная

12. отраженная

13. сдвинутая

14. сдвинутая

15. сдвинутая