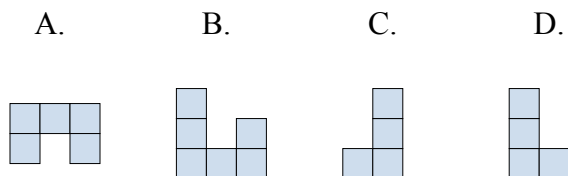
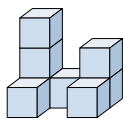




Решите каждую задачу.

ОТВЕТЫ

- 1) Если вы посмотрите на фигуру 3d сверху, то что вы увидите?



1. _____

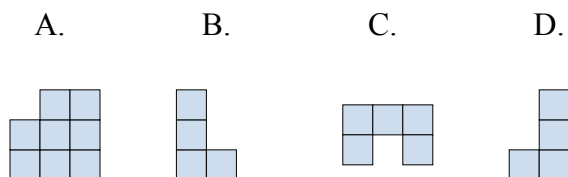
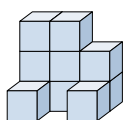
2. _____

3. _____

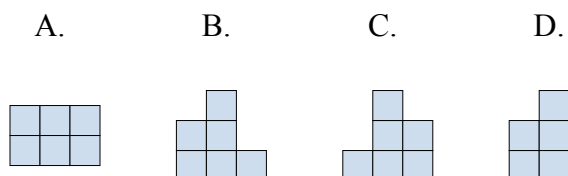
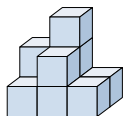
4. _____

5. _____

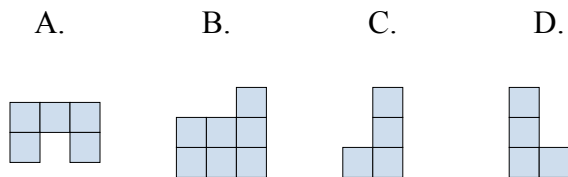
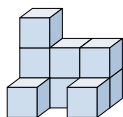
- 2) Если вы посмотрите на фигуру 3d сверху, то что вы увидите?



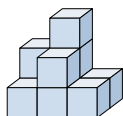
- 3) Если вы посмотрите на фигуру 3d с правой стороны, то что вы увидите?



- 4) Если вы посмотрите на фигуру 3d сверху, то что вы увидите?



- 5) Если вы посмотрите на фигуру 3d сверху, то что вы увидите?

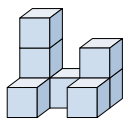




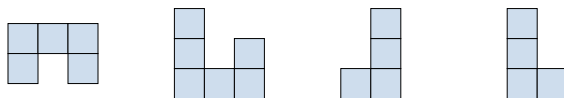
Решите каждую задачу.

ОТВЕТЫ

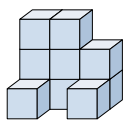
- 1) Если вы посмотрите на фигуру 3d сверху, то что вы увидите?



A. B. C. D.

1. **A**

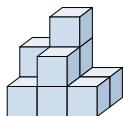
- 2) Если вы посмотрите на фигуру 3d сверху, то что вы увидите?



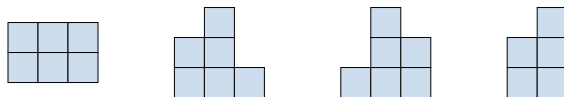
A. B. C. D.

2. **C**

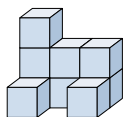
- 3) Если вы посмотрите на фигуру 3d с правой стороны, то что вы увидите?



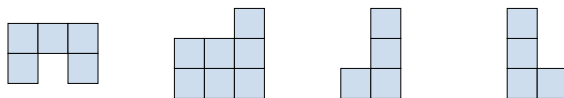
A. B. C. D.

3. **D**

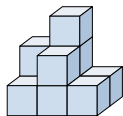
- 4) Если вы посмотрите на фигуру 3d сверху, то что вы увидите?



A. B. C. D.

4. **A**

- 5) Если вы посмотрите на фигуру 3d сверху, то что вы увидите?



A. B. C. D.

5. **C**