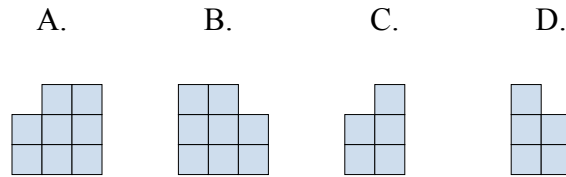
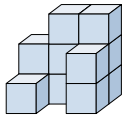




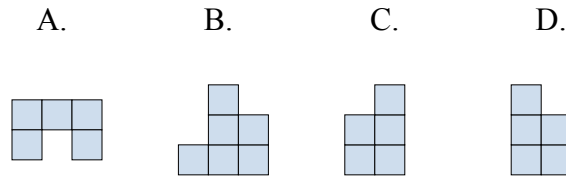
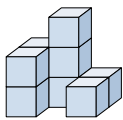
Решите каждую задачу.

Ответы

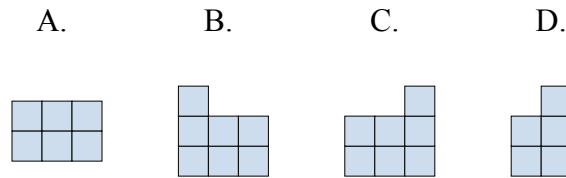
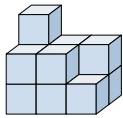
- 1) Если вы посмотрите на фигуру 3d сзади, то что вы увидите?



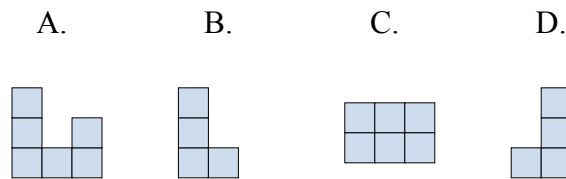
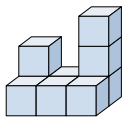
- 2) Если вы посмотрите на фигуру 3d сзади, то что вы увидите?



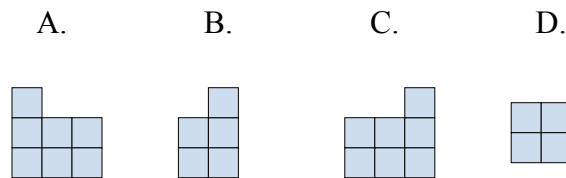
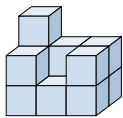
- 3) Если вы посмотрите на фигуру 3d сзади, то что вы увидите?



- 4) Если вы посмотрите на фигуру 3d с левой стороны, то что вы увидите?



- 5) Если вы посмотрите на фигуру 3d сзади, то что вы увидите?



1. _____

2. _____

3. _____

4. _____

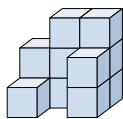
5. _____



Решите каждую задачу.

ОТВЕТЫ

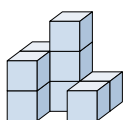
- 1) Если вы посмотрите на фигуру 3d сзади, то что вы увидите?



A. B. C. D.

1. **B**

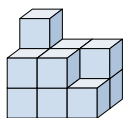
- 2) Если вы посмотрите на фигуру 3d сзади, то что вы увидите?



A. B. C. D.

2. **B**3. **C**4. **B**5. **C**

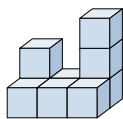
- 3) Если вы посмотрите на фигуру 3d сзади, то что вы увидите?



A. B. C. D.



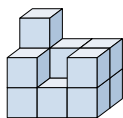
- 4) Если вы посмотрите на фигуру 3d с левой стороны, то что вы увидите?



A. B. C. D.



- 5) Если вы посмотрите на фигуру 3d сзади, то что вы увидите?



A. B. C. D.

