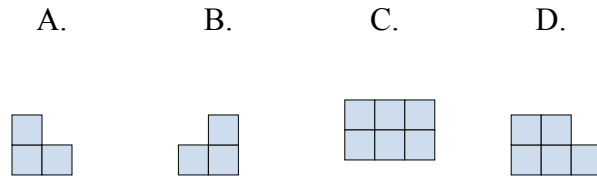
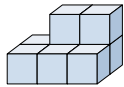




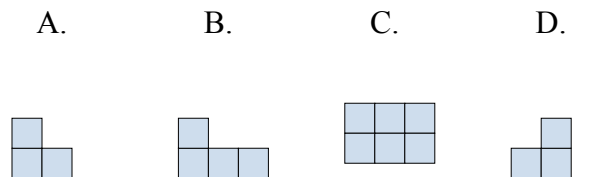
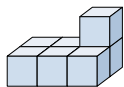
Решите каждую задачу.

**ОТВЕТЫ**

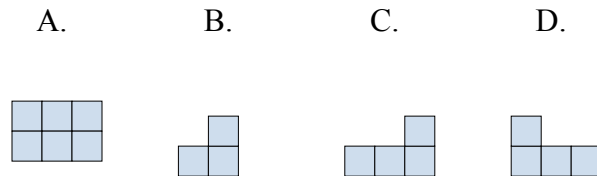
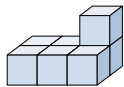
- 1) Если вы посмотрите на фигуру 3d с левой стороны, то что вы увидите?



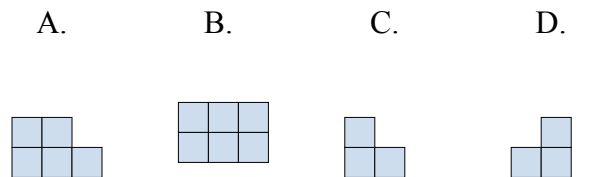
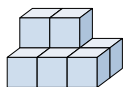
- 2) Если вы посмотрите на фигуру 3d с правой стороны, то что вы увидите?



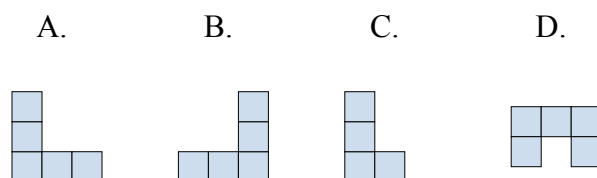
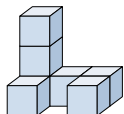
- 3) Если вы посмотрите на фигуру 3d сзади, то что вы увидите?



- 4) Если вы посмотрите на фигуру 3d сверху, то что вы увидите?



- 5) Если вы посмотрите на фигуру 3d сверху, то что вы увидите?



1. \_\_\_\_\_

2. \_\_\_\_\_

3. \_\_\_\_\_

4. \_\_\_\_\_

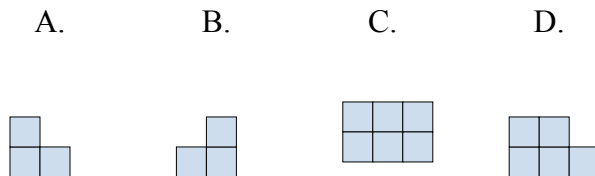
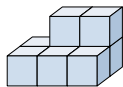
5. \_\_\_\_\_



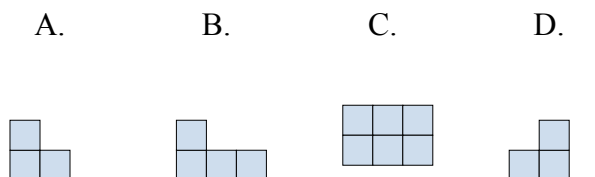
Решите каждую задачу.

**ОТВЕТЫ**

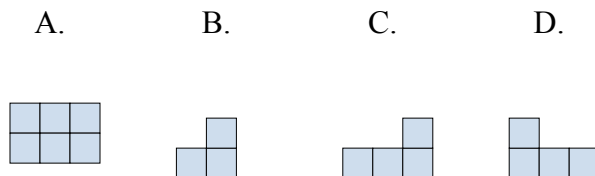
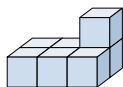
- 1) Если вы посмотрите на фигуру 3d с левой стороны, то что вы увидите?

1.   **A**  

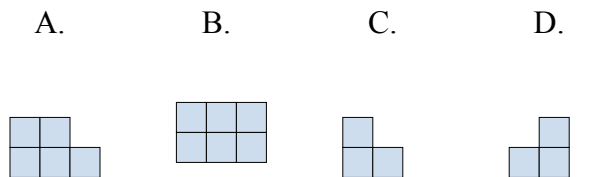
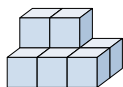
- 2) Если вы посмотрите на фигуру 3d с правой стороны, то что вы увидите?

2.   **D**  3.   **D**  4.   **B**  5.   **D**  

- 3) Если вы посмотрите на фигуру 3d сзади, то что вы увидите?



- 4) Если вы посмотрите на фигуру 3d сверху, то что вы увидите?



- 5) Если вы посмотрите на фигуру 3d сверху, то что вы увидите?

