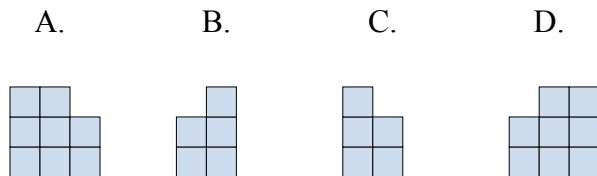
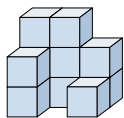




Решите каждую задачу.

**ОТВЕТЫ**

- 1) Если вы посмотрите на фигуру 3d с правой стороны, то что вы увидите?



1. \_\_\_\_\_

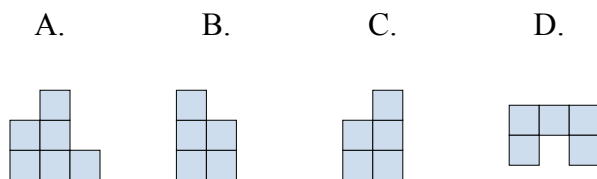
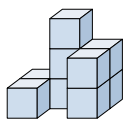
2. \_\_\_\_\_

3. \_\_\_\_\_

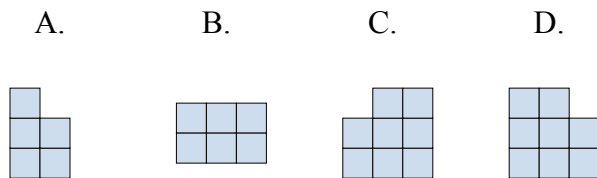
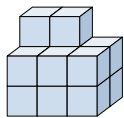
4. \_\_\_\_\_

5. \_\_\_\_\_

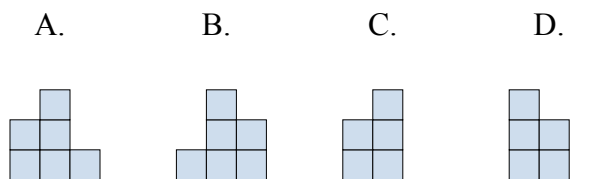
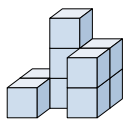
- 2) Если вы посмотрите на фигуру 3d с правой стороны, то что вы увидите?



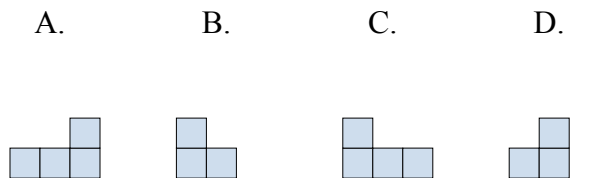
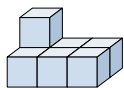
- 3) Если вы посмотрите на фигуру 3d сверху, то что вы увидите?



- 4) Если вы посмотрите на фигуру 3d с левой стороны, то что вы увидите?



- 5) Если вы посмотрите на фигуру 3d с левой стороны, то что вы увидите?

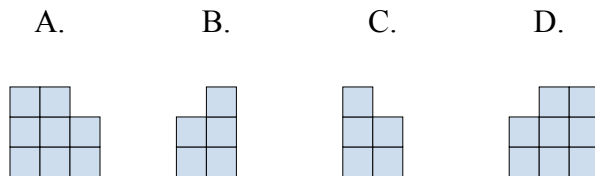
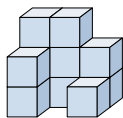




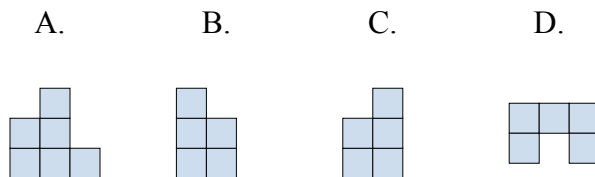
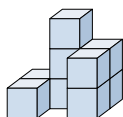
Решите каждую задачу.

**ОТВЕТЫ**

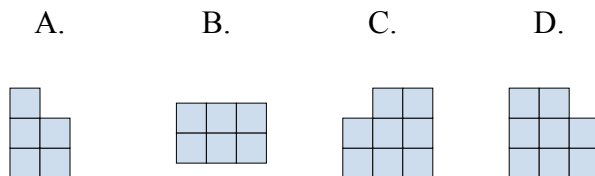
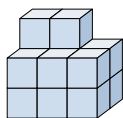
- 1) Если вы посмотрите на фигуру 3d с правой стороны, то что вы увидите?

1. **B**

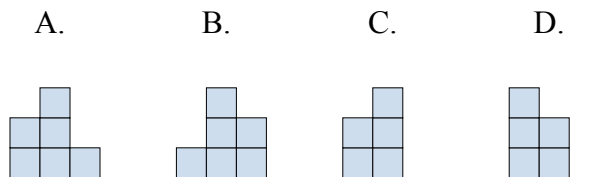
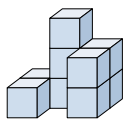
- 2) Если вы посмотрите на фигуру 3d с правой стороны, то что вы увидите?

2. **C**3. **B**4. **D**5. **B**

- 3) Если вы посмотрите на фигуру 3d сверху, то что вы увидите?



- 4) Если вы посмотрите на фигуру 3d с левой стороны, то что вы увидите?



- 5) Если вы посмотрите на фигуру 3d с левой стороны, то что вы увидите?

