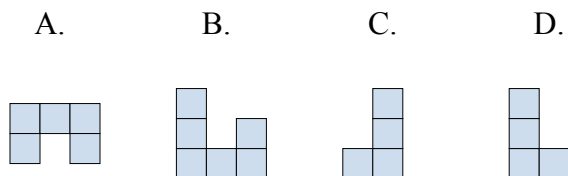
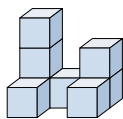




Решите каждую задачу.

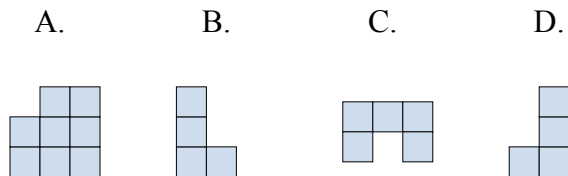
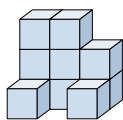
ОТВЕТЫ

- 1) Если вы посмотрите на фигуру 3d сверху, то что вы увидите?



1. _____

- 2) Если вы посмотрите на фигуру 3d сверху, то что вы увидите?



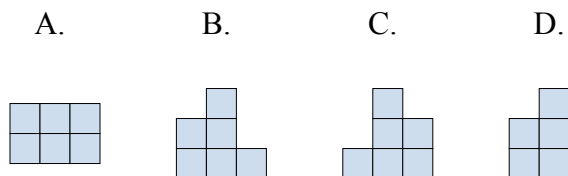
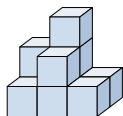
2. _____

3. _____

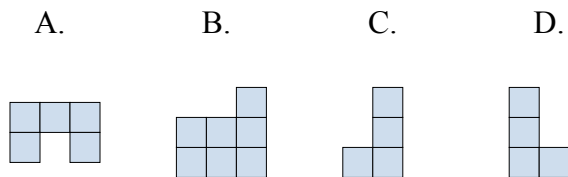
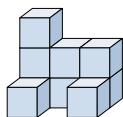
4. _____

5. _____

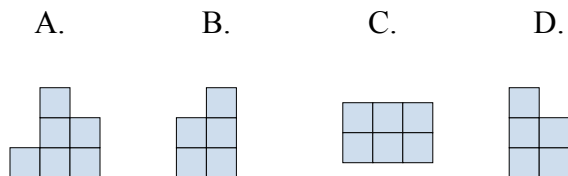
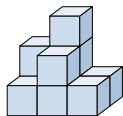
- 3) Если вы посмотрите на фигуру 3d с правой стороны, то что вы увидите?



- 4) Если вы посмотрите на фигуру 3d сверху, то что вы увидите?



- 5) Если вы посмотрите на фигуру 3d сверху, то что вы увидите?

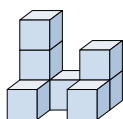




Решите каждую задачу.

ОТВЕТЫ

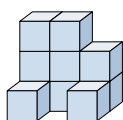
- 1) Если вы посмотрите на фигуру 3d сверху, то что вы увидите?



A. B. C. D.

1. A

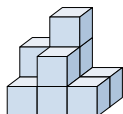
- 2) Если вы посмотрите на фигуру 3d сверху, то что вы увидите?



A. B. C. D.

2. C3. D

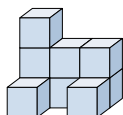
- 3) Если вы посмотрите на фигуру 3d с правой стороны, то что вы увидите?



A. B. C. D.



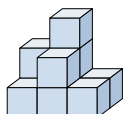
- 4) Если вы посмотрите на фигуру 3d сверху, то что вы увидите?



A. B. C. D.



- 5) Если вы посмотрите на фигуру 3d сверху, то что вы увидите?



A. B. C. D.

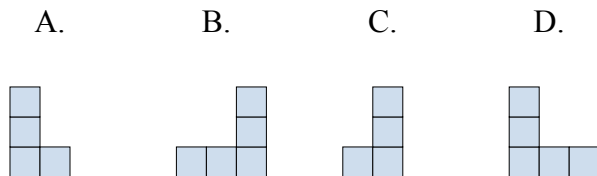
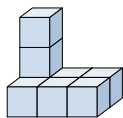
4. A5. C



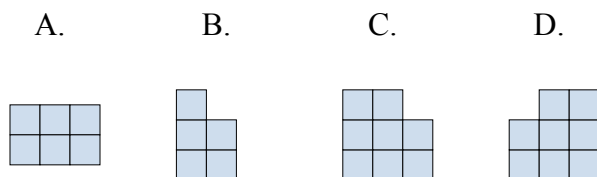
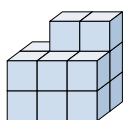
Решите каждую задачу.

ОТВЕТЫ

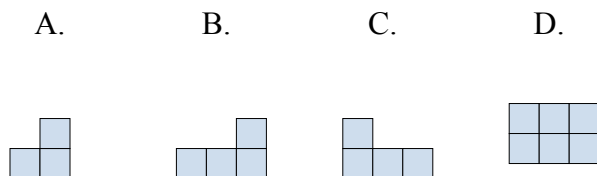
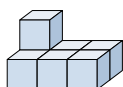
- 1) Если вы посмотрите на фигуру 3d с правой стороны, то что вы увидите?



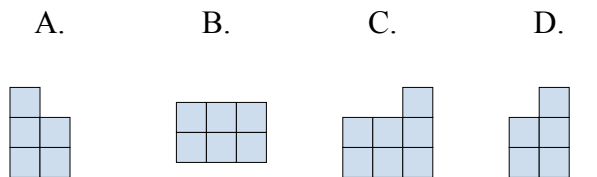
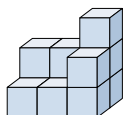
- 2) Если вы посмотрите на фигуру 3d сзади, то что вы увидите?



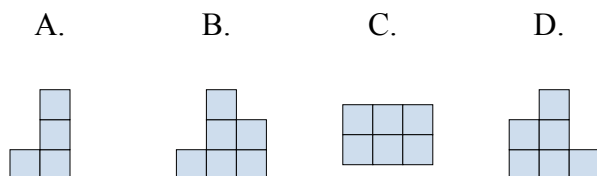
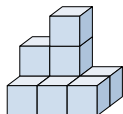
- 3) Если вы посмотрите на фигуру 3d с правой стороны, то что вы увидите?



- 4) Если вы посмотрите на фигуру 3d сверху, то что вы увидите?



- 5) Если вы посмотрите на фигуру 3d сзади, то что вы увидите?



1. _____

2. _____

3. _____

4. _____

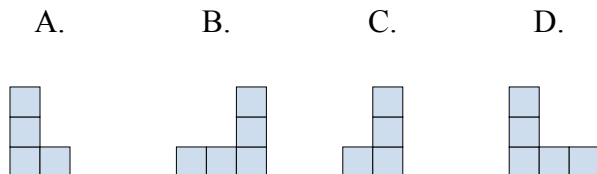
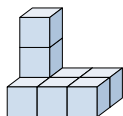
5. _____



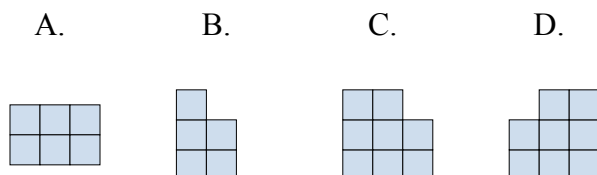
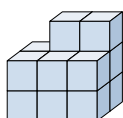
Решите каждую задачу.

ОТВЕТЫ

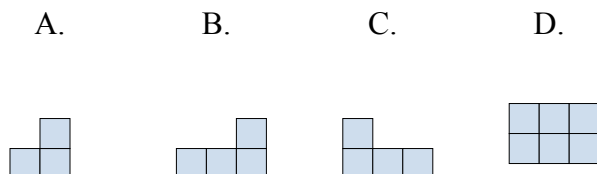
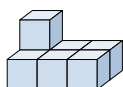
- 1) Если вы посмотрите на фигуру 3d с правой стороны, то что вы увидите?

1. **C**

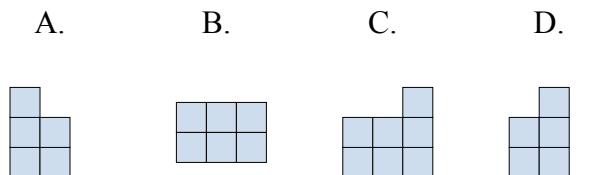
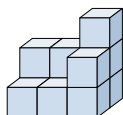
- 2) Если вы посмотрите на фигуру 3d сзади, то что вы увидите?

2. **C** 3. **A** 4. **B** 5. **B**

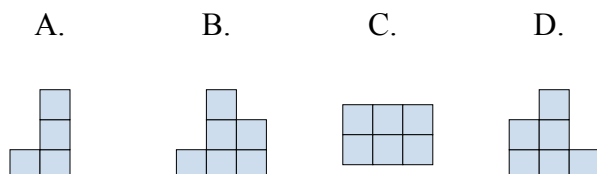
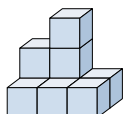
- 3) Если вы посмотрите на фигуру 3d с правой стороны, то что вы увидите?



- 4) Если вы посмотрите на фигуру 3d сверху, то что вы увидите?



- 5) Если вы посмотрите на фигуру 3d сзади, то что вы увидите?

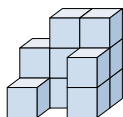




Решите каждую задачу.

Ответы

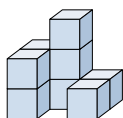
- 1) Если вы посмотрите на фигуру 3d сзади, то что вы увидите?



A. B. C. D.



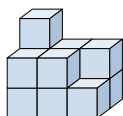
- 2) Если вы посмотрите на фигуру 3d сзади, то что вы увидите?



A. B. C. D.



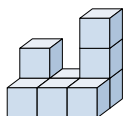
- 3) Если вы посмотрите на фигуру 3d сзади, то что вы увидите?



A. B. C. D.



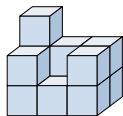
- 4) Если вы посмотрите на фигуру 3d с левой стороны, то что вы увидите?



A. B. C. D.



- 5) Если вы посмотрите на фигуру 3d сзади, то что вы увидите?



A. B. C. D.



1. _____

2. _____

3. _____

4. _____

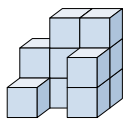
5. _____



Решите каждую задачу.

ОТВЕТЫ

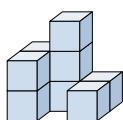
- 1) Если вы посмотрите на фигуру 3d сзади, то что вы увидите?



A. B. C. D.

1. **B**

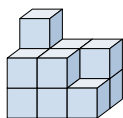
- 2) Если вы посмотрите на фигуру 3d сзади, то что вы увидите?



A. B. C. D.

2. **B**3. **C**4. **B**5. **C**

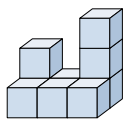
- 3) Если вы посмотрите на фигуру 3d сзади, то что вы увидите?



A. B. C. D.



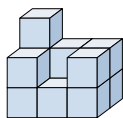
- 4) Если вы посмотрите на фигуру 3d с левой стороны, то что вы увидите?



A. B. C. D.



- 5) Если вы посмотрите на фигуру 3d сзади, то что вы увидите?



A. B. C. D.

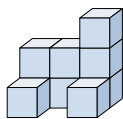




Решите каждую задачу.

ОТВЕТЫ

- 1) Если вы посмотрите на фигуру 3d сверху, то что вы увидите?



A. B. C. D.



1. _____

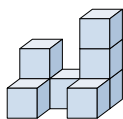
2. _____

3. _____

4. _____

5. _____

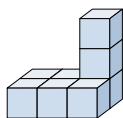
- 2) Если вы посмотрите на фигуру 3d с левой стороны, то что вы увидите?



A. B. C. D.



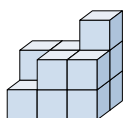
- 3) Если вы посмотрите на фигуру 3d сверху, то что вы увидите?



A. B. C. D.



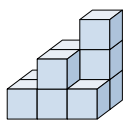
- 4) Если вы посмотрите на фигуру 3d с левой стороны, то что вы увидите?



A. B. C. D.



- 5) Если вы посмотрите на фигуру 3d с правой стороны, то что вы увидите?



A. B. C. D.

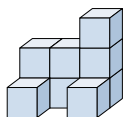




Решите каждую задачу.

ОТВЕТЫ

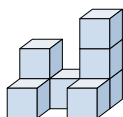
- 1) Если вы посмотрите на фигуру 3d сверху, то что вы увидите?



A. B. C. D.

1. **B**

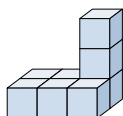
- 2) Если вы посмотрите на фигуру 3d с левой стороны, то что вы увидите?



A. B. C. D.

2. **A**

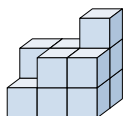
- 3) Если вы посмотрите на фигуру 3d сверху, то что вы увидите?



A. B. C. D.

3. **B**

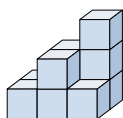
- 4) Если вы посмотрите на фигуру 3d с левой стороны, то что вы увидите?



A. B. C. D.

4. **D**

- 5) Если вы посмотрите на фигуру 3d с правой стороны, то что вы увидите?



A. B. C. D.

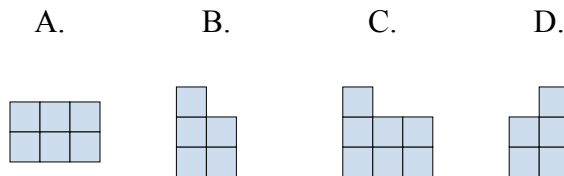
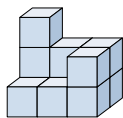
5. **D**



Решите каждую задачу.

ОТВЕТЫ

- 1) Если вы посмотрите на фигуру 3d с правой стороны, то что вы увидите?



1. _____

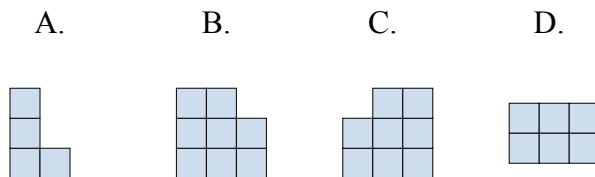
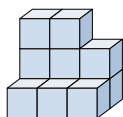
2. _____

3. _____

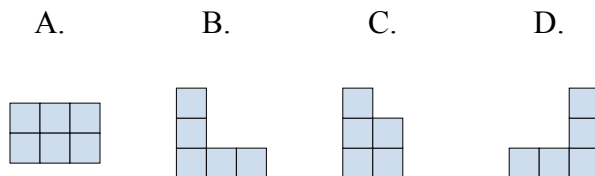
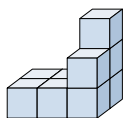
4. _____

5. _____

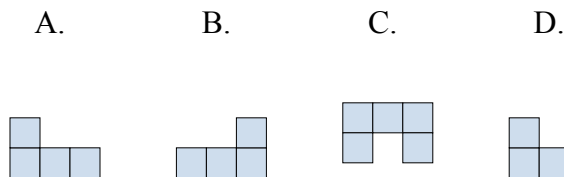
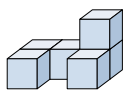
- 2) Если вы посмотрите на фигуру 3d с левой стороны, то что вы увидите?



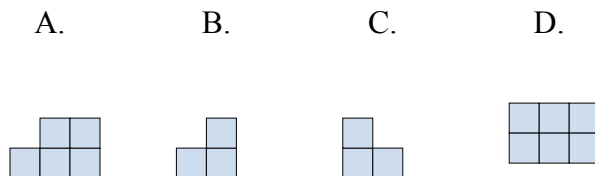
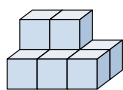
- 3) Если вы посмотрите на фигуру 3d сверху, то что вы увидите?



- 4) Если вы посмотрите на фигуру 3d с левой стороны, то что вы увидите?



- 5) Если вы посмотрите на фигуру 3d с правой стороны, то что вы увидите?

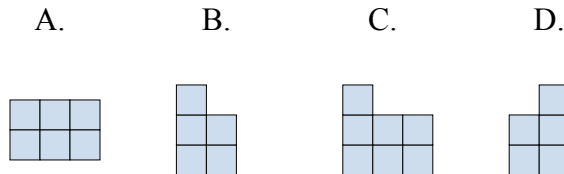
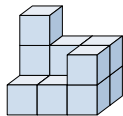




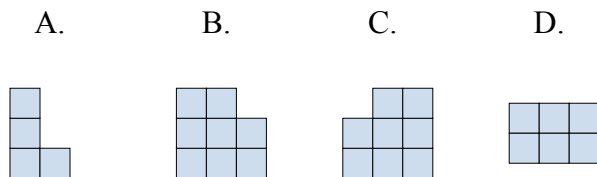
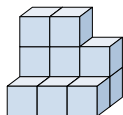
Решите каждую задачу.

ОТВЕТЫ

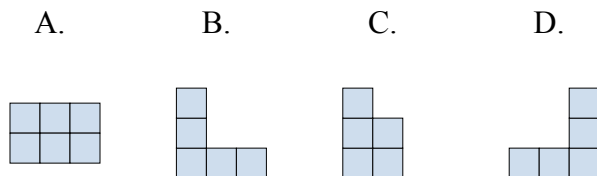
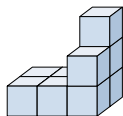
- 1) Если вы посмотрите на фигуру 3d с правой стороны, то что вы увидите?

1. **D**

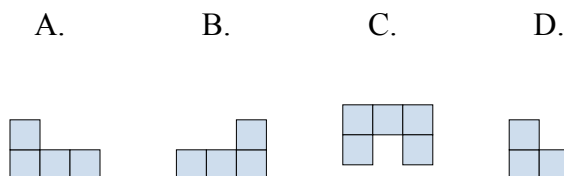
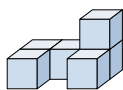
- 2) Если вы посмотрите на фигуру 3d с левой стороны, то что вы увидите?

2. **A**3. **A**4. **D**5. **B**

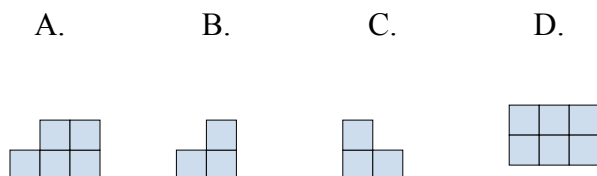
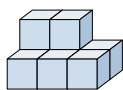
- 3) Если вы посмотрите на фигуру 3d сверху, то что вы увидите?



- 4) Если вы посмотрите на фигуру 3d с левой стороны, то что вы увидите?



- 5) Если вы посмотрите на фигуру 3d с правой стороны, то что вы увидите?

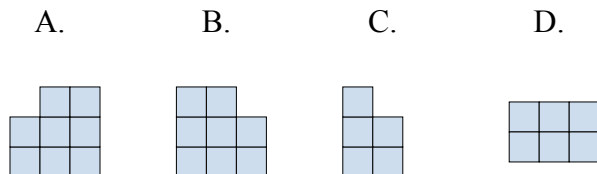
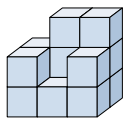




Решите каждую задачу.

ОТВЕТЫ

- 1) Если вы посмотрите на фигуру 3d с левой стороны, то что вы увидите?



1. _____

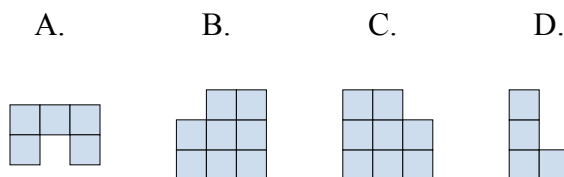
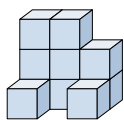
2. _____

3. _____

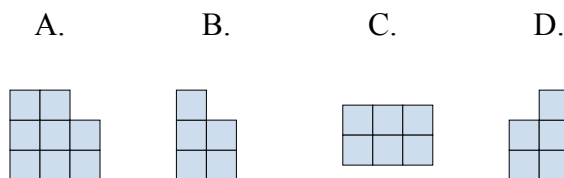
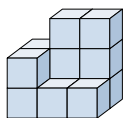
4. _____

5. _____

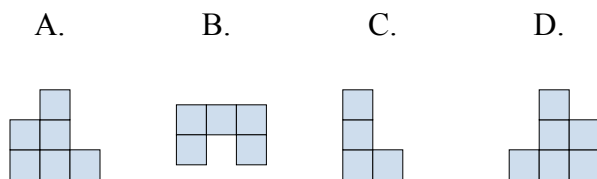
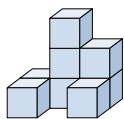
- 2) Если вы посмотрите на фигуру 3d сверху, то что вы увидите?



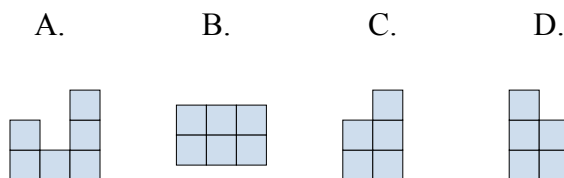
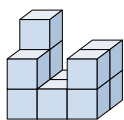
- 3) Если вы посмотрите на фигуру 3d сзади, то что вы увидите?



- 4) Если вы посмотрите на фигуру 3d с левой стороны, то что вы увидите?



- 5) Если вы посмотрите на фигуру 3d с левой стороны, то что вы увидите?

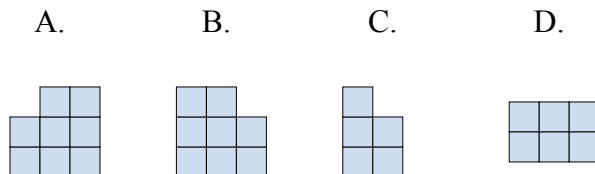
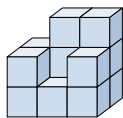




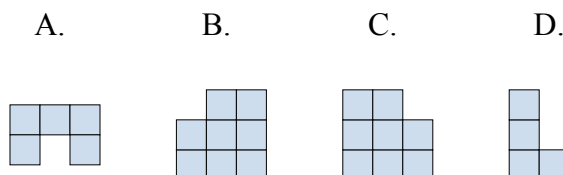
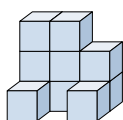
Решите каждую задачу.

ОТВЕТЫ

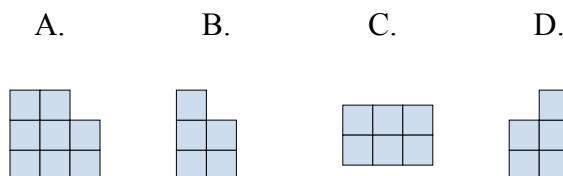
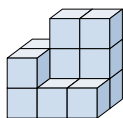
- 1) Если вы посмотрите на фигуру 3d с левой стороны, то что вы увидите?

1. **C**

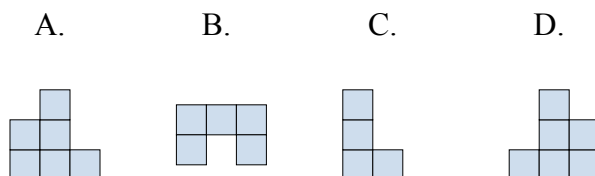
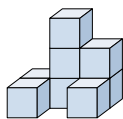
- 2) Если вы посмотрите на фигуру 3d сверху, то что вы увидите?

2. **A** 3. **A** 4. **C** 5. **D**

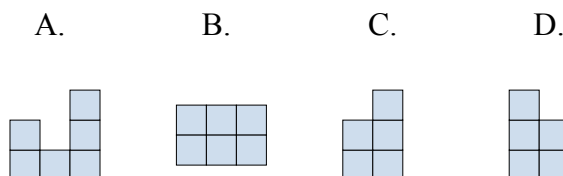
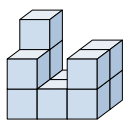
- 3) Если вы посмотрите на фигуру 3d сзади, то что вы увидите?



- 4) Если вы посмотрите на фигуру 3d с левой стороны, то что вы увидите?



- 5) Если вы посмотрите на фигуру 3d с левой стороны, то что вы увидите?

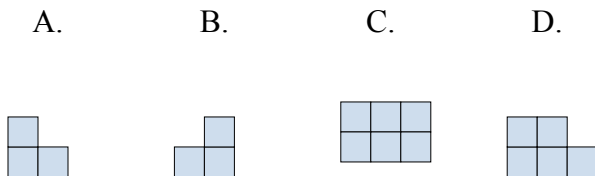
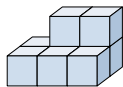




Решите каждую задачу.

ОТВЕТЫ

- 1) Если вы посмотрите на фигуру 3d с левой стороны, то что вы увидите?



1. _____

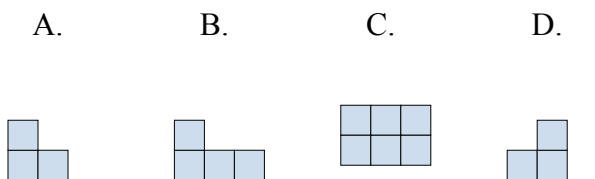
2. _____

3. _____

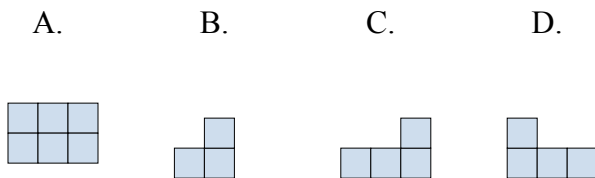
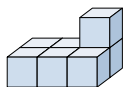
4. _____

5. _____

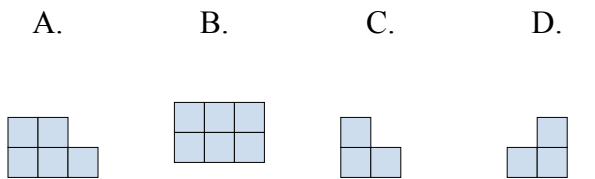
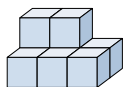
- 2) Если вы посмотрите на фигуру 3d с правой стороны, то что вы увидите?



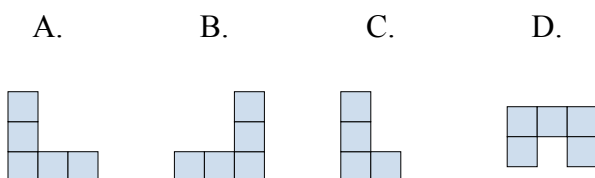
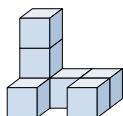
- 3) Если вы посмотрите на фигуру 3d сзади, то что вы увидите?



- 4) Если вы посмотрите на фигуру 3d сверху, то что вы увидите?



- 5) Если вы посмотрите на фигуру 3d сверху, то что вы увидите?

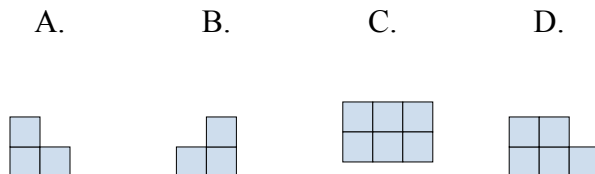
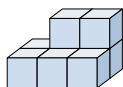




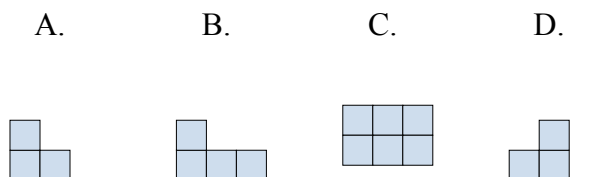
Решите каждую задачу.

ОТВЕТЫ

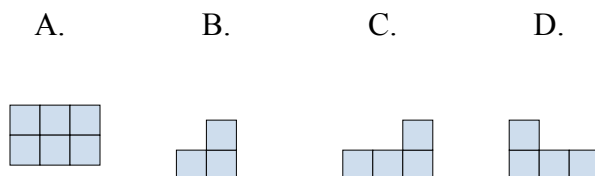
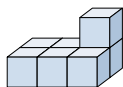
- 1) Если вы посмотрите на фигуру 3d с левой стороны, то что вы увидите?

1. **A**

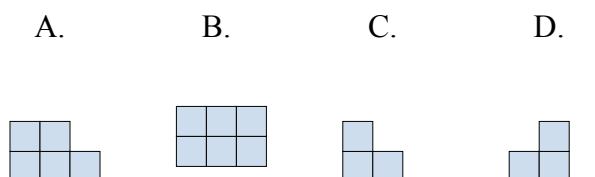
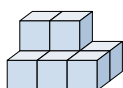
- 2) Если вы посмотрите на фигуру 3d с правой стороны, то что вы увидите?

2. **D** 3. **D** 4. **B** 5. **D**

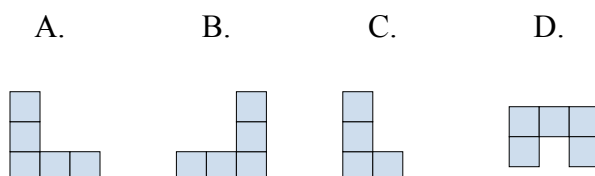
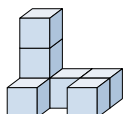
- 3) Если вы посмотрите на фигуру 3d сзади, то что вы увидите?



- 4) Если вы посмотрите на фигуру 3d сверху, то что вы увидите?



- 5) Если вы посмотрите на фигуру 3d сверху, то что вы увидите?

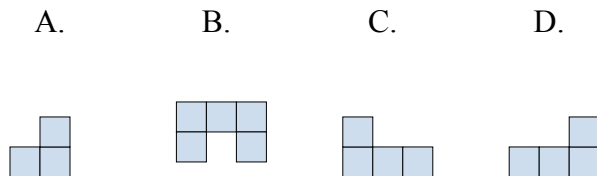
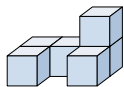




Решите каждую задачу.

ОТВЕТЫ

- 1) Если вы посмотрите на фигуру 3d с правой стороны, то что вы увидите?



1. _____

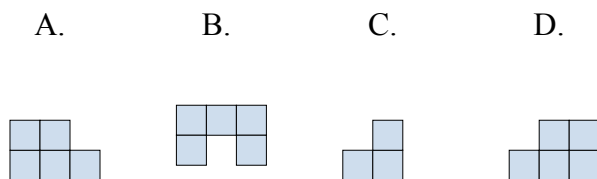
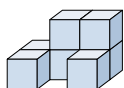
2. _____

3. _____

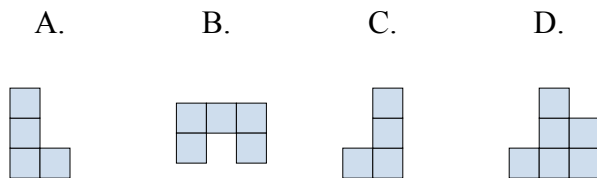
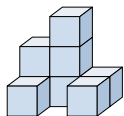
4. _____

5. _____

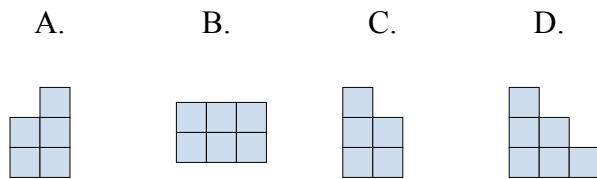
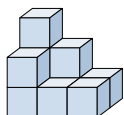
- 2) Если вы посмотрите на фигуру 3d с правой стороны, то что вы увидите?



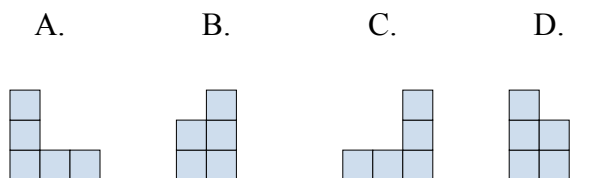
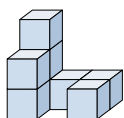
- 3) Если вы посмотрите на фигуру 3d сзади, то что вы увидите?



- 4) Если вы посмотрите на фигуру 3d сверху, то что вы увидите?



- 5) Если вы посмотрите на фигуру 3d с правой стороны, то что вы увидите?

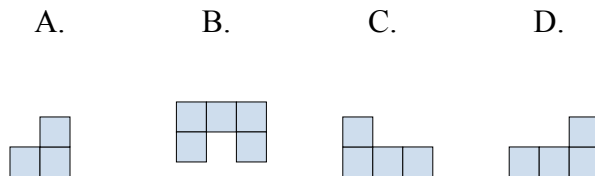
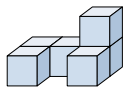




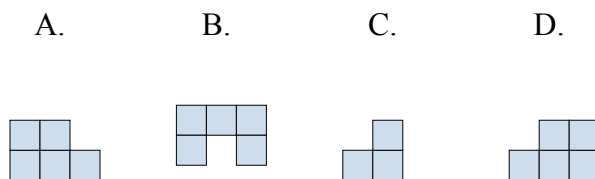
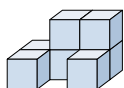
Решите каждую задачу.

ОТВЕТЫ

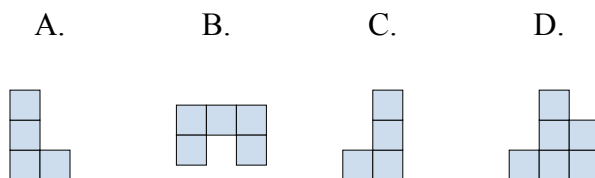
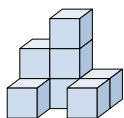
- 1) Если вы посмотрите на фигуру 3d с правой стороны, то что вы увидите?

1. **A**

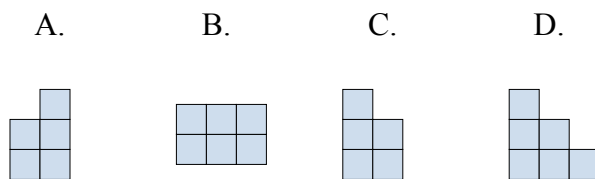
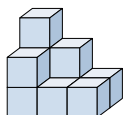
- 2) Если вы посмотрите на фигуру 3d с правой стороны, то что вы увидите?

2. **C** 3. **D** 4. **B** 5. **B**

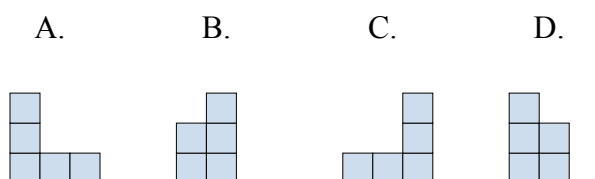
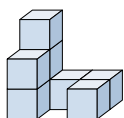
- 3) Если вы посмотрите на фигуру 3d сзади, то что вы увидите?



- 4) Если вы посмотрите на фигуру 3d сверху, то что вы увидите?



- 5) Если вы посмотрите на фигуру 3d с правой стороны, то что вы увидите?

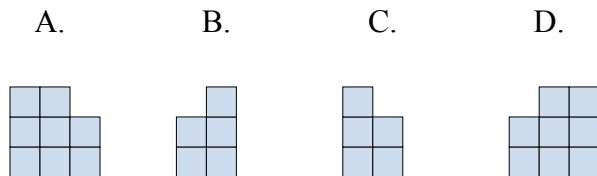
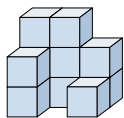




Решите каждую задачу.

ОТВЕТЫ

- 1) Если вы посмотрите на фигуру 3d с правой стороны, то что вы увидите?



1. _____

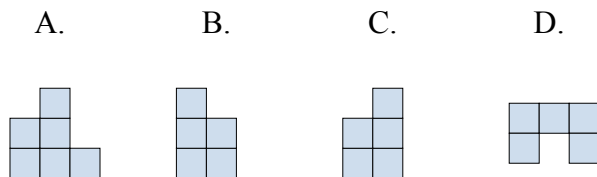
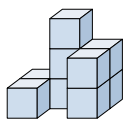
2. _____

3. _____

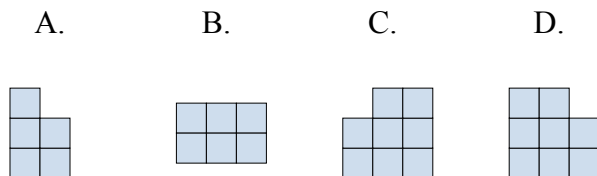
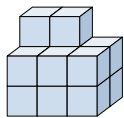
4. _____

5. _____

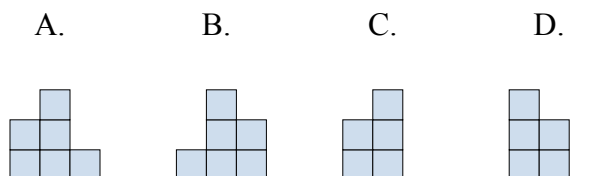
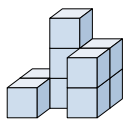
- 2) Если вы посмотрите на фигуру 3d с правой стороны, то что вы увидите?



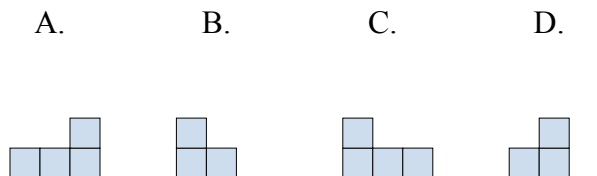
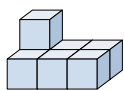
- 3) Если вы посмотрите на фигуру 3d сверху, то что вы увидите?



- 4) Если вы посмотрите на фигуру 3d с левой стороны, то что вы увидите?



- 5) Если вы посмотрите на фигуру 3d с левой стороны, то что вы увидите?

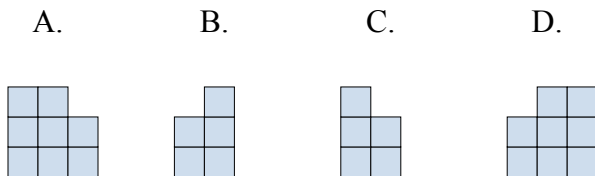
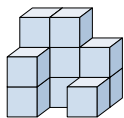




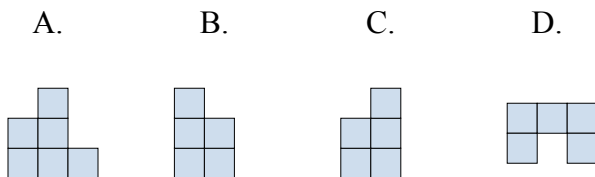
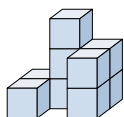
Решите каждую задачу.

ОТВЕТЫ

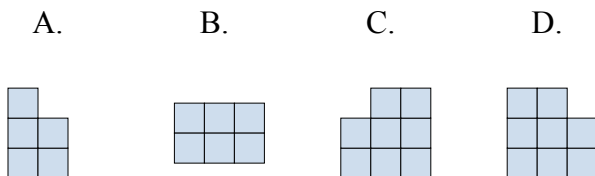
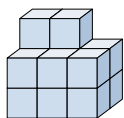
- 1) Если вы посмотрите на фигуру 3d с правой стороны, то что вы увидите?

1. **B**

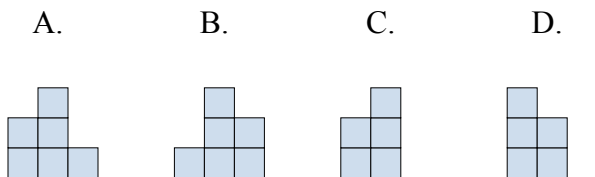
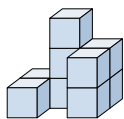
- 2) Если вы посмотрите на фигуру 3d с правой стороны, то что вы увидите?

2. **C**3. **B**4. **D**5. **B**

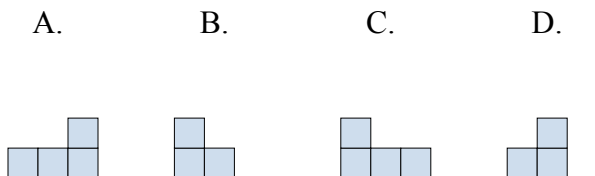
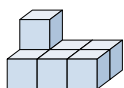
- 3) Если вы посмотрите на фигуру 3d сверху, то что вы увидите?



- 4) Если вы посмотрите на фигуру 3d с левой стороны, то что вы увидите?



- 5) Если вы посмотрите на фигуру 3d с левой стороны, то что вы увидите?

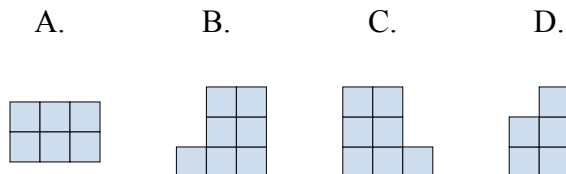
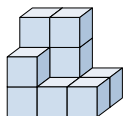




Решите каждую задачу.

ОТВЕТЫ

- 1) Если вы посмотрите на фигуру 3d с правой стороны, то что вы увидите?



1. _____

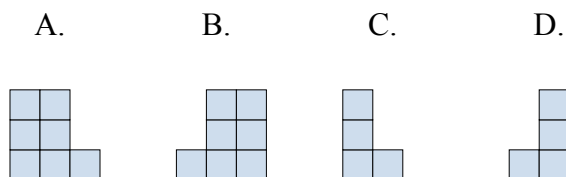
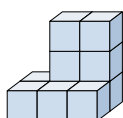
2. _____

3. _____

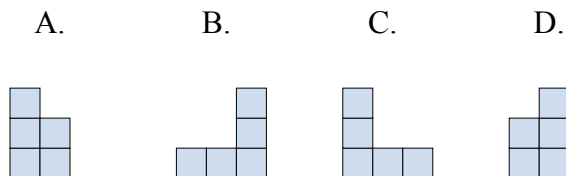
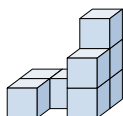
4. _____

5. _____

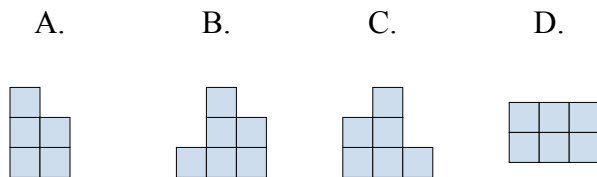
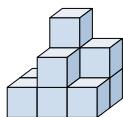
- 2) Если вы посмотрите на фигуру 3d сзади, то что вы увидите?



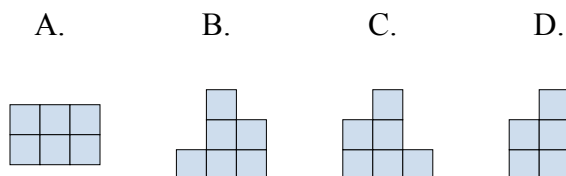
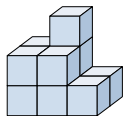
- 3) Если вы посмотрите на фигуру 3d сзади, то что вы увидите?



- 4) Если вы посмотрите на фигуру 3d сзади, то что вы увидите?



- 5) Если вы посмотрите на фигуру 3d сверху, то что вы увидите?

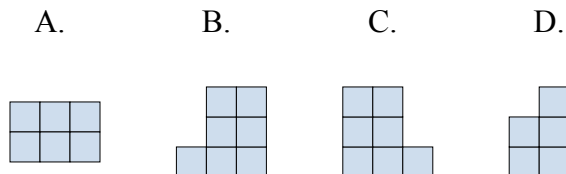
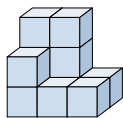




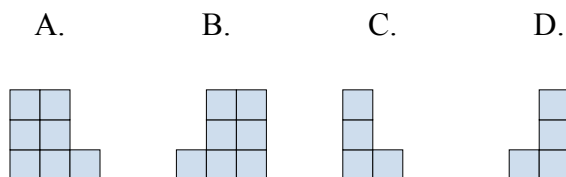
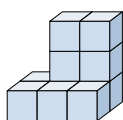
Решите каждую задачу.

ОТВЕТЫ

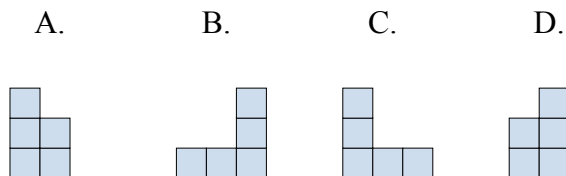
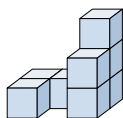
- 1) Если вы посмотрите на фигуру 3d с правой стороны, то что вы увидите?

1. **D**

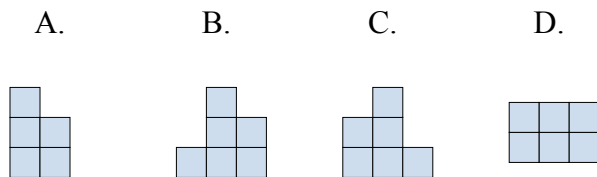
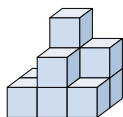
- 2) Если вы посмотрите на фигуру 3d сзади, то что вы увидите?

2. **A**3. **C**4. **C**5. **A**

- 3) Если вы посмотрите на фигуру 3d сзади, то что вы увидите?



- 4) Если вы посмотрите на фигуру 3d сзади, то что вы увидите?



- 5) Если вы посмотрите на фигуру 3d сверху, то что вы увидите?

