

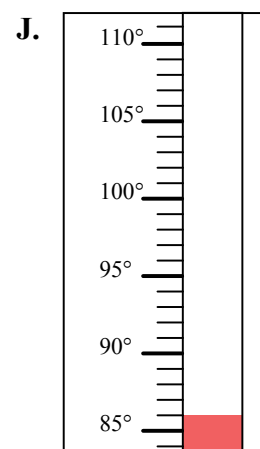
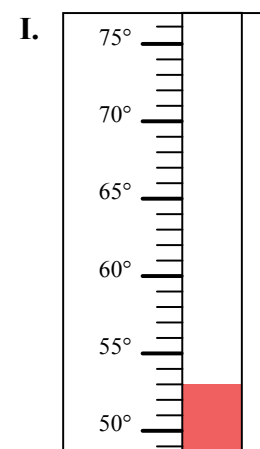
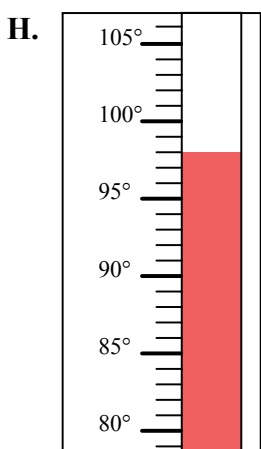
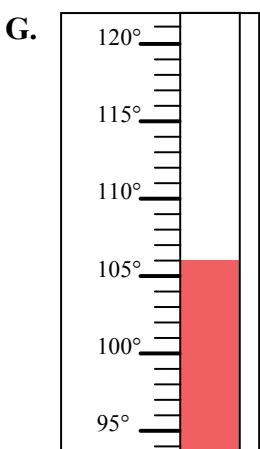
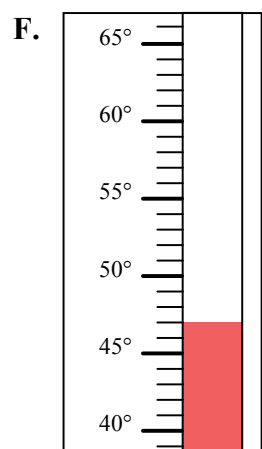
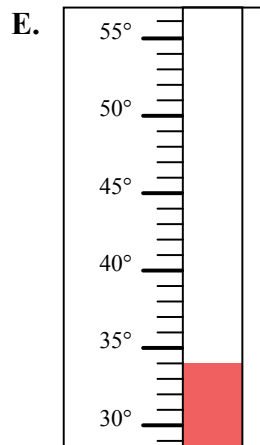
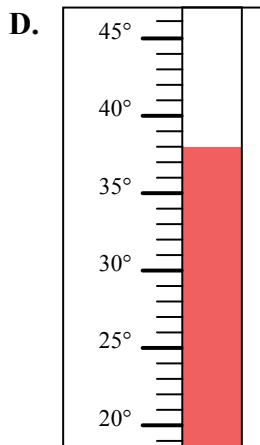
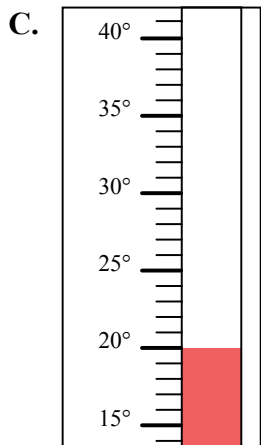
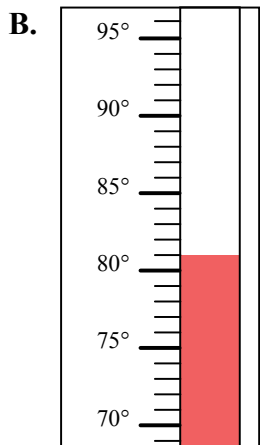
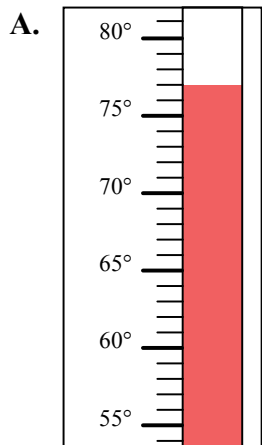


Определите под какой буквой находится правильный ответ.

ОТВЕТЫ

- 1) Какой термометр наилучшим образом показывает температуру 53° ?
- 2) Какой термометр наилучшим образом показывает температуру 98° ?
- 3) Какой термометр наилучшим образом показывает температуру 77° ?
- 4) Какой термометр наилучшим образом показывает температуру 106° ?
- 5) Какой термометр наилучшим образом показывает температуру 47° ?
- 6) Какой термометр наилучшим образом показывает температуру 86° ?
- 7) Какой термометр наилучшим образом показывает температуру 34° ?
- 8) Какой термометр наилучшим образом показывает температуру 81° ?
- 9) Какой термометр наилучшим образом показывает температуру 20° ?
- 10) Какой термометр наилучшим образом показывает температуру 38° ?

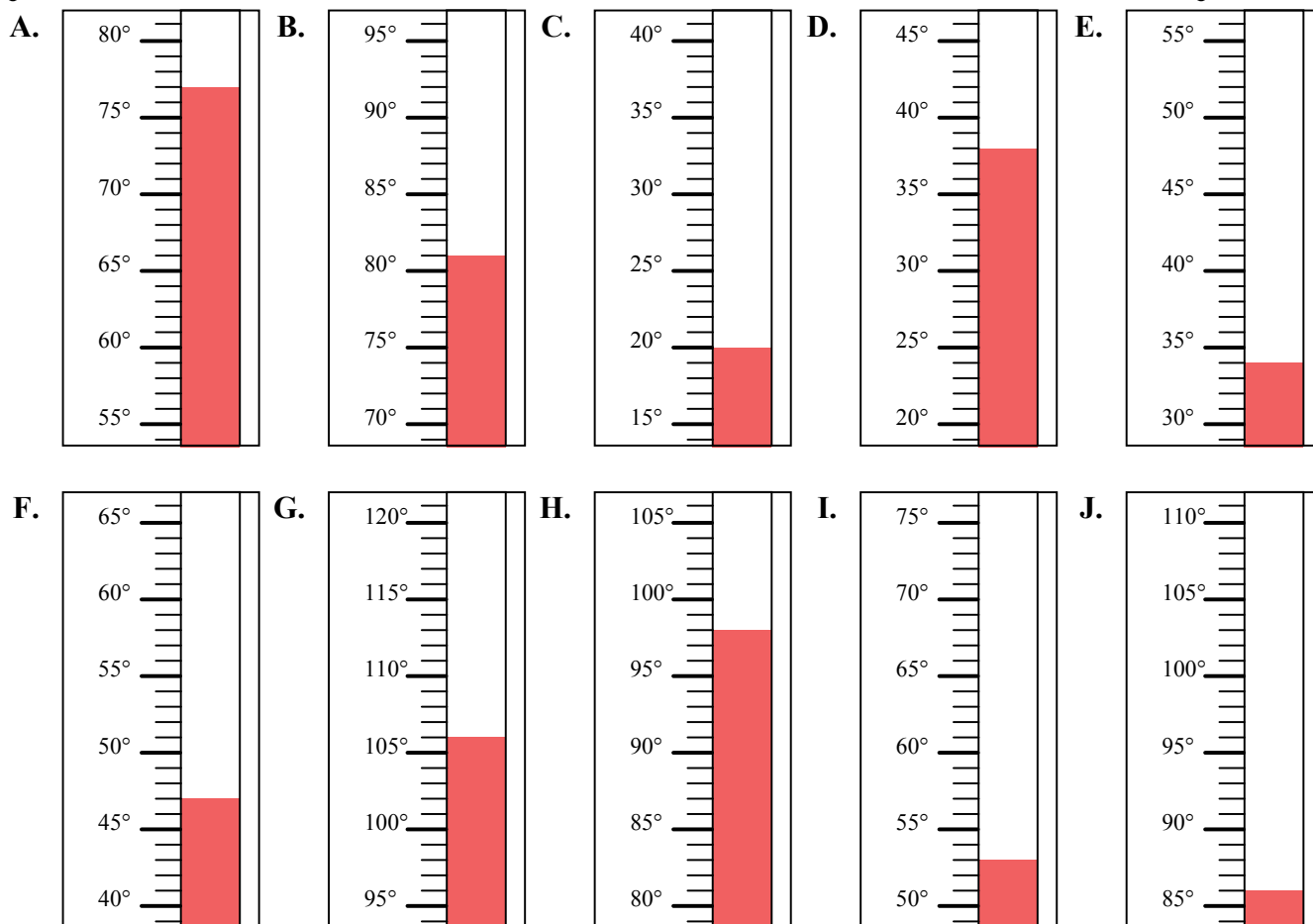
1. _____
2. _____
3. _____
4. _____
5. _____
6. _____
7. _____
8. _____
9. _____
10. _____





Определите под какой буквой находится правильный ответ.

- 1) Какой термометр наилучшим образом показывает температуру 53° ?
- 2) Какой термометр наилучшим образом показывает температуру 98° ?
- 3) Какой термометр наилучшим образом показывает температуру 77° ?
- 4) Какой термометр наилучшим образом показывает температуру 106° ?
- 5) Какой термометр наилучшим образом показывает температуру 47° ?
- 6) Какой термометр наилучшим образом показывает температуру 86° ?
- 7) Какой термометр наилучшим образом показывает температуру 34° ?
- 8) Какой термометр наилучшим образом показывает температуру 81° ?
- 9) Какой термометр наилучшим образом показывает температуру 20° ?
- 10) Какой термометр наилучшим образом показывает температуру 38° ?



ОТВЕТЫ

1. I
2. H
3. A
4. G
5. F
6. J
7. E
8. B
9. C
10. D