

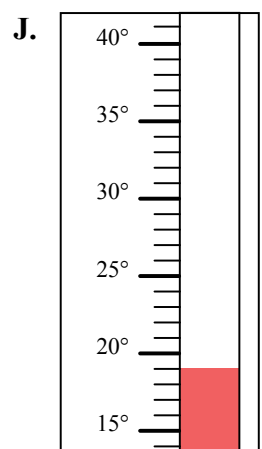
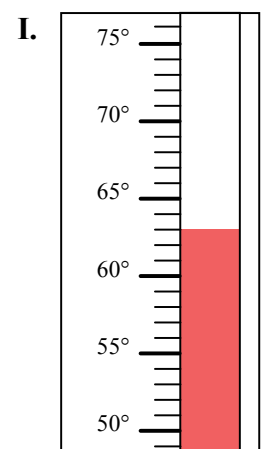
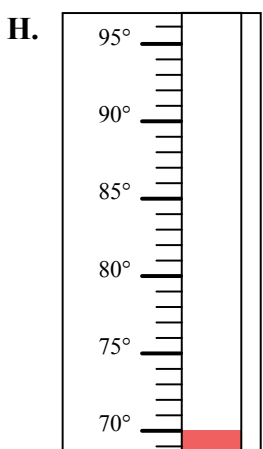
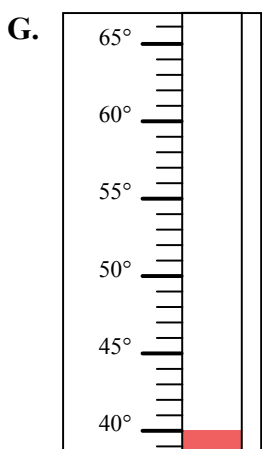
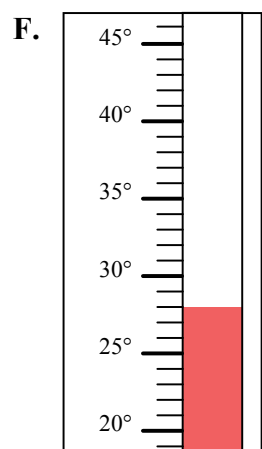
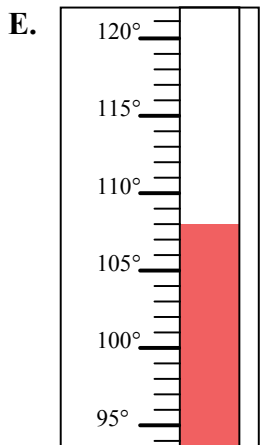
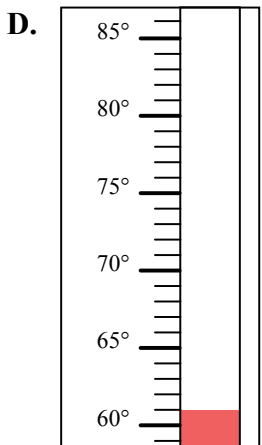
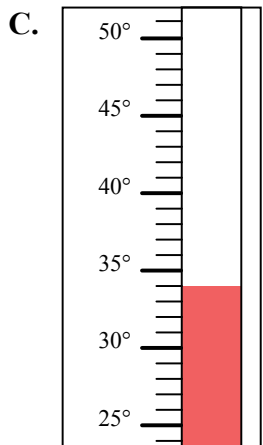
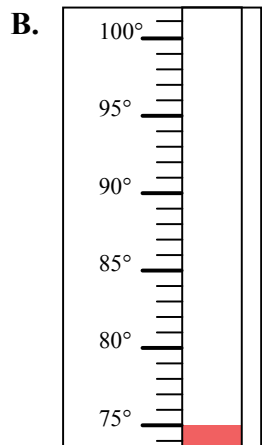
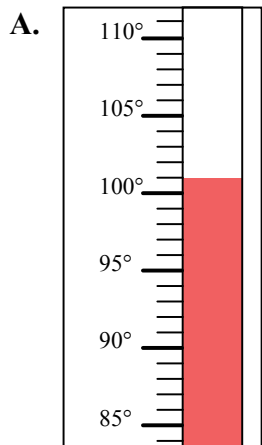


Определите под какой буквой находится правильный ответ.

ОТВЕТЫ

- 1) Какой термометр наилучшим образом показывает температуру 101° ?
- 2) Какой термометр наилучшим образом показывает температуру 34° ?
- 3) Какой термометр наилучшим образом показывает температуру 63° ?
- 4) Какой термометр наилучшим образом показывает температуру 108° ?
- 5) Какой термометр наилучшим образом показывает температуру 61° ?
- 6) Какой термометр наилучшим образом показывает температуру 75° ?
- 7) Какой термометр наилучшим образом показывает температуру 40° ?
- 8) Какой термометр наилучшим образом показывает температуру 28° ?
- 9) Какой термометр наилучшим образом показывает температуру 70° ?
- 10) Какой термометр наилучшим образом показывает температуру 19° ?

1. _____
2. _____
3. _____
4. _____
5. _____
6. _____
7. _____
8. _____
9. _____
10. _____

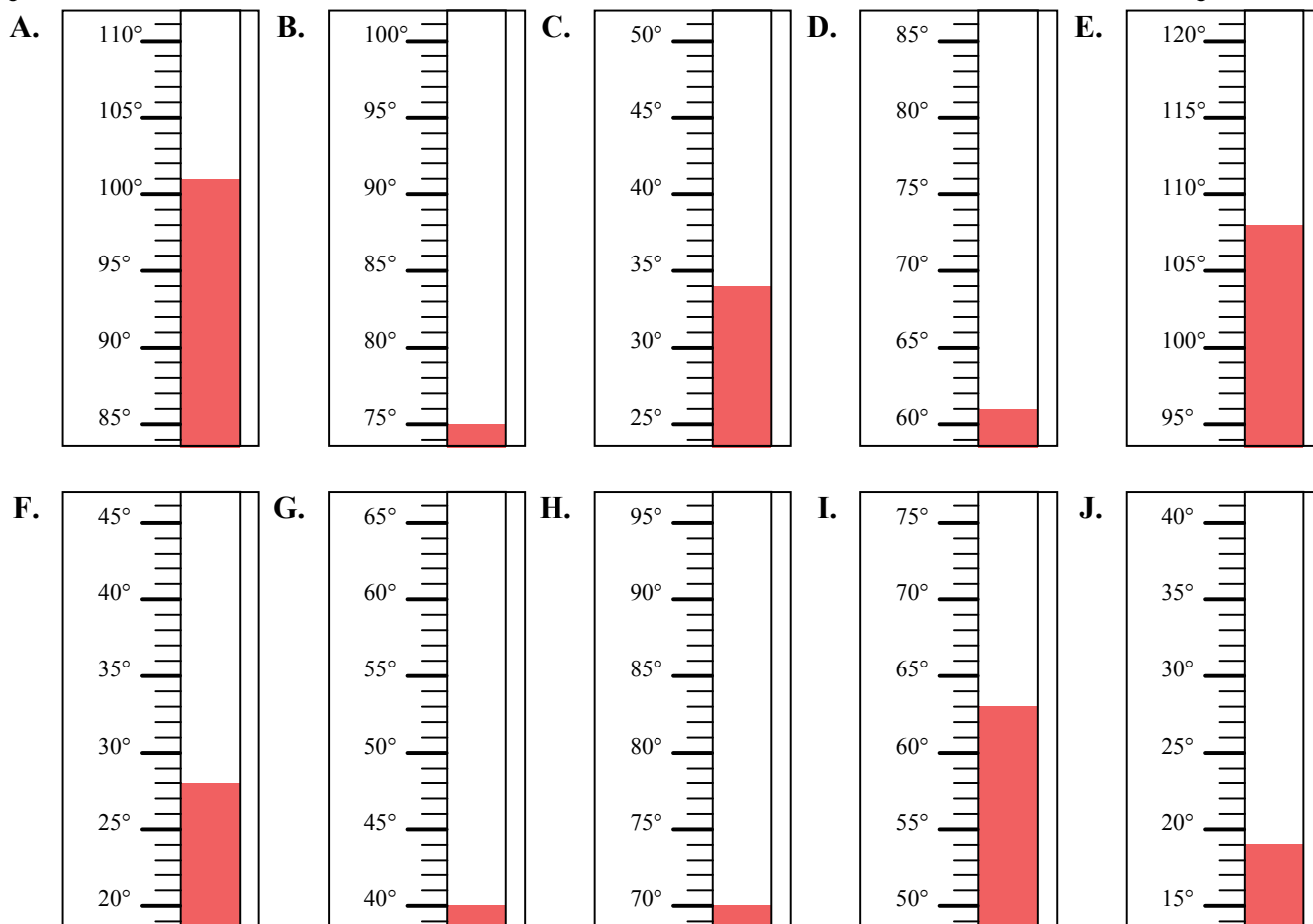




Определите под какой буквой находится правильный ответ.

ОТВЕТЫ

- 1) Какой термометр наилучшим образом показывает температуру 101° ?
- 2) Какой термометр наилучшим образом показывает температуру 34° ?
- 3) Какой термометр наилучшим образом показывает температуру 63° ?
- 4) Какой термометр наилучшим образом показывает температуру 108° ?
- 5) Какой термометр наилучшим образом показывает температуру 61° ?
- 6) Какой термометр наилучшим образом показывает температуру 75° ?
- 7) Какой термометр наилучшим образом показывает температуру 40° ?
- 8) Какой термометр наилучшим образом показывает температуру 28° ?
- 9) Какой термометр наилучшим образом показывает температуру 70° ?
- 10) Какой термометр наилучшим образом показывает температуру 19° ?



1. A
2. C
3. I
4. E
5. D
6. B
7. G
8. F
9. H
10. J