

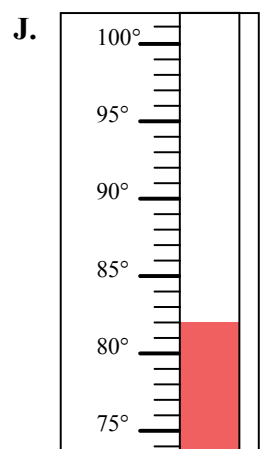
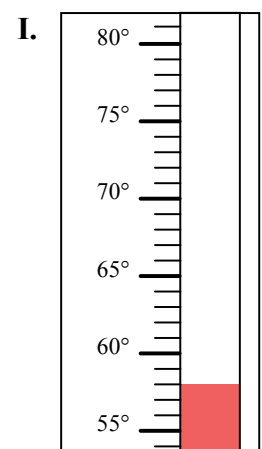
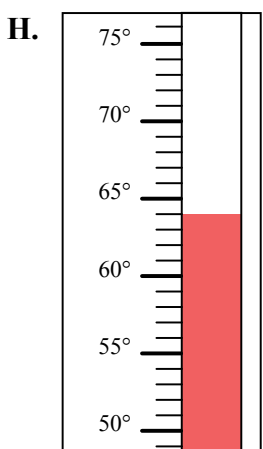
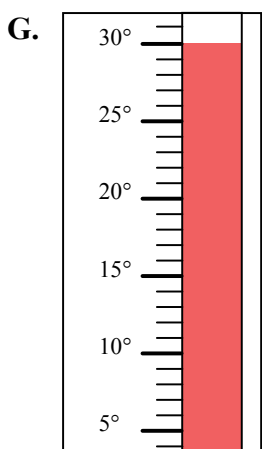
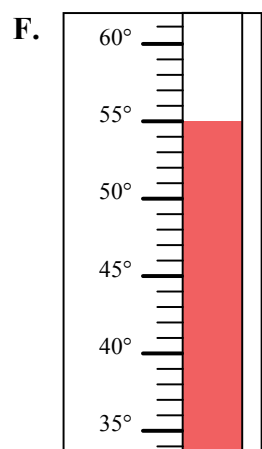
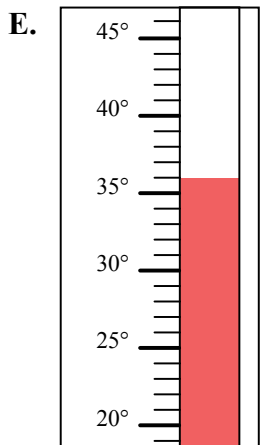
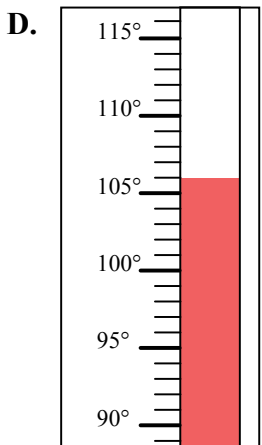
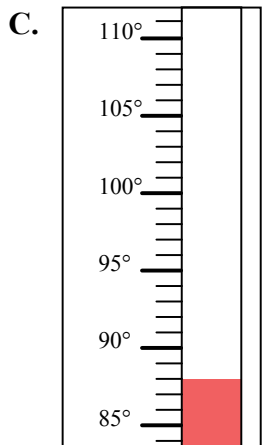
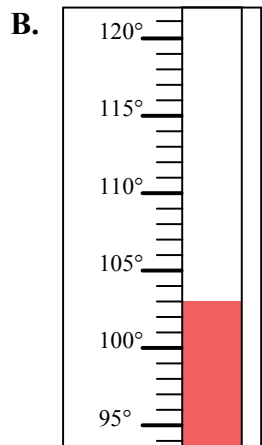
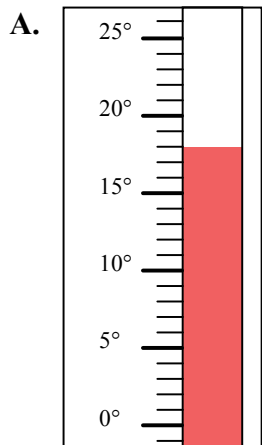


Определите под какой буквой находится правильный ответ.

ОТВЕТЫ

- 1) Какой термометр наилучшим образом показывает температуру 82°?
- 2) Какой термометр наилучшим образом показывает температуру 64°?
- 3) Какой термометр наилучшим образом показывает температуру 58°?
- 4) Какой термометр наилучшим образом показывает температуру 106°?
- 5) Какой термометр наилучшим образом показывает температуру 88°?
- 6) Какой термометр наилучшим образом показывает температуру 36°?
- 7) Какой термометр наилучшим образом показывает температуру 18°?
- 8) Какой термометр наилучшим образом показывает температуру 30°?
- 9) Какой термометр наилучшим образом показывает температуру 55°?
- 10) Какой термометр наилучшим образом показывает температуру 103°?

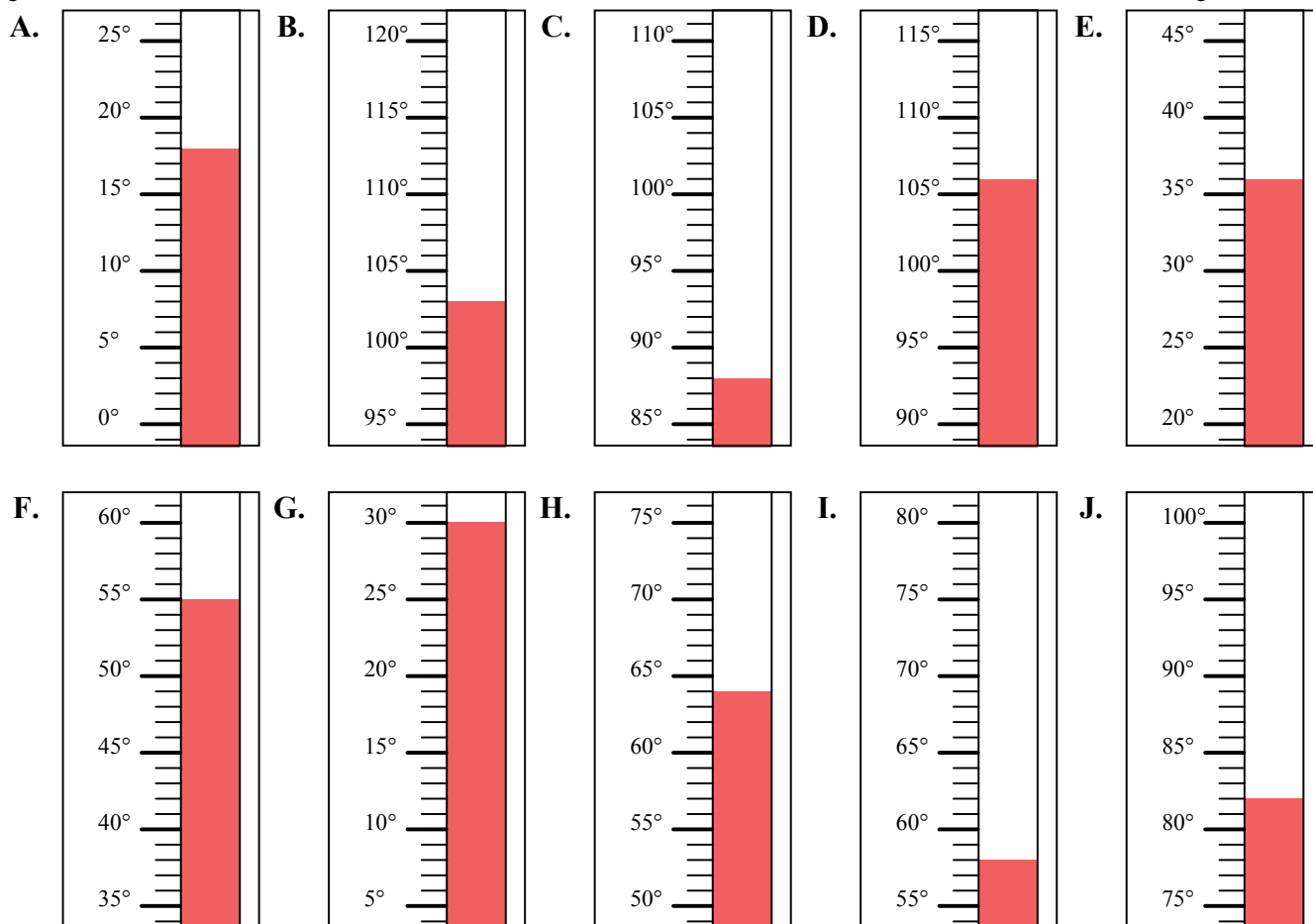
1. _____
2. _____
3. _____
4. _____
5. _____
6. _____
7. _____
8. _____
9. _____
10. _____





Определите под какой буквой находится правильный ответ.

- 1) Какой термометр наилучшим образом показывает температуру 82° ?
- 2) Какой термометр наилучшим образом показывает температуру 64° ?
- 3) Какой термометр наилучшим образом показывает температуру 58° ?
- 4) Какой термометр наилучшим образом показывает температуру 106° ?
- 5) Какой термометр наилучшим образом показывает температуру 88° ?
- 6) Какой термометр наилучшим образом показывает температуру 36° ?
- 7) Какой термометр наилучшим образом показывает температуру 18° ?
- 8) Какой термометр наилучшим образом показывает температуру 30° ?
- 9) Какой термометр наилучшим образом показывает температуру 55° ?
- 10) Какой термометр наилучшим образом показывает температуру 103° ?

**ОТВЕТЫ**

1. **J**
2. **H**
3. **I**
4. **D**
5. **C**
6. **E**
7. **A**
8. **G**
9. **F**
10. **B**