

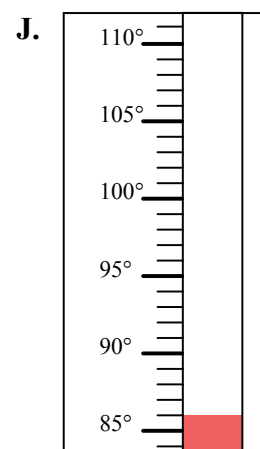
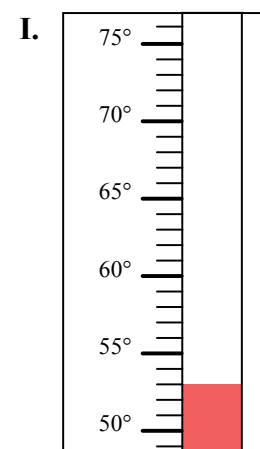
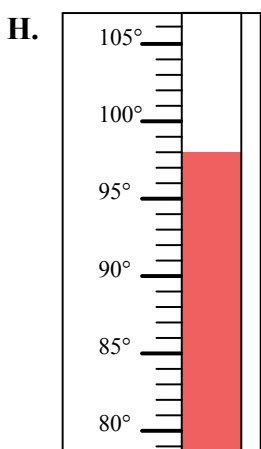
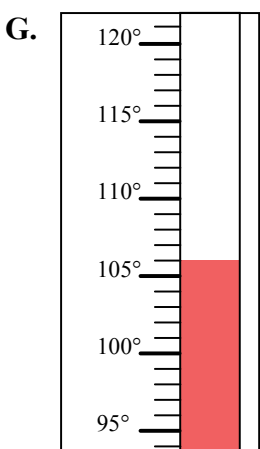
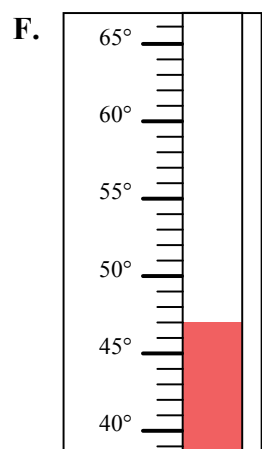
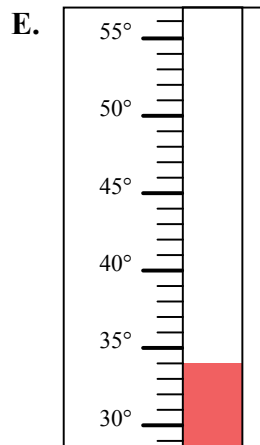
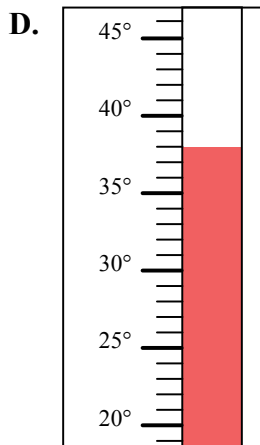
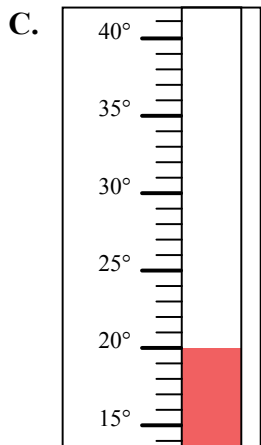
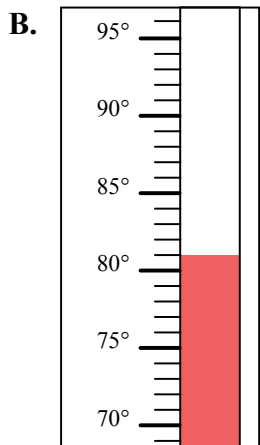
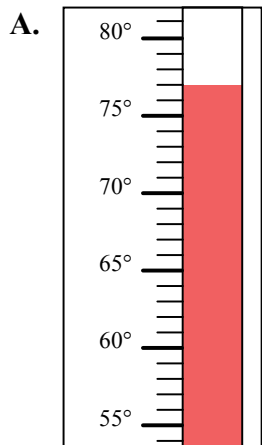


Определите под какой буквой находится правильный ответ.

ОТВЕТЫ

- 1) Какой термометр наилучшим образом показывает температуру 53°?
- 2) Какой термометр наилучшим образом показывает температуру 98°?
- 3) Какой термометр наилучшим образом показывает температуру 77°?
- 4) Какой термометр наилучшим образом показывает температуру 106°?
- 5) Какой термометр наилучшим образом показывает температуру 47°?
- 6) Какой термометр наилучшим образом показывает температуру 86°?
- 7) Какой термометр наилучшим образом показывает температуру 34°?
- 8) Какой термометр наилучшим образом показывает температуру 81°?
- 9) Какой термометр наилучшим образом показывает температуру 20°?
- 10) Какой термометр наилучшим образом показывает температуру 38°?

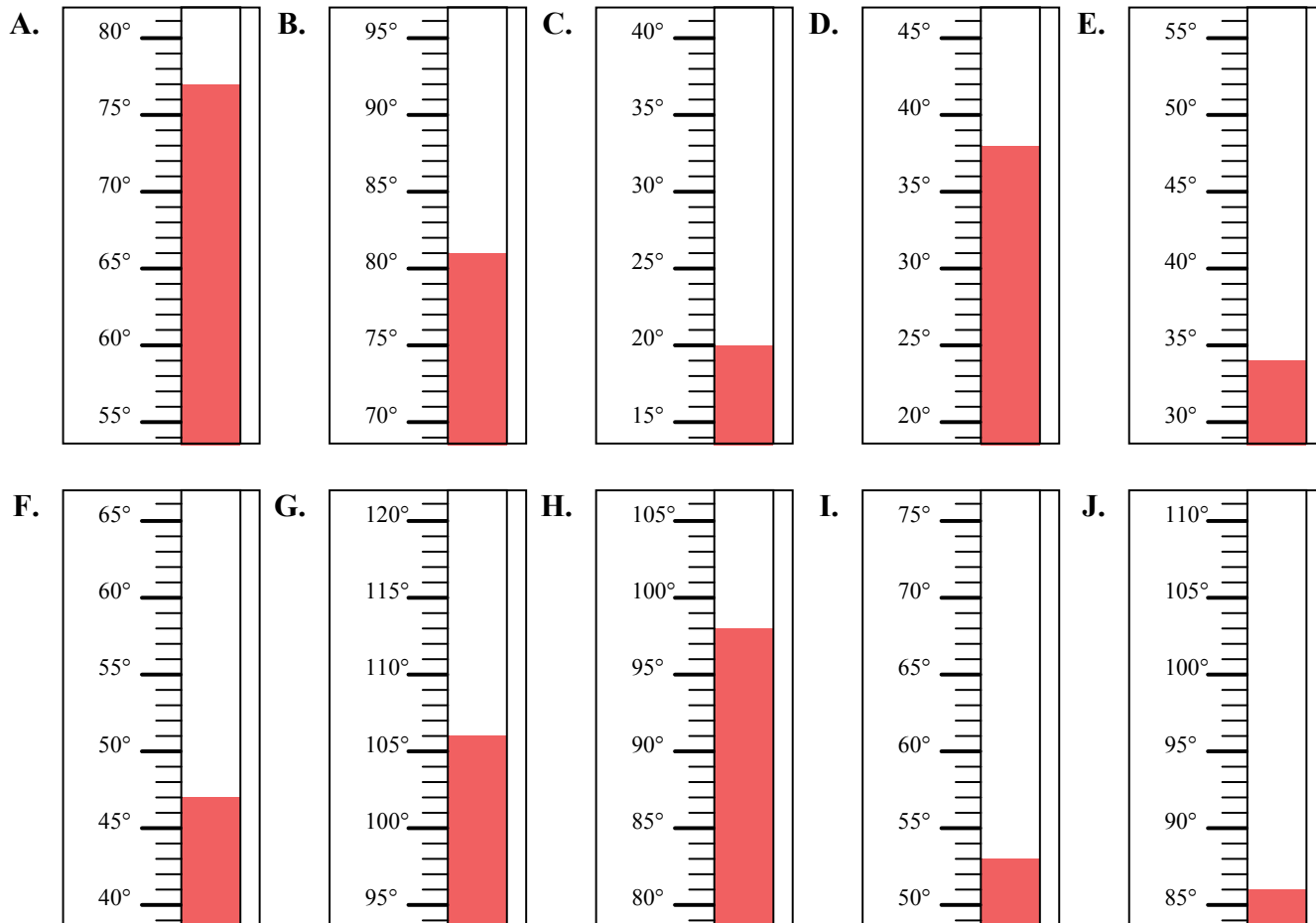
1. _____
2. _____
3. _____
4. _____
5. _____
6. _____
7. _____
8. _____
9. _____
10. _____





Определите под какой буквой находится правильный ответ.

- 1) Какой термометр наилучшим образом показывает температуру 53° ?
- 2) Какой термометр наилучшим образом показывает температуру 98° ?
- 3) Какой термометр наилучшим образом показывает температуру 77° ?
- 4) Какой термометр наилучшим образом показывает температуру 106° ?
- 5) Какой термометр наилучшим образом показывает температуру 47° ?
- 6) Какой термометр наилучшим образом показывает температуру 86° ?
- 7) Какой термометр наилучшим образом показывает температуру 34° ?
- 8) Какой термометр наилучшим образом показывает температуру 81° ?
- 9) Какой термометр наилучшим образом показывает температуру 20° ?
- 10) Какой термометр наилучшим образом показывает температуру 38° ?



ОТВЕТЫ

1. I
2. H
3. A
4. G
5. F
6. J
7. E
8. B
9. C
10. D



Определите под какой буквой находится правильный ответ.

ОТВЕТЫ

- 1) Какой термометр наилучшим образом показывает температуру 39° ?
- 2) Какой термометр наилучшим образом показывает температуру 12° ?
- 3) Какой термометр наилучшим образом показывает температуру 75° ?
- 4) Какой термометр наилучшим образом показывает температуру 100° ?
- 5) Какой термометр наилучшим образом показывает температуру 33° ?
- 6) Какой термометр наилучшим образом показывает температуру 15° ?
- 7) Какой термометр наилучшим образом показывает температуру 94° ?
- 8) Какой термометр наилучшим образом показывает температуру 54° ?
- 9) Какой термометр наилучшим образом показывает температуру 62° ?
- 10) Какой термометр наилучшим образом показывает температуру 41° ?

1. _____

2. _____

3. _____

4. _____

5. _____

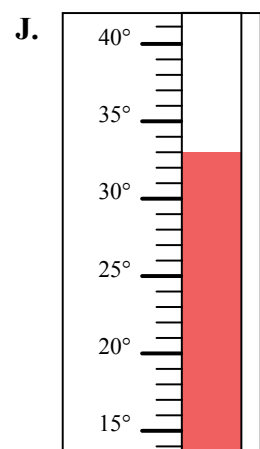
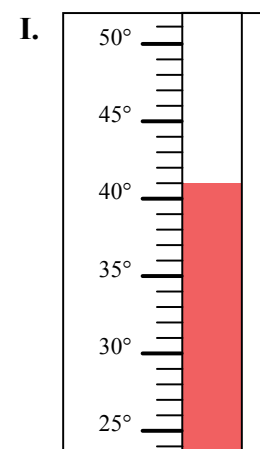
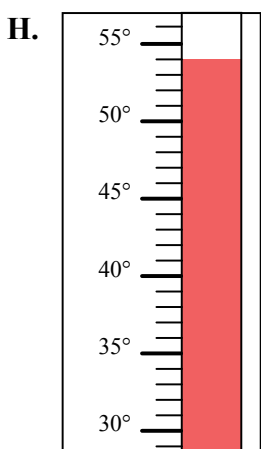
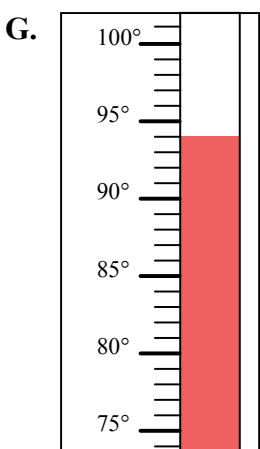
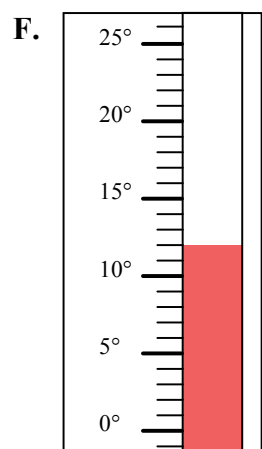
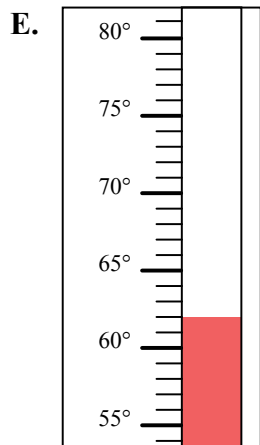
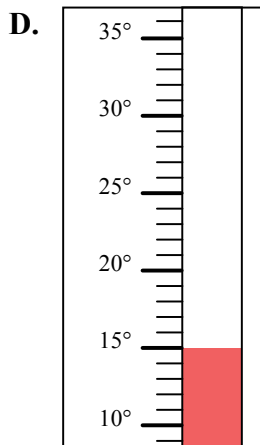
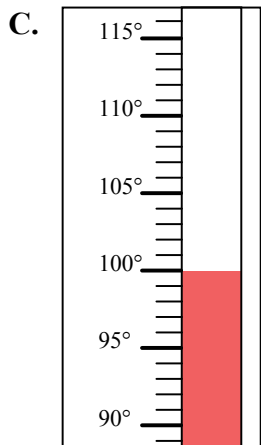
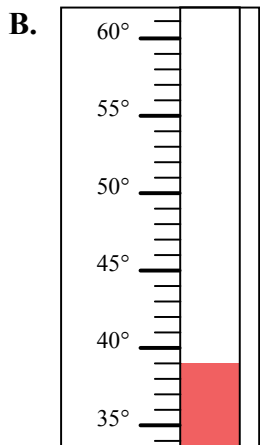
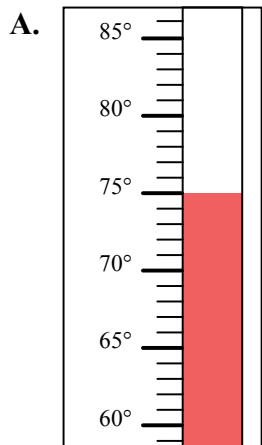
6. _____

7. _____

8. _____

9. _____

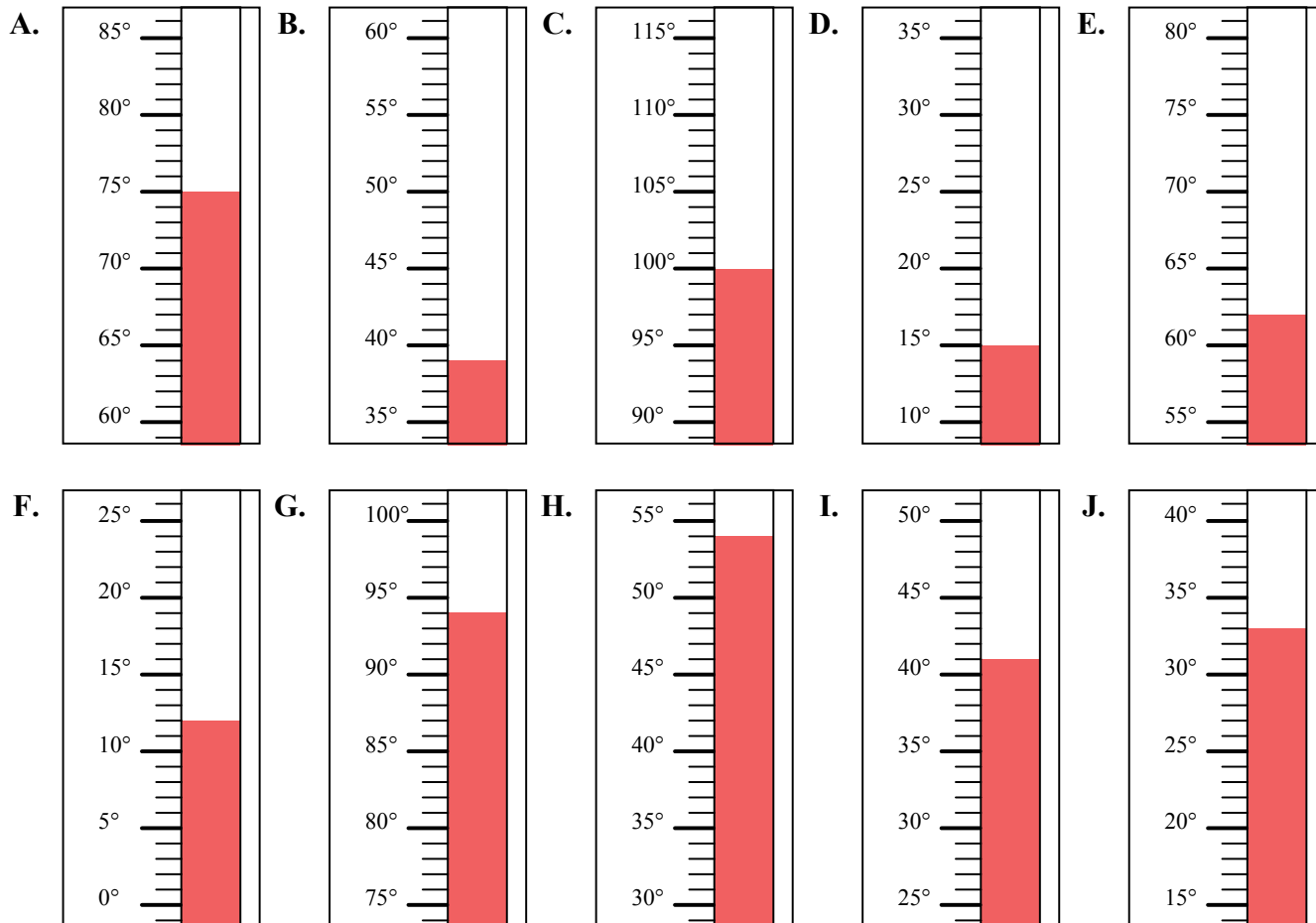
10. _____





Определите под какой буквой находится правильный ответ.

- 1) Какой термометр наилучшим образом показывает температуру 39°?
- 2) Какой термометр наилучшим образом показывает температуру 12°?
- 3) Какой термометр наилучшим образом показывает температуру 75°?
- 4) Какой термометр наилучшим образом показывает температуру 100°?
- 5) Какой термометр наилучшим образом показывает температуру 33°?
- 6) Какой термометр наилучшим образом показывает температуру 15°?
- 7) Какой термометр наилучшим образом показывает температуру 94°?
- 8) Какой термометр наилучшим образом показывает температуру 54°?
- 9) Какой термометр наилучшим образом показывает температуру 62°?
- 10) Какой термометр наилучшим образом показывает температуру 41°?



ОТВЕТЫ

1. В
2. F
3. A
4. C
5. J
6. D
7. G
8. H
9. E
10. I

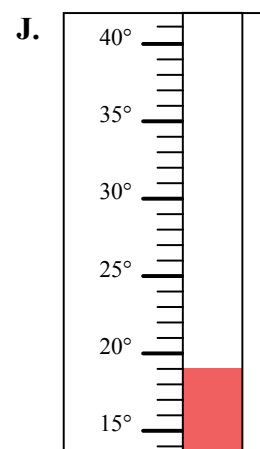
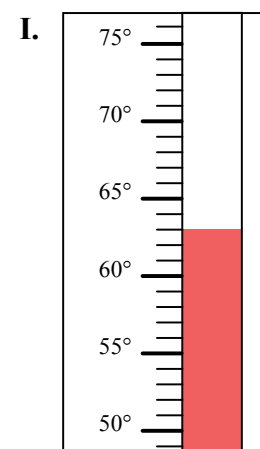
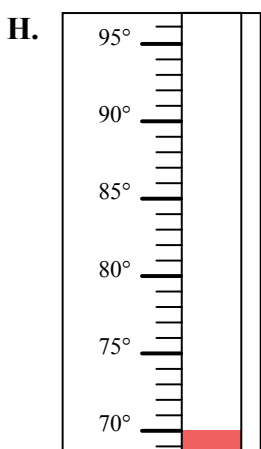
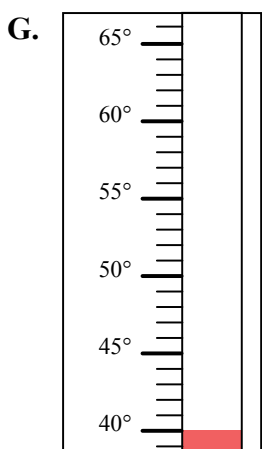
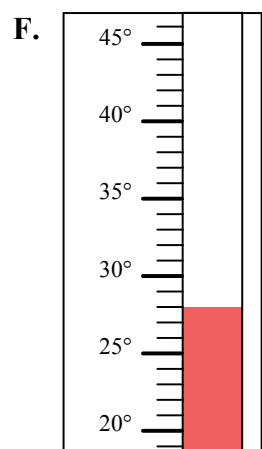
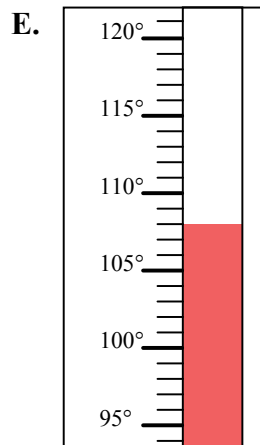
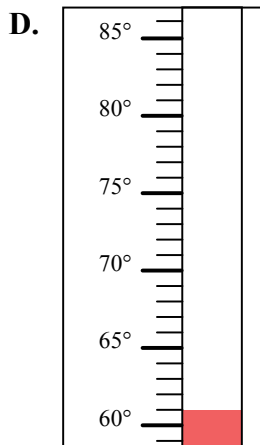
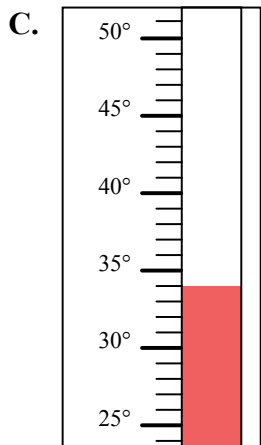
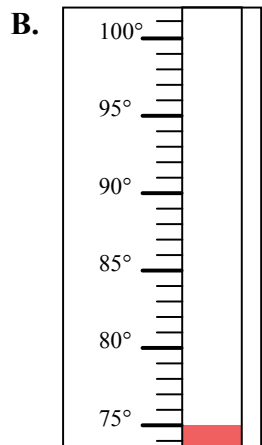
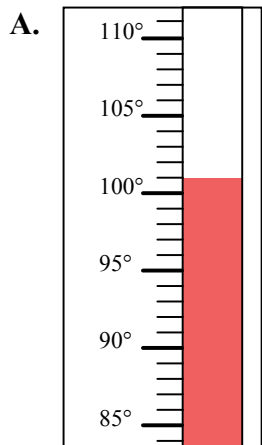


Определите под какой буквой находится правильный ответ.

ОТВЕТЫ

- 1) Какой термометр наилучшим образом показывает температуру 101° ?
- 2) Какой термометр наилучшим образом показывает температуру 34° ?
- 3) Какой термометр наилучшим образом показывает температуру 63° ?
- 4) Какой термометр наилучшим образом показывает температуру 108° ?
- 5) Какой термометр наилучшим образом показывает температуру 61° ?
- 6) Какой термометр наилучшим образом показывает температуру 75° ?
- 7) Какой термометр наилучшим образом показывает температуру 40° ?
- 8) Какой термометр наилучшим образом показывает температуру 28° ?
- 9) Какой термометр наилучшим образом показывает температуру 70° ?
- 10) Какой термометр наилучшим образом показывает температуру 19° ?

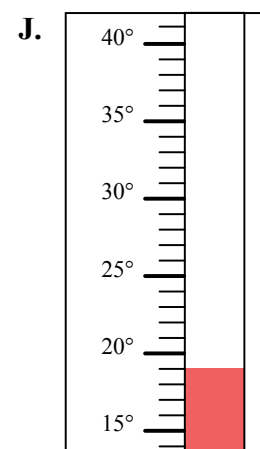
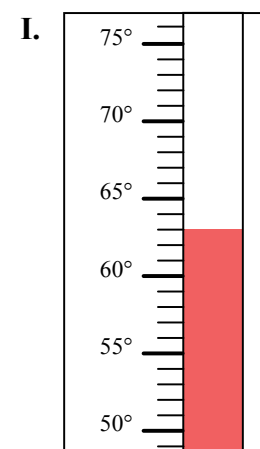
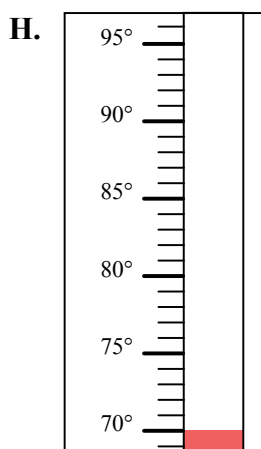
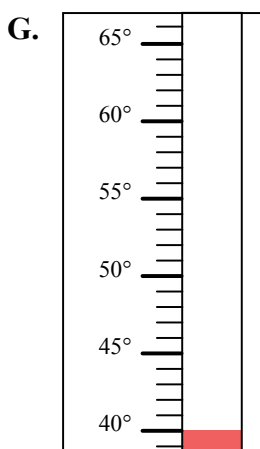
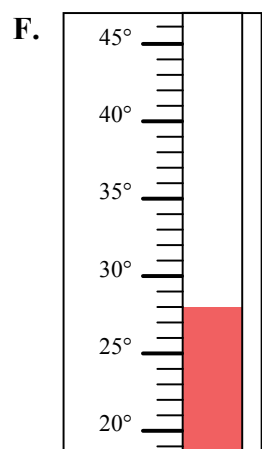
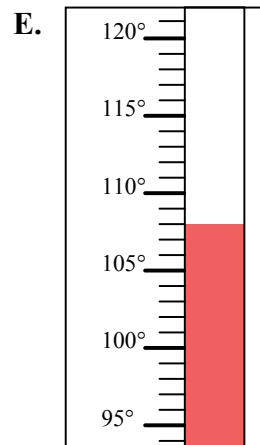
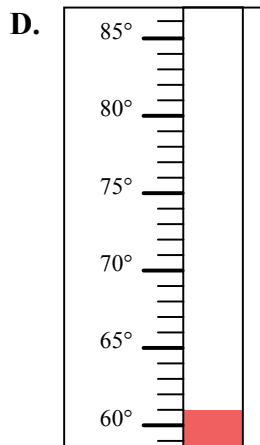
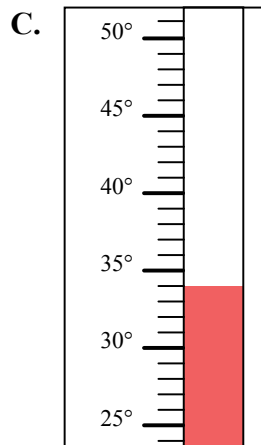
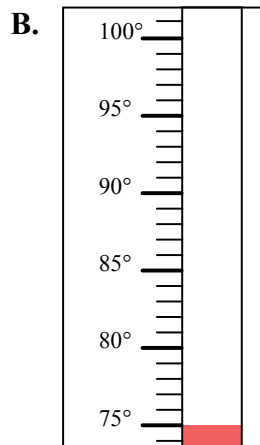
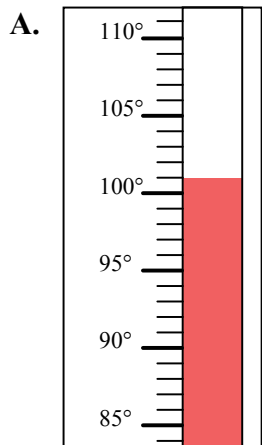
1. _____
2. _____
3. _____
4. _____
5. _____
6. _____
7. _____
8. _____
9. _____
10. _____





Определите под какой буквой находится правильный ответ.

- 1) Какой термометр наилучшим образом показывает температуру 101° ?
- 2) Какой термометр наилучшим образом показывает температуру 34° ?
- 3) Какой термометр наилучшим образом показывает температуру 63° ?
- 4) Какой термометр наилучшим образом показывает температуру 108° ?
- 5) Какой термометр наилучшим образом показывает температуру 61° ?
- 6) Какой термометр наилучшим образом показывает температуру 75° ?
- 7) Какой термометр наилучшим образом показывает температуру 40° ?
- 8) Какой термометр наилучшим образом показывает температуру 28° ?
- 9) Какой термометр наилучшим образом показывает температуру 70° ?
- 10) Какой термометр наилучшим образом показывает температуру 19° ?

**ОТВЕТЫ**1. **A** 2. **C** 3. **I** 4. **E** 5. **D** 6. **B** 7. **G** 8. **F** 9. **H** 10. **J**

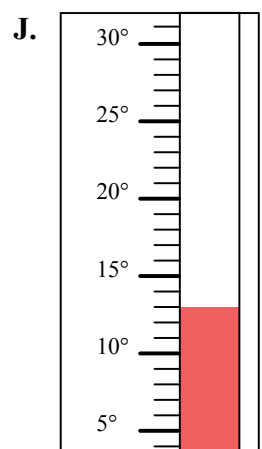
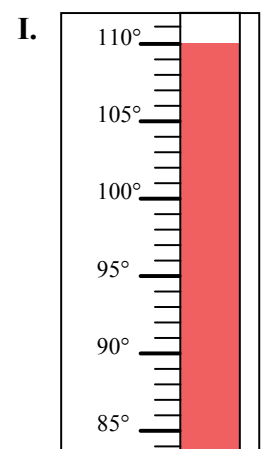
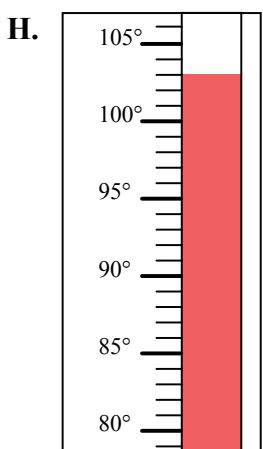
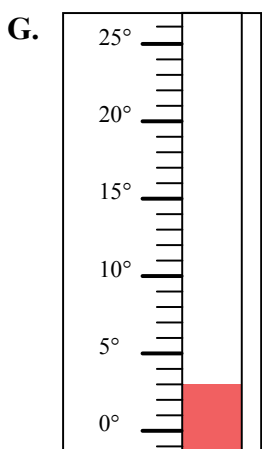
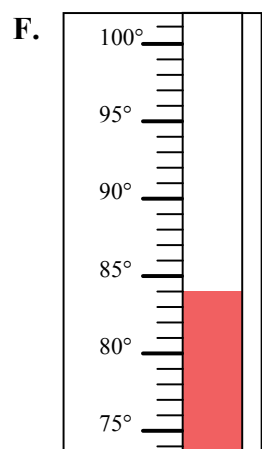
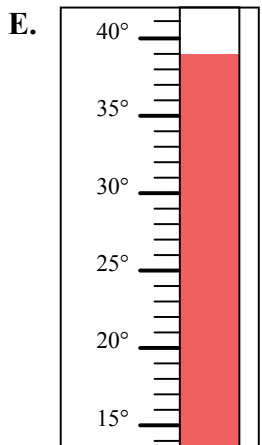
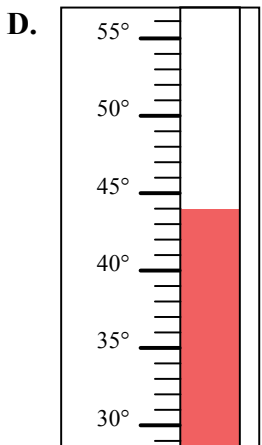
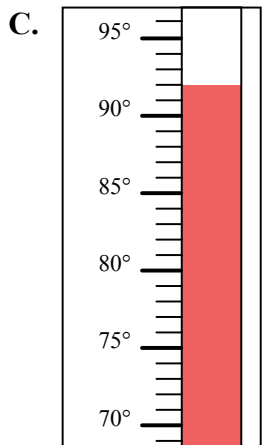
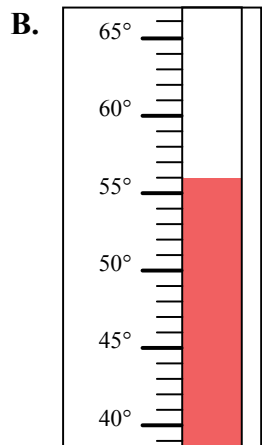
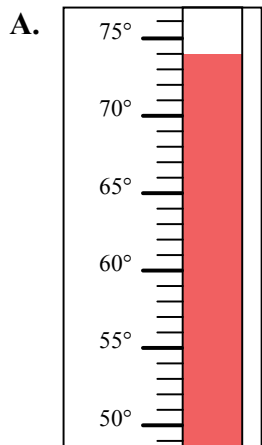


Определите под какой буквой находится правильный ответ.

ОТВЕТЫ

- 1) Какой термометр наилучшим образом показывает температуру 92° ?
- 2) Какой термометр наилучшим образом показывает температуру 84° ?
- 3) Какой термометр наилучшим образом показывает температуру 56° ?
- 4) Какой термометр наилучшим образом показывает температуру 110° ?
- 5) Какой термометр наилучшим образом показывает температуру 13° ?
- 6) Какой термометр наилучшим образом показывает температуру 39° ?
- 7) Какой термометр наилучшим образом показывает температуру 3° ?
- 8) Какой термометр наилучшим образом показывает температуру 44° ?
- 9) Какой термометр наилучшим образом показывает температуру 74° ?
- 10) Какой термометр наилучшим образом показывает температуру 103° ?

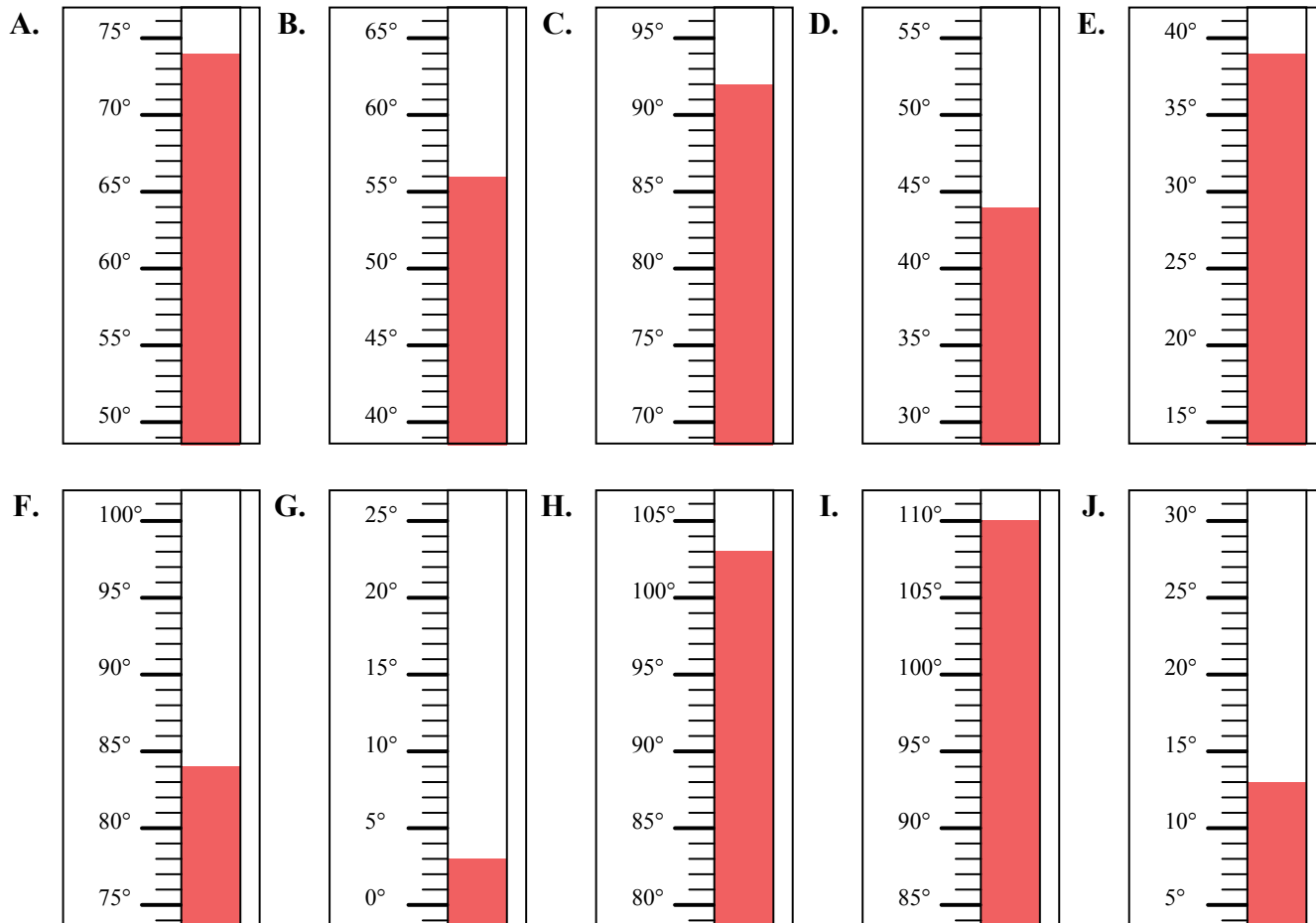
1. _____
2. _____
3. _____
4. _____
5. _____
6. _____
7. _____
8. _____
9. _____
10. _____





Определите под какой буквой находится правильный ответ.

- 1) Какой термометр наилучшим образом показывает температуру 92°?
- 2) Какой термометр наилучшим образом показывает температуру 84°?
- 3) Какой термометр наилучшим образом показывает температуру 56°?
- 4) Какой термометр наилучшим образом показывает температуру 110°?
- 5) Какой термометр наилучшим образом показывает температуру 13°?
- 6) Какой термометр наилучшим образом показывает температуру 39°?
- 7) Какой термометр наилучшим образом показывает температуру 3°?
- 8) Какой термометр наилучшим образом показывает температуру 44°?
- 9) Какой термометр наилучшим образом показывает температуру 74°?
- 10) Какой термометр наилучшим образом показывает температуру 103°?



ОТВЕТЫ

1. C
2. F
3. B
4. I
5. J
6. E
7. G
8. D
9. A
10. H

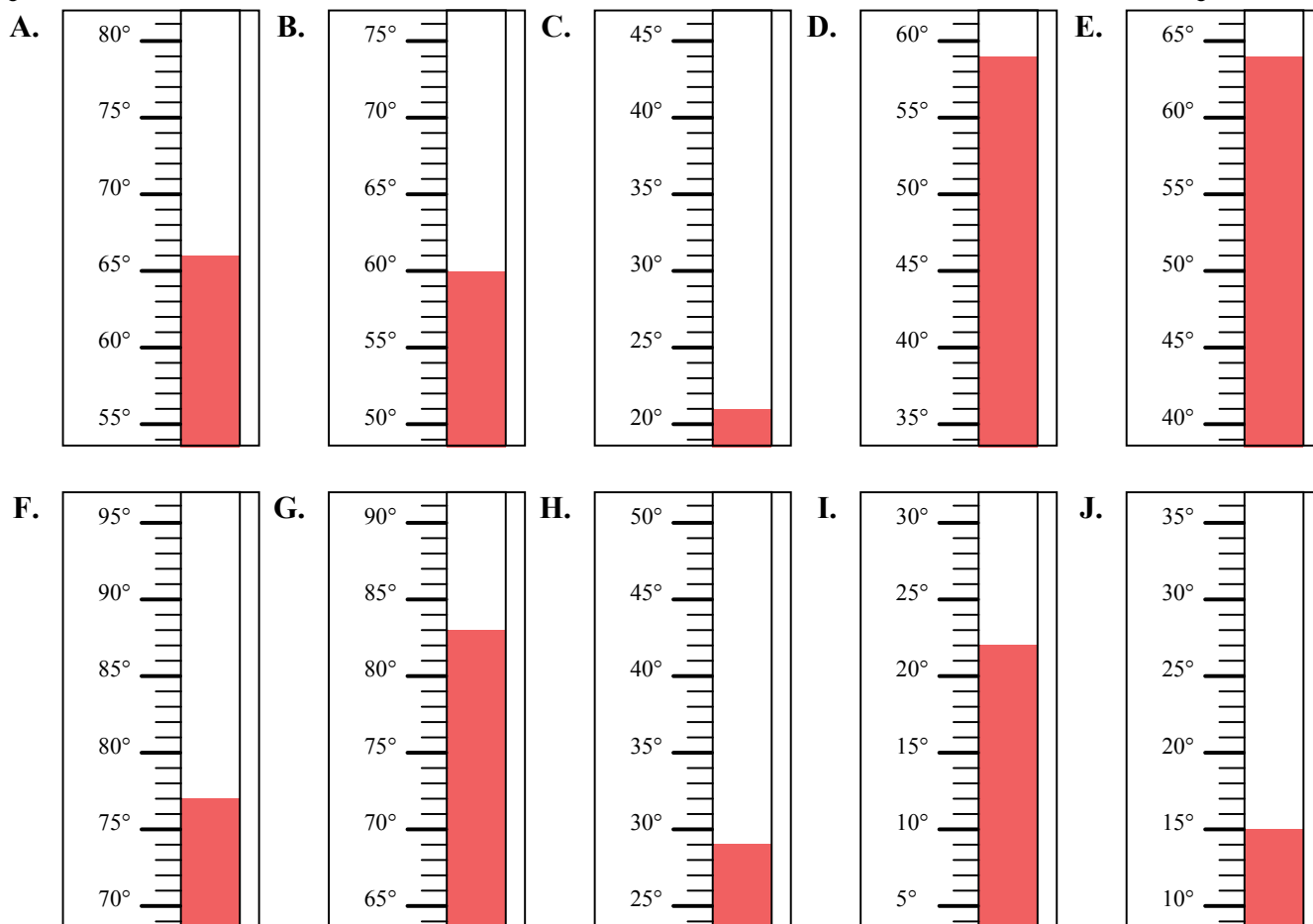


Определите под какой буквой находится правильный ответ.

ОТВЕТЫ

- 1) Какой термометр наилучшим образом показывает температуру 22°?
- 2) Какой термометр наилучшим образом показывает температуру 66°?
- 3) Какой термометр наилучшим образом показывает температуру 15°?
- 4) Какой термометр наилучшим образом показывает температуру 83°?
- 5) Какой термометр наилучшим образом показывает температуру 21°?
- 6) Какой термометр наилучшим образом показывает температуру 59°?
- 7) Какой термометр наилучшим образом показывает температуру 60°?
- 8) Какой термометр наилучшим образом показывает температуру 77°?
- 9) Какой термометр наилучшим образом показывает температуру 64°?
- 10) Какой термометр наилучшим образом показывает температуру 29°?

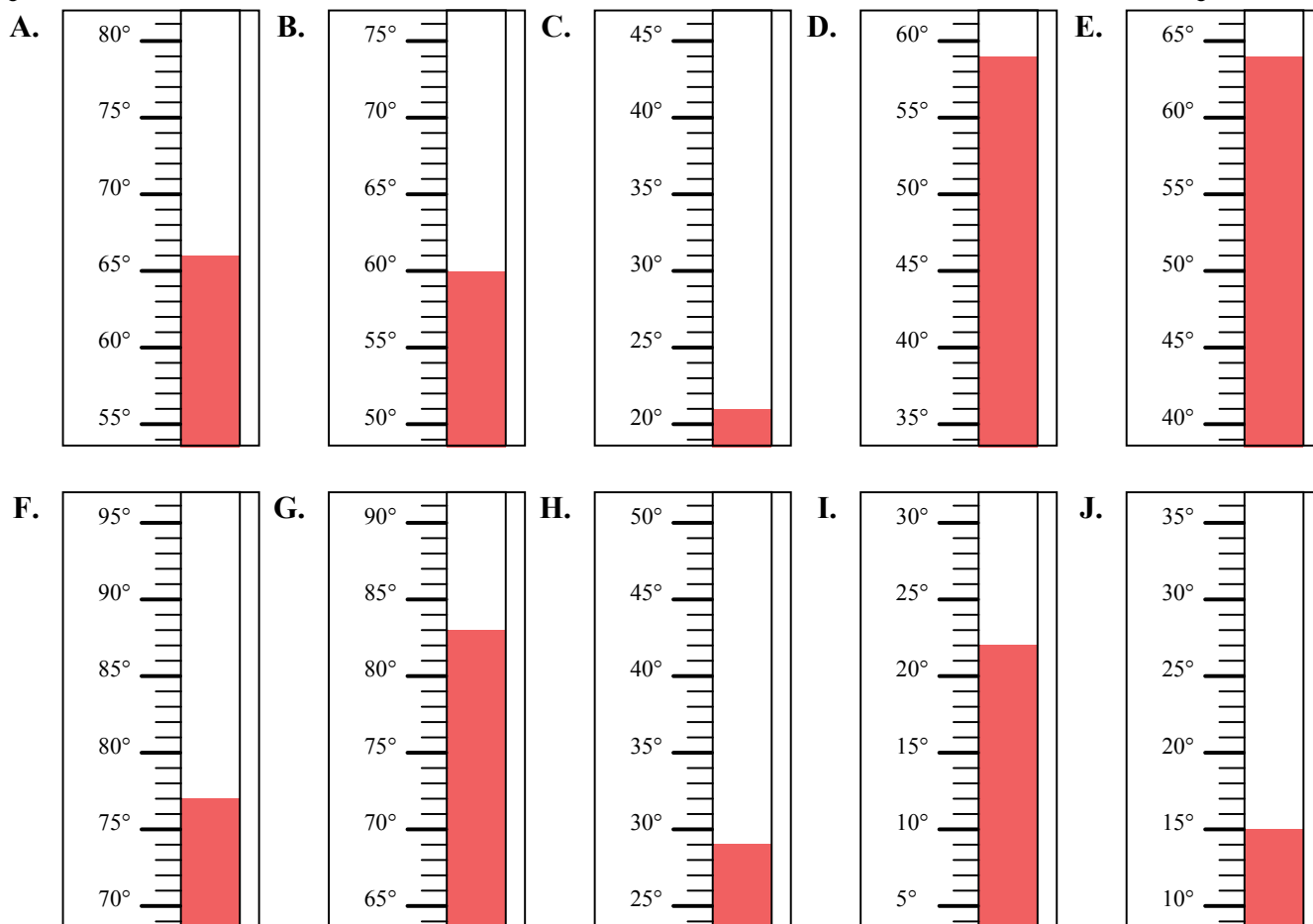
1. _____
2. _____
3. _____
4. _____
5. _____
6. _____
7. _____
8. _____
9. _____
10. _____





Определите под какой буквой находится правильный ответ.

- 1) Какой термометр наилучшим образом показывает температуру 22°?
- 2) Какой термометр наилучшим образом показывает температуру 66°?
- 3) Какой термометр наилучшим образом показывает температуру 15°?
- 4) Какой термометр наилучшим образом показывает температуру 83°?
- 5) Какой термометр наилучшим образом показывает температуру 21°?
- 6) Какой термометр наилучшим образом показывает температуру 59°?
- 7) Какой термометр наилучшим образом показывает температуру 60°?
- 8) Какой термометр наилучшим образом показывает температуру 77°?
- 9) Какой термометр наилучшим образом показывает температуру 64°?
- 10) Какой термометр наилучшим образом показывает температуру 29°?

**ОТВЕТЫ**

1. I
2. A
3. J
4. G
5. C
6. D
7. B
8. F
9. E
10. H

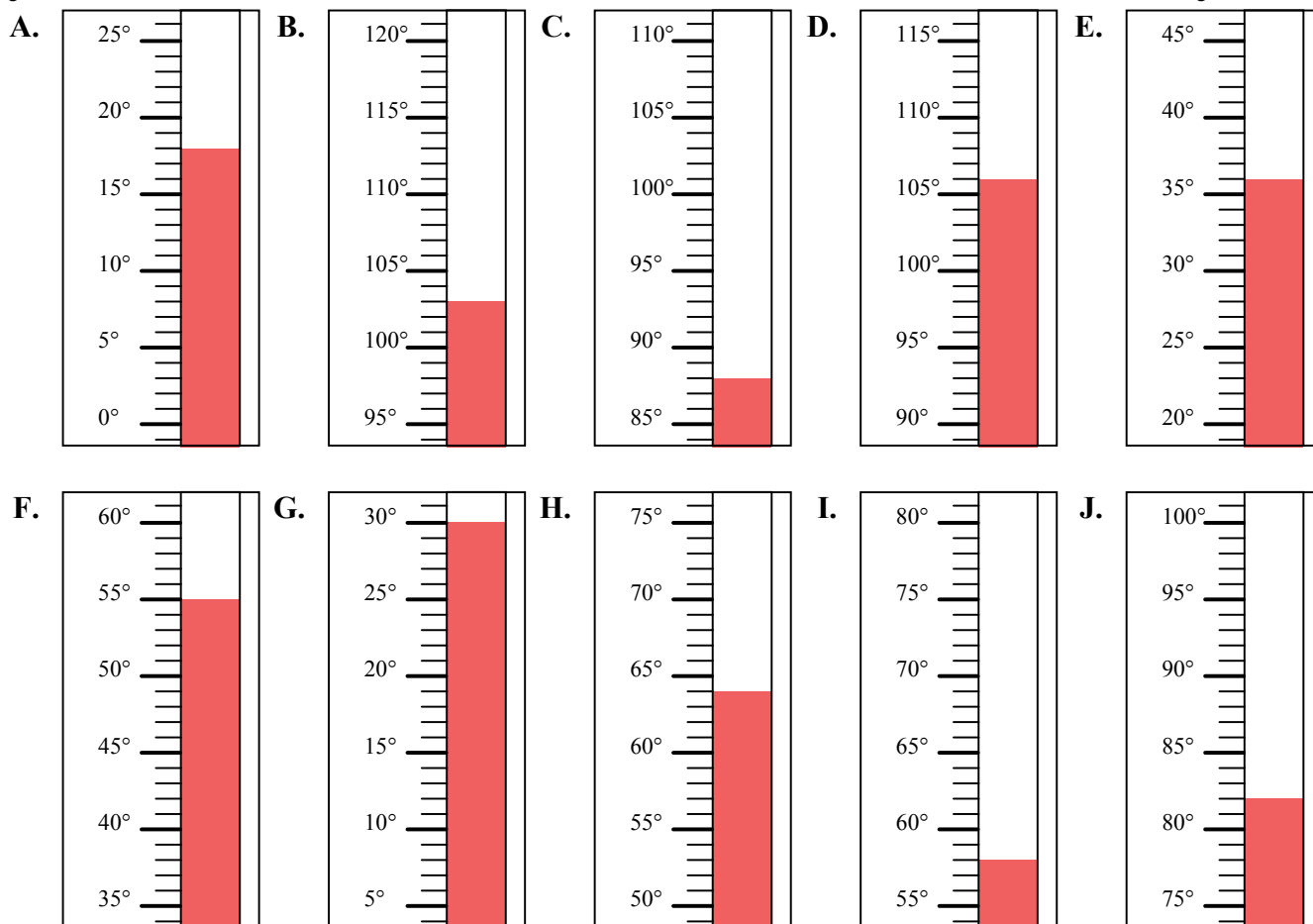


Определите под какой буквой находится правильный ответ.

ОТВЕТЫ

- 1) Какой термометр наилучшим образом показывает температуру 82°?
- 2) Какой термометр наилучшим образом показывает температуру 64°?
- 3) Какой термометр наилучшим образом показывает температуру 58°?
- 4) Какой термометр наилучшим образом показывает температуру 106°?
- 5) Какой термометр наилучшим образом показывает температуру 88°?
- 6) Какой термометр наилучшим образом показывает температуру 36°?
- 7) Какой термометр наилучшим образом показывает температуру 18°?
- 8) Какой термометр наилучшим образом показывает температуру 30°?
- 9) Какой термометр наилучшим образом показывает температуру 55°?
- 10) Какой термометр наилучшим образом показывает температуру 103°?

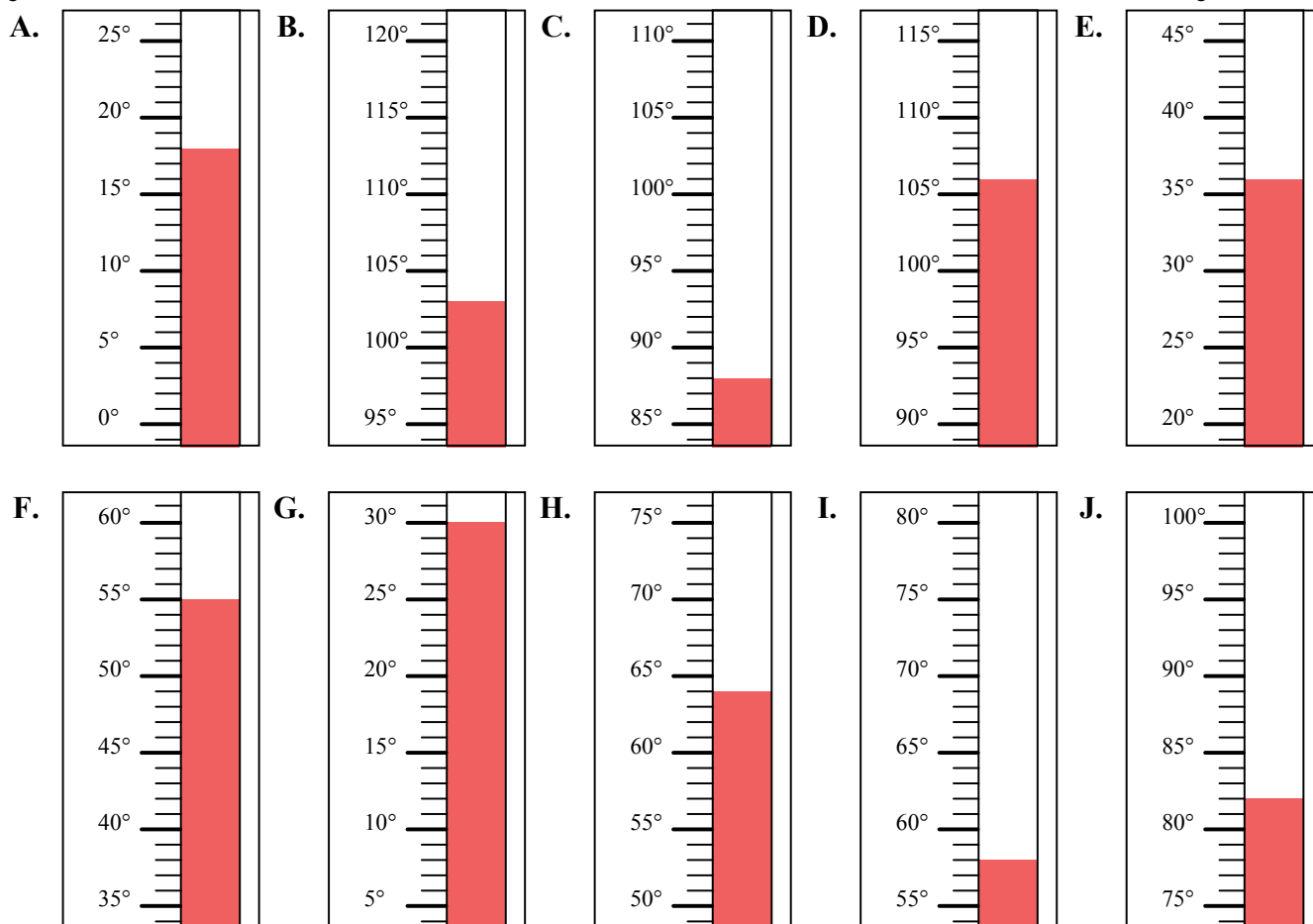
1. _____
2. _____
3. _____
4. _____
5. _____
6. _____
7. _____
8. _____
9. _____
10. _____





Определите под какой буквой находится правильный ответ.

- 1) Какой термометр наилучшим образом показывает температуру 82° ?
- 2) Какой термометр наилучшим образом показывает температуру 64° ?
- 3) Какой термометр наилучшим образом показывает температуру 58° ?
- 4) Какой термометр наилучшим образом показывает температуру 106° ?
- 5) Какой термометр наилучшим образом показывает температуру 88° ?
- 6) Какой термометр наилучшим образом показывает температуру 36° ?
- 7) Какой термометр наилучшим образом показывает температуру 18° ?
- 8) Какой термометр наилучшим образом показывает температуру 30° ?
- 9) Какой термометр наилучшим образом показывает температуру 55° ?
- 10) Какой термометр наилучшим образом показывает температуру 103° ?



ОТВЕТЫ

1. **J**
2. **H**
3. **I**
4. **D**
5. **C**
6. **E**
7. **A**
8. **G**
9. **F**
10. **B**

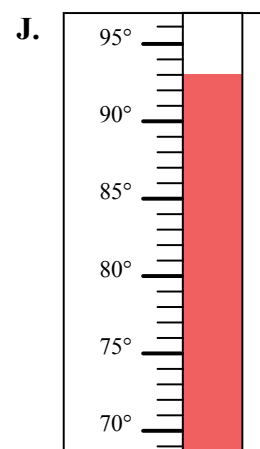
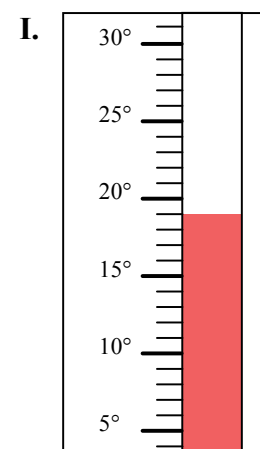
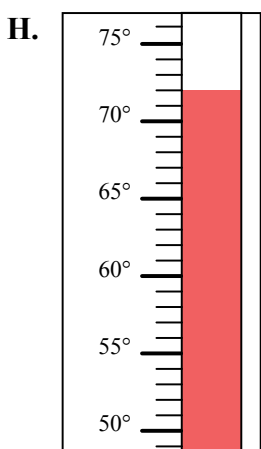
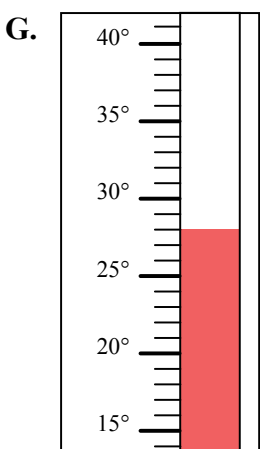
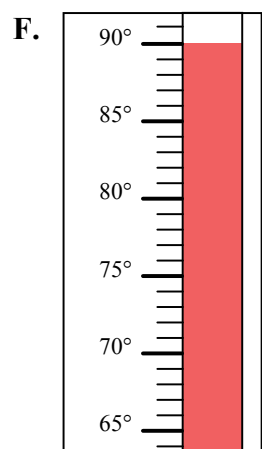
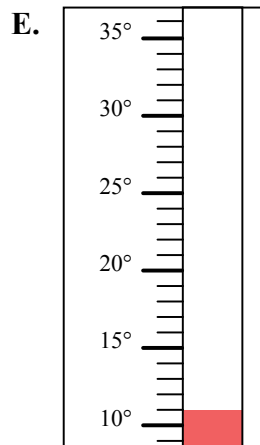
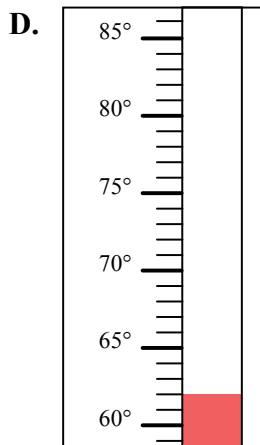
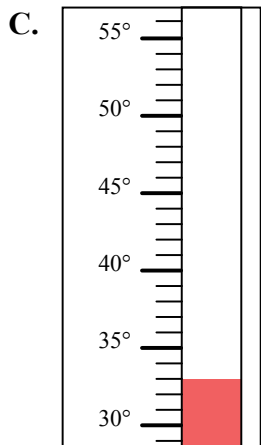
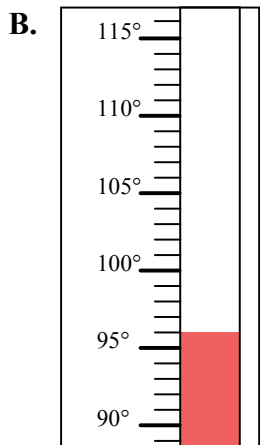
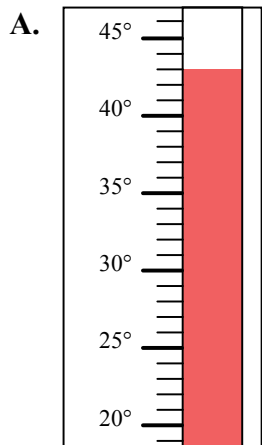


Определите под какой буквой находится правильный ответ.

ОТВЕТЫ

- 1) Какой термометр наилучшим образом показывает температуру 62° ?
- 2) Какой термометр наилучшим образом показывает температуру 43° ?
- 3) Какой термометр наилучшим образом показывает температуру 72° ?
- 4) Какой термометр наилучшим образом показывает температуру 33° ?
- 5) Какой термометр наилучшим образом показывает температуру 11° ?
- 6) Какой термометр наилучшим образом показывает температуру 93° ?
- 7) Какой термометр наилучшим образом показывает температуру 96° ?
- 8) Какой термометр наилучшим образом показывает температуру 19° ?
- 9) Какой термометр наилучшим образом показывает температуру 28° ?
- 10) Какой термометр наилучшим образом показывает температуру 90° ?

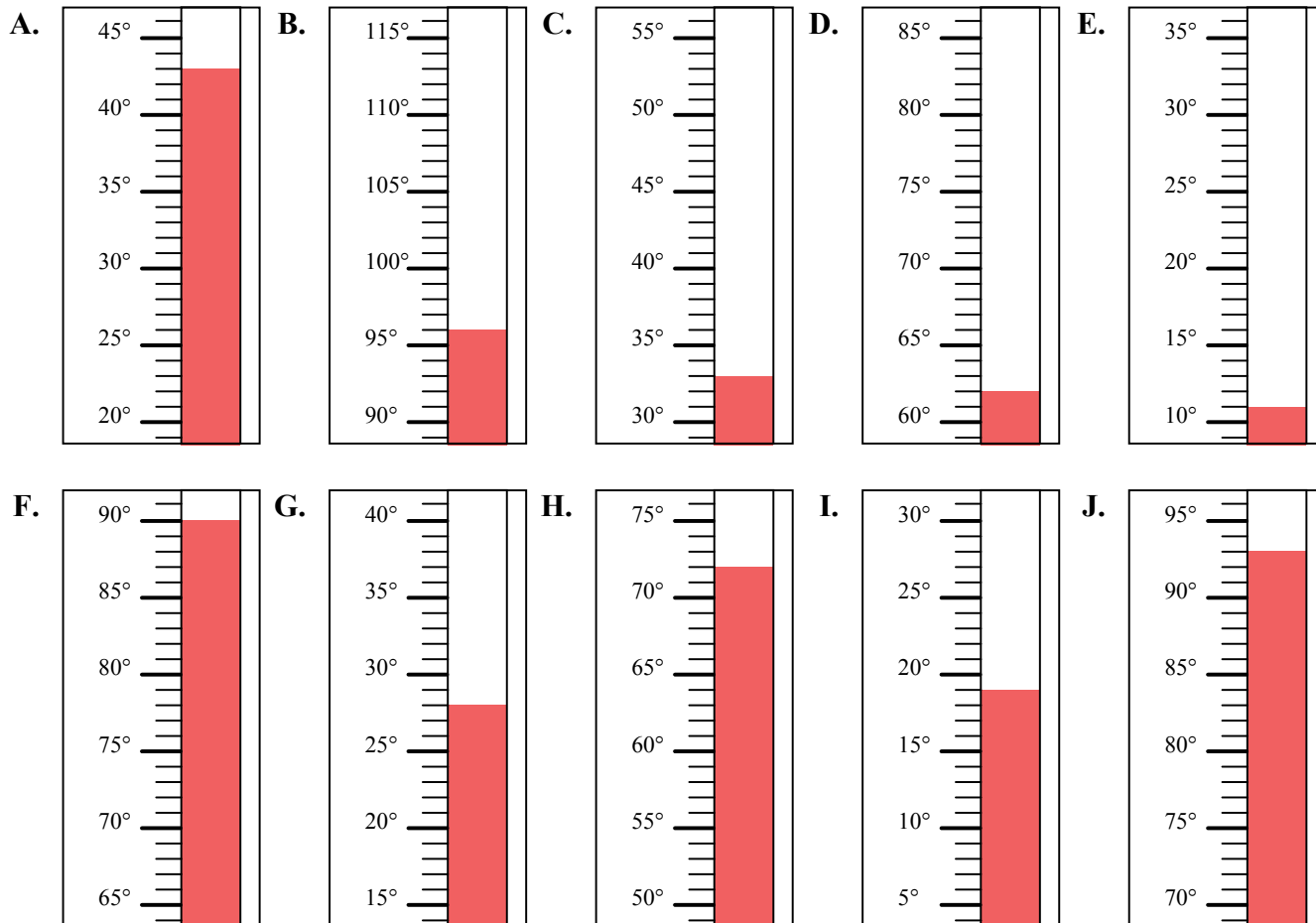
1. _____
2. _____
3. _____
4. _____
5. _____
6. _____
7. _____
8. _____
9. _____
10. _____





Определите под какой буквой находится правильный ответ.

- 1) Какой термометр наилучшим образом показывает температуру 62°?
- 2) Какой термометр наилучшим образом показывает температуру 43°?
- 3) Какой термометр наилучшим образом показывает температуру 72°?
- 4) Какой термометр наилучшим образом показывает температуру 33°?
- 5) Какой термометр наилучшим образом показывает температуру 11°?
- 6) Какой термометр наилучшим образом показывает температуру 93°?
- 7) Какой термометр наилучшим образом показывает температуру 96°?
- 8) Какой термометр наилучшим образом показывает температуру 19°?
- 9) Какой термометр наилучшим образом показывает температуру 28°?
- 10) Какой термометр наилучшим образом показывает температуру 90°?



ОТВЕТЫ

1. D
2. A
3. H
4. C
5. E
6. J
7. B
8. I
9. G
10. F

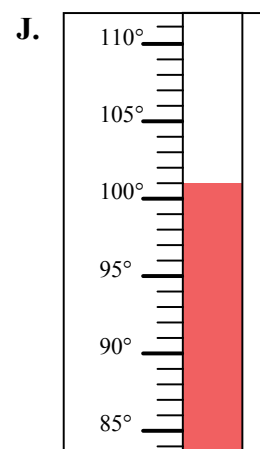
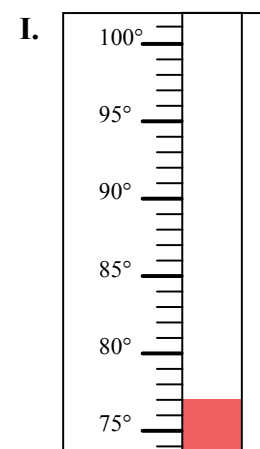

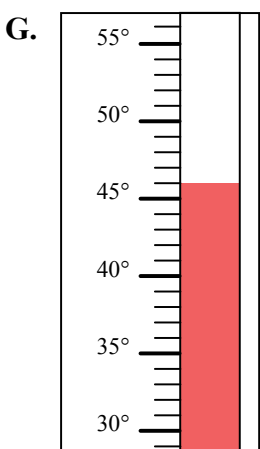
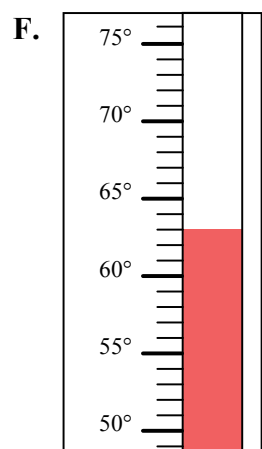
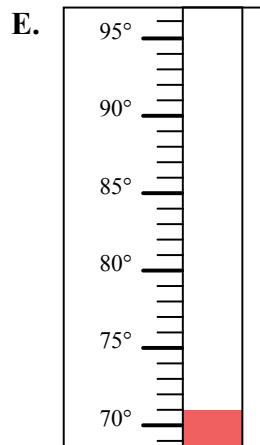
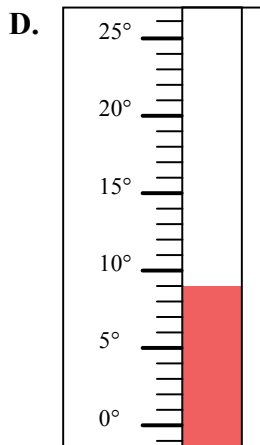
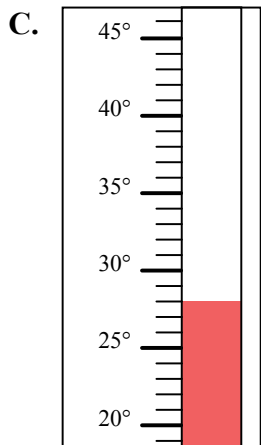
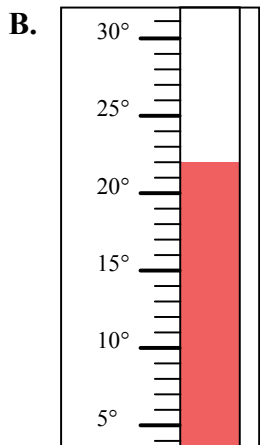
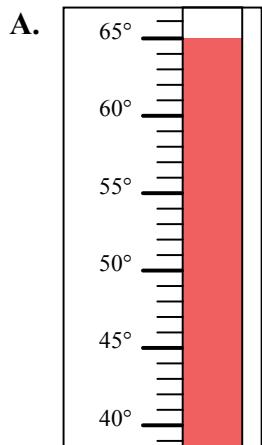


Определите под какой буквой находится правильный ответ.

ОТВЕТЫ

- 1) Какой термометр наилучшим образом показывает температуру 63° ?
- 2) Какой термометр наилучшим образом показывает температуру 46° ?
- 3) Какой термометр наилучшим образом показывает температуру 65° ?
- 4) Какой термометр наилучшим образом показывает температуру 110° ?
- 5) Какой термометр наилучшим образом показывает температуру 77° ?
- 6) Какой термометр наилучшим образом показывает температуру 22° ?
- 7) Какой термометр наилучшим образом показывает температуру 71° ?
- 8) Какой термометр наилучшим образом показывает температуру 28° ?
- 9) Какой термометр наилучшим образом показывает температуру 9° ?
- 10) Какой термометр наилучшим образом показывает температуру 101° ?

1. _____
2. _____
3. _____
4. _____
5. _____
6. _____
7. _____
8. _____
9. _____
10. _____





Определите под какой буквой находится правильный ответ.

ОТВЕТЫ

- 1) Какой термометр наилучшим образом показывает температуру 63°?
- 2) Какой термометр наилучшим образом показывает температуру 46°?
- 3) Какой термометр наилучшим образом показывает температуру 65°?
- 4) Какой термометр наилучшим образом показывает температуру 110°?
- 5) Какой термометр наилучшим образом показывает температуру 77°?
- 6) Какой термометр наилучшим образом показывает температуру 22°?
- 7) Какой термометр наилучшим образом показывает температуру 71°?
- 8) Какой термометр наилучшим образом показывает температуру 28°?
- 9) Какой термометр наилучшим образом показывает температуру 9°?
- 10) Какой термометр наилучшим образом показывает температуру 101°?

1. F

2. G

3. A

4. H

5. I

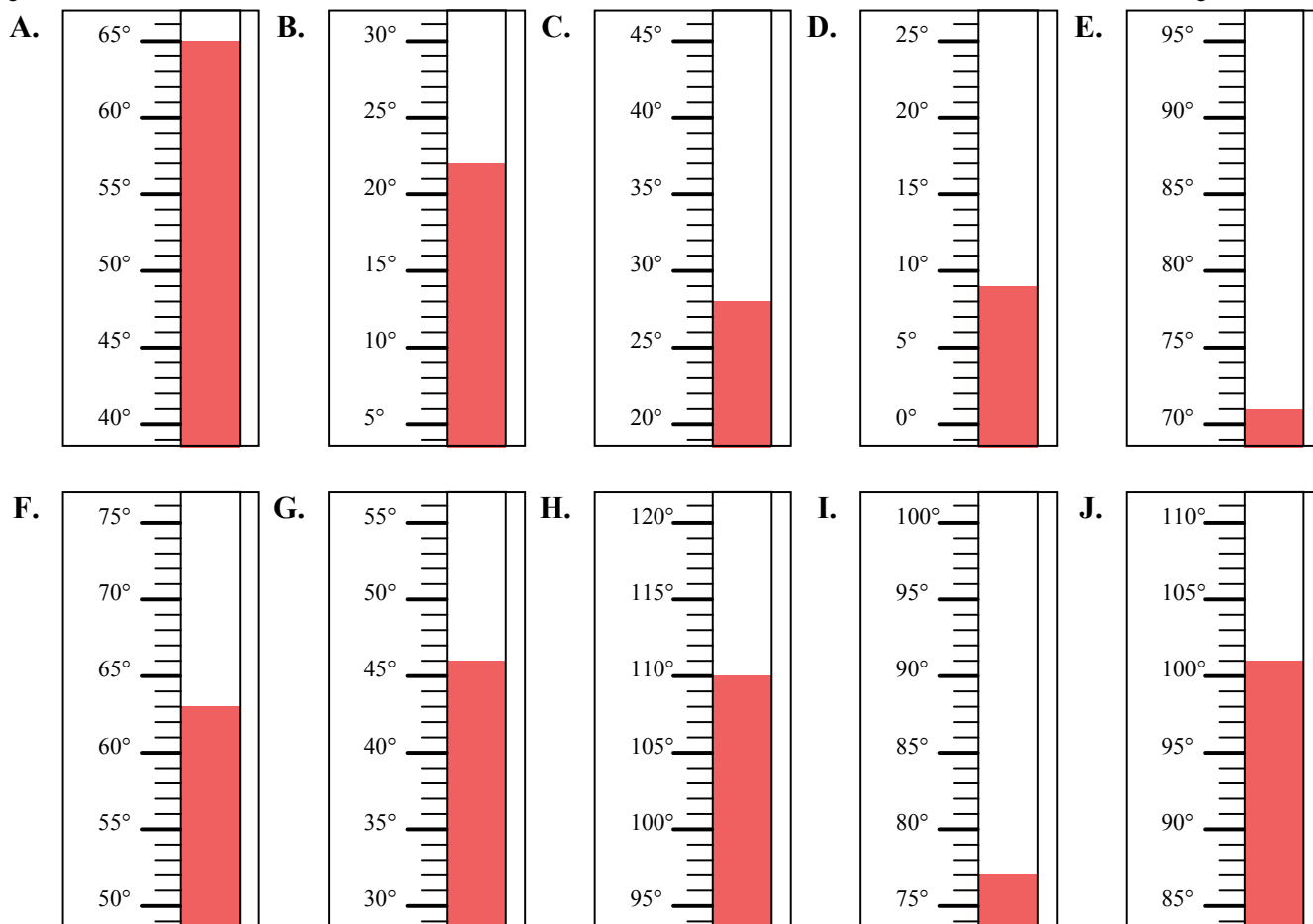
6. B

7. E

8. C

9. D

10. J



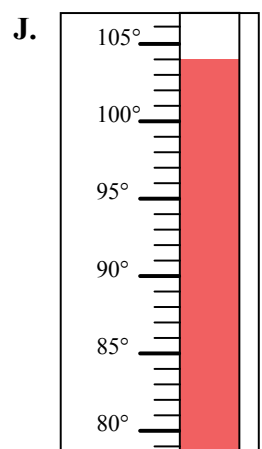
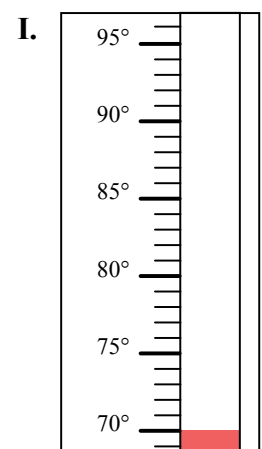
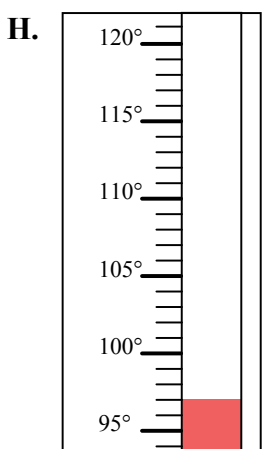
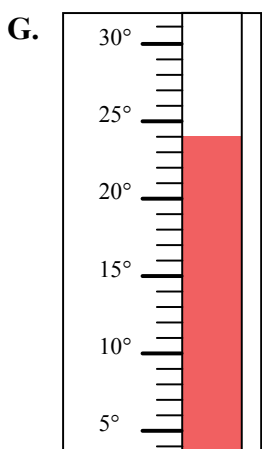
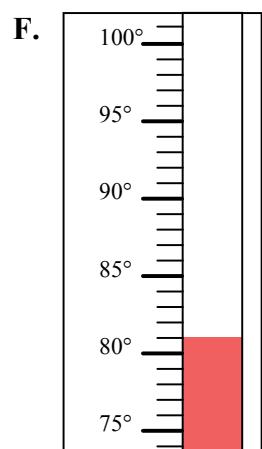
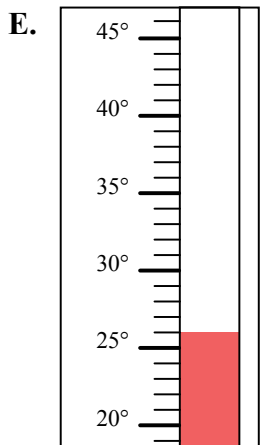
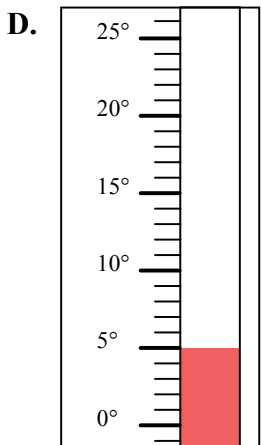
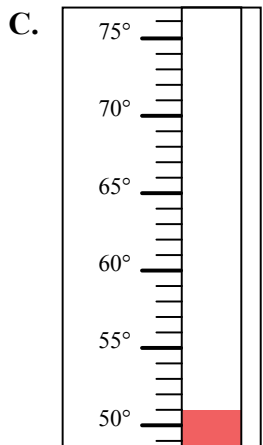
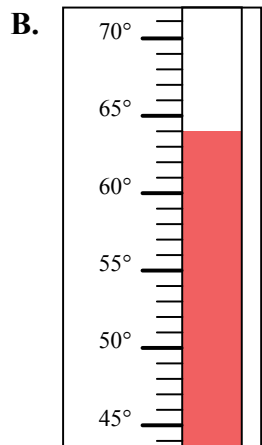
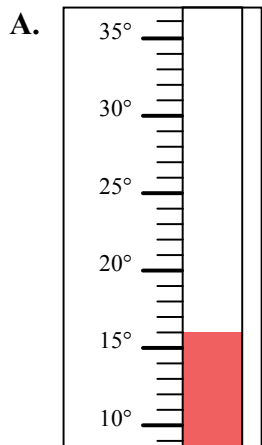


Определите под какой буквой находится правильный ответ.

ОТВЕТЫ

- 1) Какой термометр наилучшим образом показывает температуру 70°?
- 2) Какой термометр наилучшим образом показывает температуру 51°?
- 3) Какой термометр наилучшим образом показывает температуру 64°?
- 4) Какой термометр наилучшим образом показывает температуру 26°?
- 5) Какой термометр наилучшим образом показывает температуру 104°?
- 6) Какой термометр наилучшим образом показывает температуру 97°?
- 7) Какой термометр наилучшим образом показывает температуру 5°?
- 8) Какой термометр наилучшим образом показывает температуру 81°?
- 9) Какой термометр наилучшим образом показывает температуру 16°?
- 10) Какой термометр наилучшим образом показывает температуру 24°?

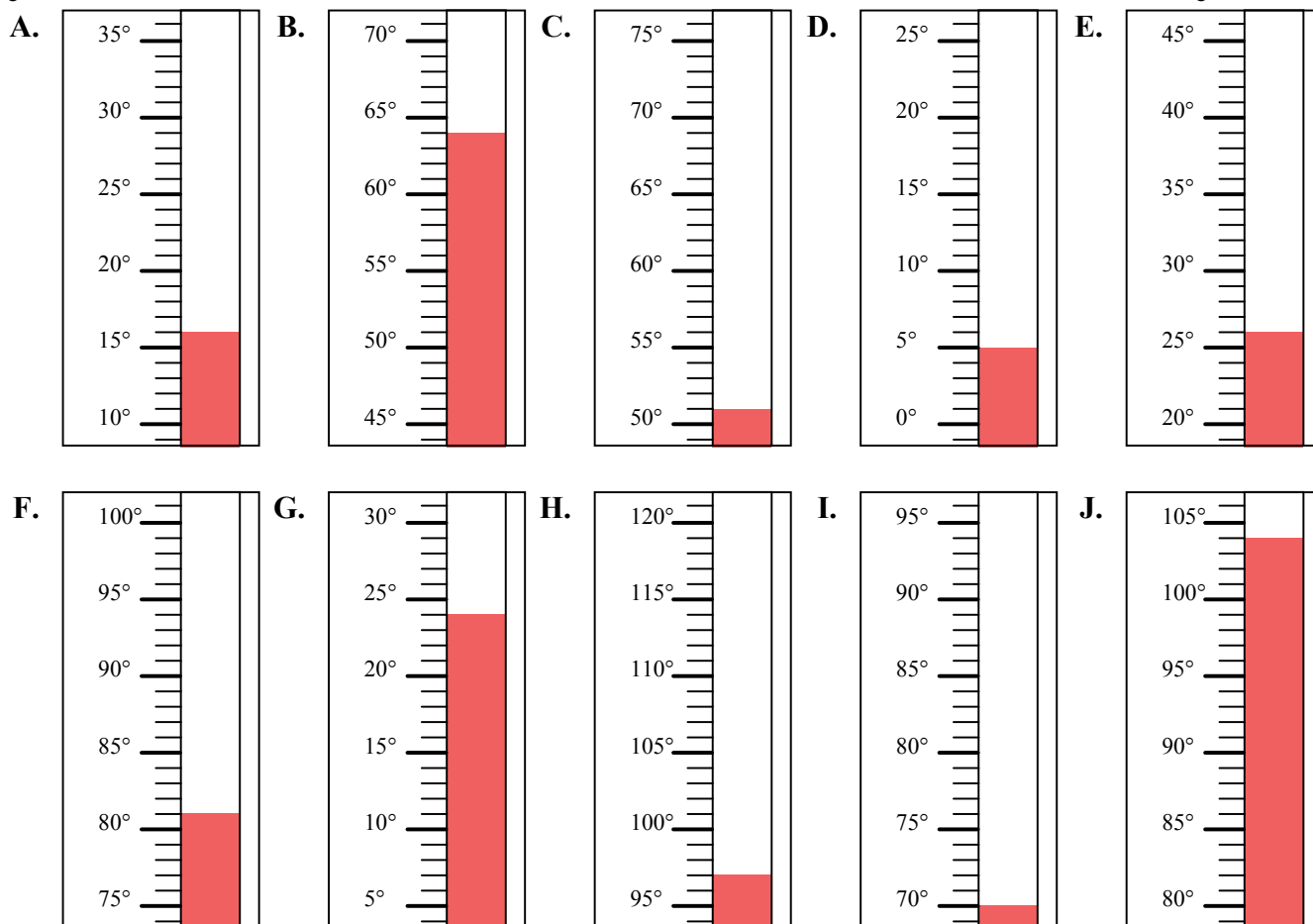
1. _____
2. _____
3. _____
4. _____
5. _____
6. _____
7. _____
8. _____
9. _____
10. _____





Определите под какой буквой находится правильный ответ.

- 1) Какой термометр наилучшим образом показывает температуру 70°?
- 2) Какой термометр наилучшим образом показывает температуру 51°?
- 3) Какой термометр наилучшим образом показывает температуру 64°?
- 4) Какой термометр наилучшим образом показывает температуру 26°?
- 5) Какой термометр наилучшим образом показывает температуру 104°?
- 6) Какой термометр наилучшим образом показывает температуру 97°?
- 7) Какой термометр наилучшим образом показывает температуру 5°?
- 8) Какой термометр наилучшим образом показывает температуру 81°?
- 9) Какой термометр наилучшим образом показывает температуру 16°?
- 10) Какой термометр наилучшим образом показывает температуру 24°?



ОТВЕТЫ

1. I
2. C
3. B
4. E
5. J
6. H
7. D
8. F
9. A
10. G

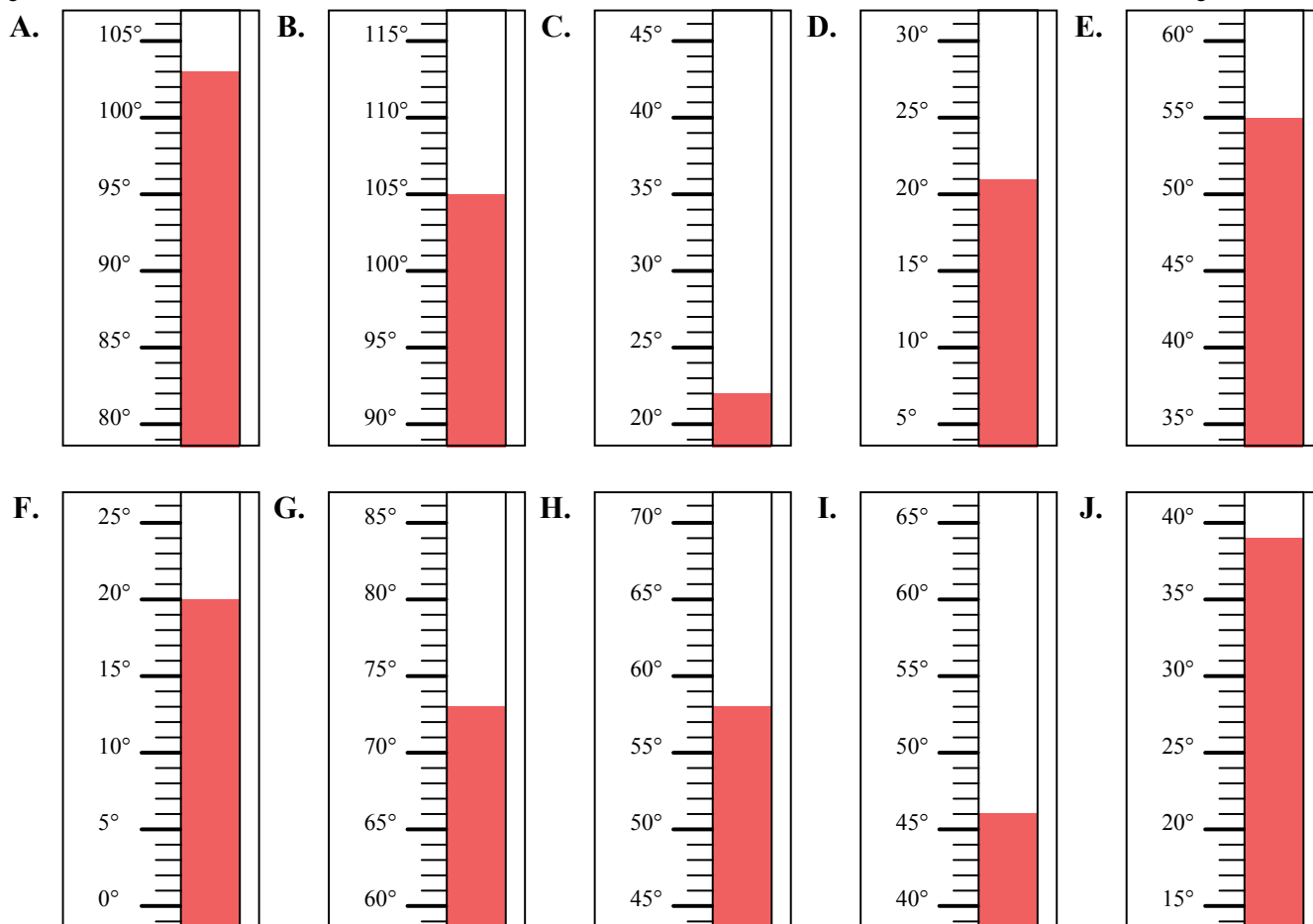


Определите под какой буквой находится правильный ответ.

ОТВЕТЫ

- 1) Какой термометр наилучшим образом показывает температуру 103° ?
- 2) Какой термометр наилучшим образом показывает температуру 73° ?
- 3) Какой термометр наилучшим образом показывает температуру 22° ?
- 4) Какой термометр наилучшим образом показывает температуру 21° ?
- 5) Какой термометр наилучшим образом показывает температуру 46° ?
- 6) Какой термометр наилучшим образом показывает температуру 20° ?
- 7) Какой термометр наилучшим образом показывает температуру 39° ?
- 8) Какой термометр наилучшим образом показывает температуру 55° ?
- 9) Какой термометр наилучшим образом показывает температуру 105° ?
- 10) Какой термометр наилучшим образом показывает температуру 58° ?

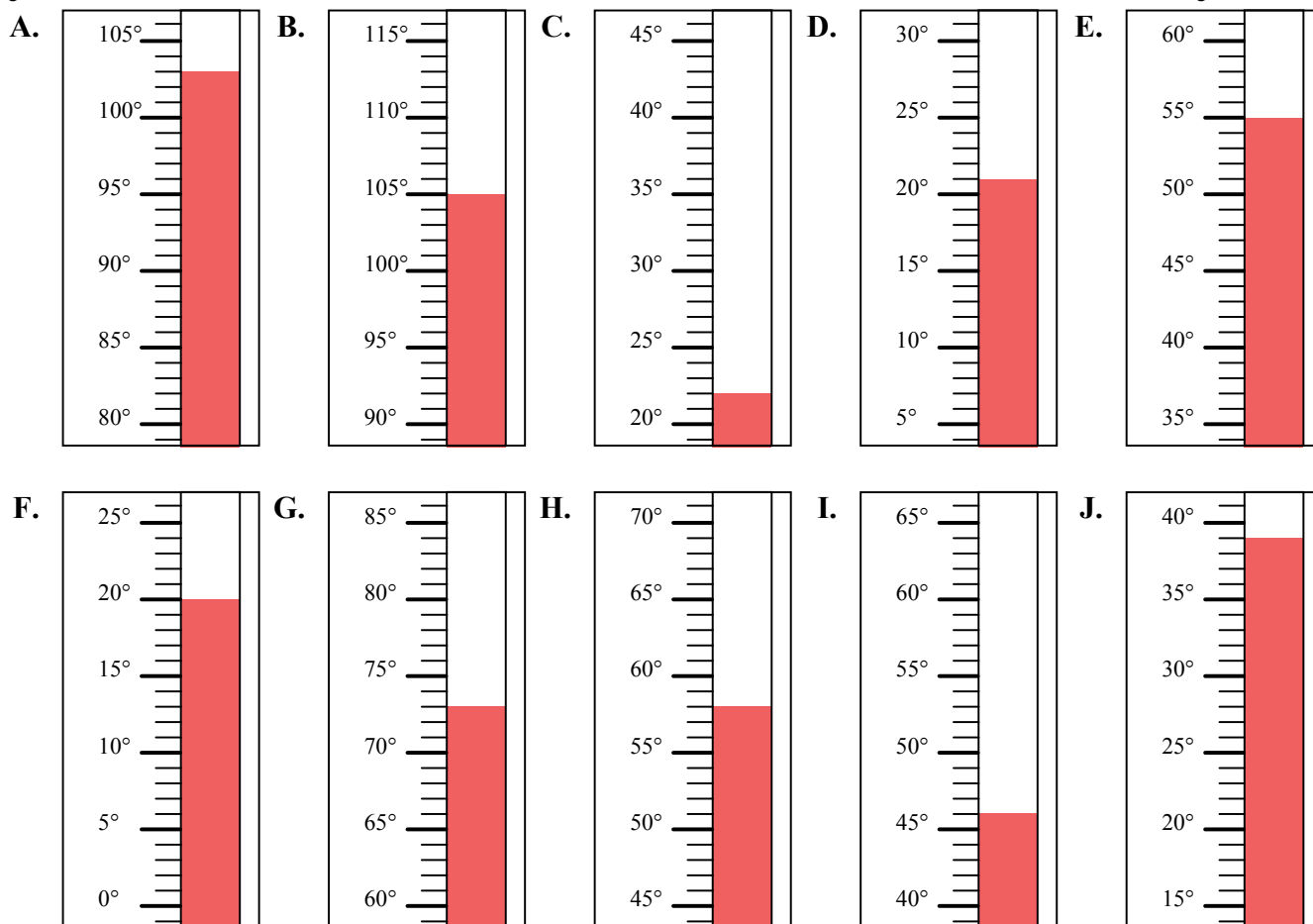
1. _____
2. _____
3. _____
4. _____
5. _____
6. _____
7. _____
8. _____
9. _____
10. _____





Определите под какой буквой находится правильный ответ.

- 1) Какой термометр наилучшим образом показывает температуру 103° ?
- 2) Какой термометр наилучшим образом показывает температуру 73° ?
- 3) Какой термометр наилучшим образом показывает температуру 22° ?
- 4) Какой термометр наилучшим образом показывает температуру 21° ?
- 5) Какой термометр наилучшим образом показывает температуру 46° ?
- 6) Какой термометр наилучшим образом показывает температуру 20° ?
- 7) Какой термометр наилучшим образом показывает температуру 39° ?
- 8) Какой термометр наилучшим образом показывает температуру 55° ?
- 9) Какой термометр наилучшим образом показывает температуру 105° ?
- 10) Какой термометр наилучшим образом показывает температуру 58° ?



ОТВЕТЫ

1. A
2. G
3. C
4. D
5. I
6. F
7. J
8. E
9. B
10. H