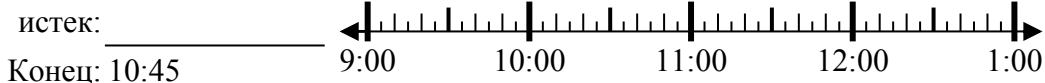




Решите каждую задачу.

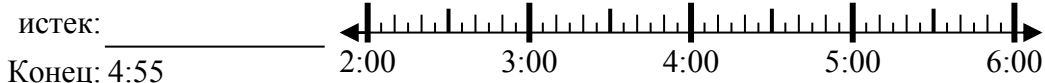
Ответы

1) Начало: 9:20



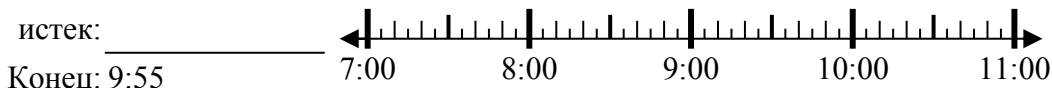
1. _____

2) Начало: 2:00



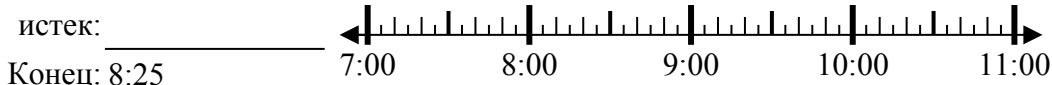
2. _____

3) Начало: 7:40



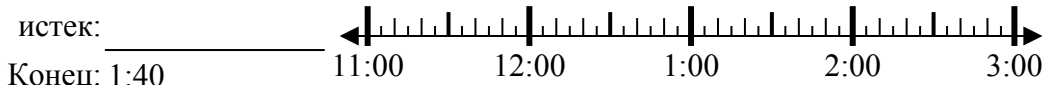
3. _____

4) Начало: 7:15



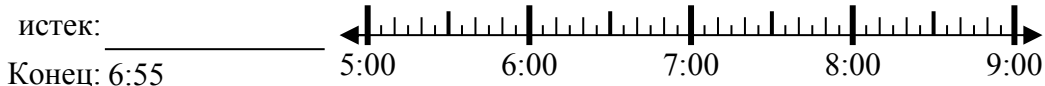
4. _____

5) Начало: 11:15



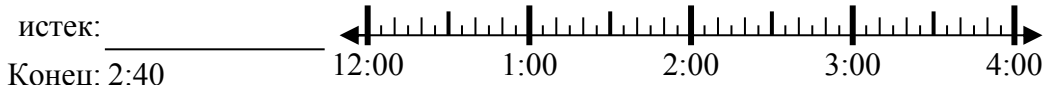
5. _____

6) Начало: 5:30



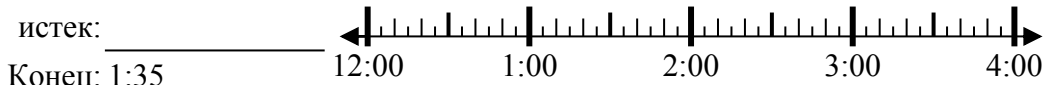
6. _____

7) Начало: 12:00



7. _____

8) Начало: 12:15



8. _____



Решите каждую задачу.

1) Начало: 9:20

истек: **1 ч и 25 мин**

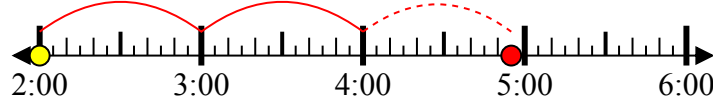
Конец: 10:45



2) Начало: 2:00

истек: **2 ч и 55 мин**

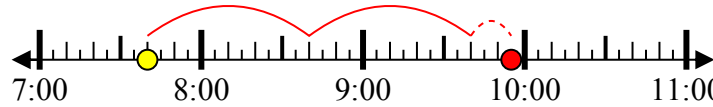
Конец: 4:55



3) Начало: 7:40

истек: **2 ч и 15 мин**

Конец: 9:55



4) Начало: 7:15

истек: **1 ч и 10 мин**

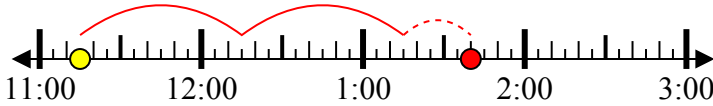
Конец: 8:25



5) Начало: 11:15

истек: **2 ч и 25 мин**

Конец: 1:40



6) Начало: 5:30

истек: **1 ч и 25 мин**

Конец: 6:55



7) Начало: 12:00

истек: **2 ч и 40 мин**

Конец: 2:40



8) Начало: 12:15

истек: **1 ч и 20 мин**

Конец: 1:35



ОТВЕТЫ

1. **1 ч и 25 мин**

2. **2 ч и 55 мин**

3. **2 ч и 15 мин**

4. **1 ч и 10 мин**

5. **2 ч и 25 мин**

6. **1 ч и 25 мин**

7. **2 ч и 40 мин**

8. **1 ч и 20 мин**