



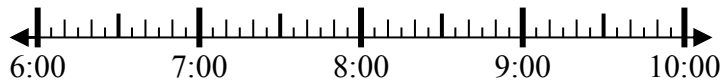
Решите каждую задачу.

**Ответы**

1) Начало: 6:45

истек: \_\_\_\_\_

Конец: 7:55



1. \_\_\_\_\_

2) Начало: 6:25

истек: \_\_\_\_\_

Конец: 9:05



2. \_\_\_\_\_

3) Начало: 1:10

истек: \_\_\_\_\_

Конец: 3:00



3. \_\_\_\_\_

4) Начало: 11:15

истек: \_\_\_\_\_

Конец: 1:00



4. \_\_\_\_\_

5) Начало: 3:25

истек: \_\_\_\_\_

Конец: 5:35



5. \_\_\_\_\_

6) Начало: 3:20

истек: \_\_\_\_\_

Конец: 5:55

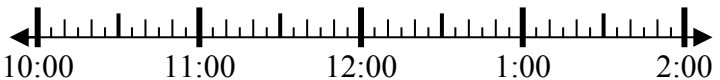


6. \_\_\_\_\_

7) Начало: 10:35

истек: \_\_\_\_\_

Конец: 12:25

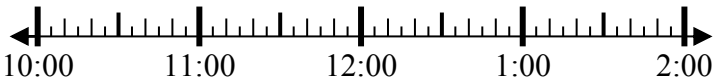


7. \_\_\_\_\_

8) Начало: 10:00

истек: \_\_\_\_\_

Конец: 11:30



8. \_\_\_\_\_



Решите каждую задачу.

1) Начало: 6:45

истек: **1 ч и 10 мин**

Конец: 7:55



2) Начало: 6:25

истек: **2 ч и 40 мин**

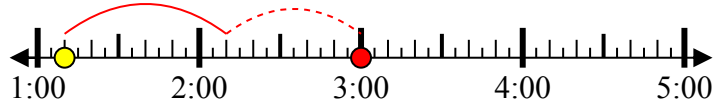
Конец: 9:05



3) Начало: 1:10

истек: **1 ч и 50 мин**

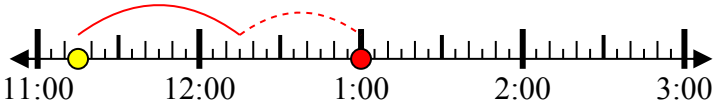
Конец: 3:00



4) Начало: 11:15

истек: **1 ч и 45 мин**

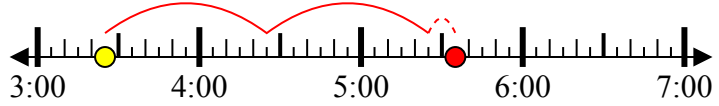
Конец: 1:00



5) Начало: 3:25

истек: **2 ч и 10 мин**

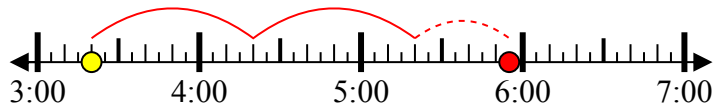
Конец: 5:35



6) Начало: 3:20

истек: **2 ч и 35 мин**

Конец: 5:55



7) Начало: 10:35

истек: **1 ч и 50 мин**

Конец: 12:25



8) Начало: 10:00

истек: **1 ч и 30 мин**

Конец: 11:30



**ОТВЕТЫ**

1. **1 ч и 10 мин**

2. **2 ч и 40 мин**

3. **1 ч и 50 мин**

4. **1 ч и 45 мин**

5. **2 ч и 10 мин**

6. **2 ч и 35 мин**

7. **1 ч и 50 мин**

8. **1 ч и 30 мин**