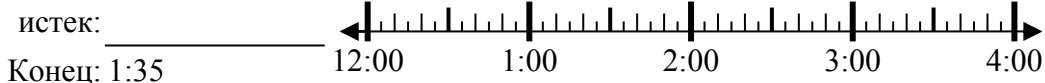




Решите каждую задачу.

**Ответы**

1) Начало: 12:10



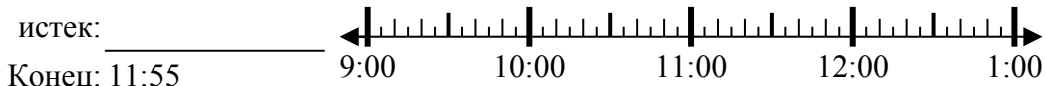
1. \_\_\_\_\_

2) Начало: 6:40



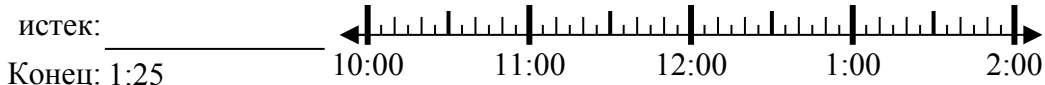
2. \_\_\_\_\_

3) Начало: 9:05



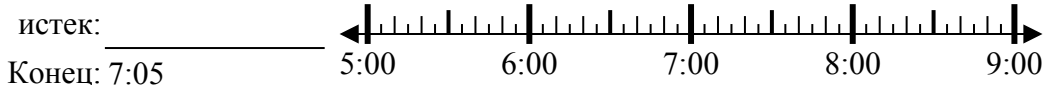
3. \_\_\_\_\_

4) Начало: 10:45



4. \_\_\_\_\_

5) Начало: 5:35



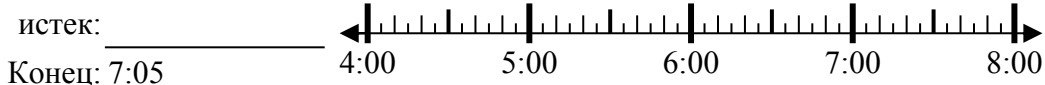
5. \_\_\_\_\_

6) Начало: 8:15



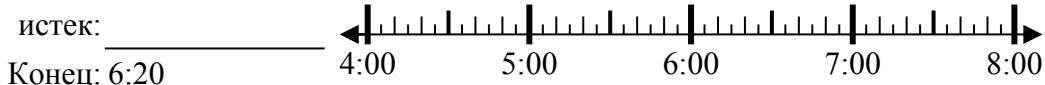
6. \_\_\_\_\_

7) Начало: 4:10



7. \_\_\_\_\_

8) Начало: 4:00



8. \_\_\_\_\_

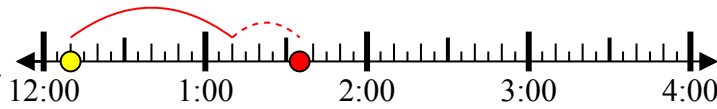


Решите каждую задачу.

1) Начало: 12:10

истек: **1 ч и 25 мин**

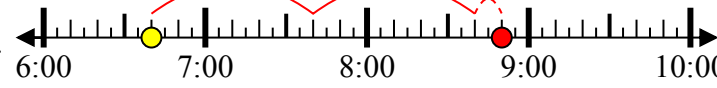
Конец: 1:35



2) Начало: 6:40

истек: **2 ч и 10 мин**

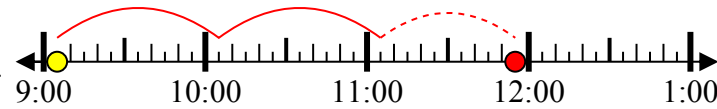
Конец: 8:50



3) Начало: 9:05

истек: **2 ч и 50 мин**

Конец: 11:55



4) Начало: 10:45

истек: **2 ч и 40 мин**

Конец: 1:25



5) Начало: 5:35

истек: **1 ч и 30 мин**

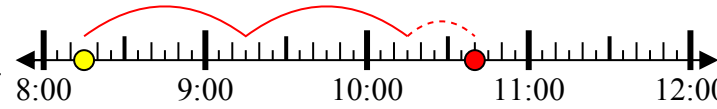
Конец: 7:05



6) Начало: 8:15

истек: **2 ч и 25 мин**

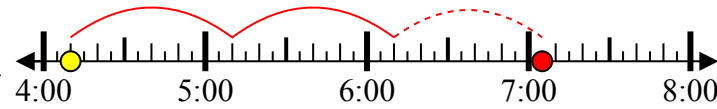
Конец: 10:40



7) Начало: 4:10

истек: **2 ч и 55 мин**

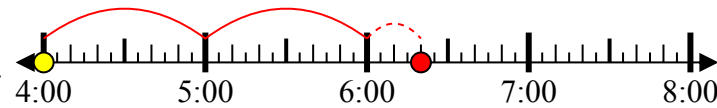
Конец: 7:05



8) Начало: 4:00

истек: **2 ч и 20 мин**

Конец: 6:20



**ОТВЕТЫ**

1. **1 ч и 25 мин**

2. **2 ч и 10 мин**

3. **2 ч и 50 мин**

4. **2 ч и 40 мин**

5. **1 ч и 30 мин**

6. **2 ч и 25 мин**

7. **2 ч и 55 мин**

8. **2 ч и 20 мин**