



Решите каждую задачу.

**Ответы**

1) Начало: 9:35



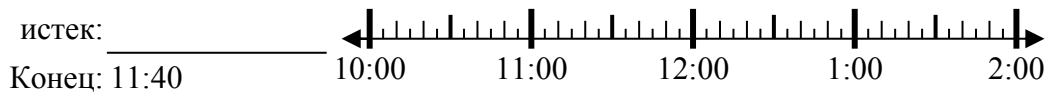
1. \_\_\_\_\_

2) Начало: 12:50



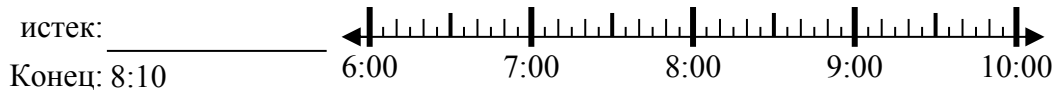
2. \_\_\_\_\_

3) Начало: 10:15



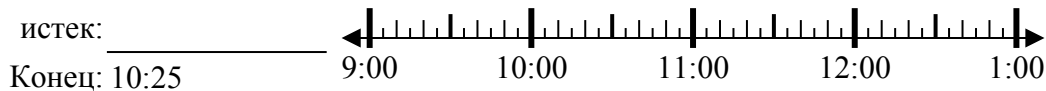
3. \_\_\_\_\_

4) Начало: 6:25



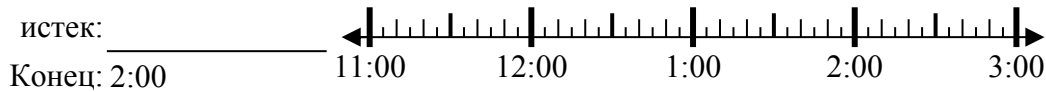
4. \_\_\_\_\_

5) Начало: 9:10



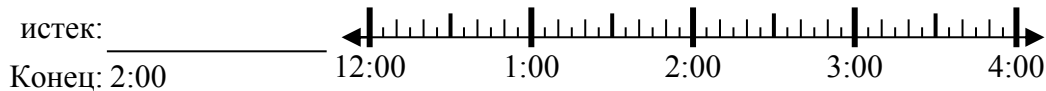
5. \_\_\_\_\_

6) Начало: 11:45



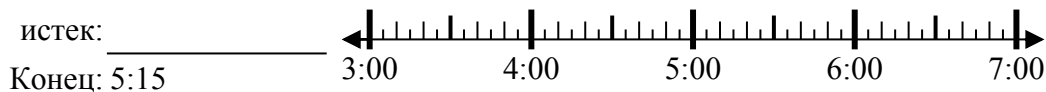
6. \_\_\_\_\_

7) Начало: 12:20



7. \_\_\_\_\_

8) Начало: 3:35



8. \_\_\_\_\_

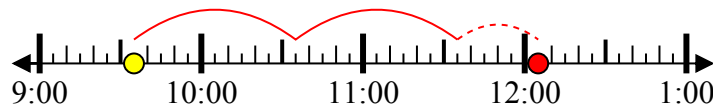


Решите каждую задачу.

1) Начало: 9:35

истек: 2 ч и 30 мин

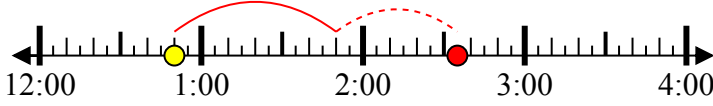
Конец: 12:05



2) Начало: 12:50

истек: 1 ч и 45 мин

Конец: 2:35



3) Начало: 10:15

истек: 1 ч и 25 мин

Конец: 11:40



4) Начало: 6:25

истек: 1 ч и 45 мин

Конец: 8:10



5) Начало: 9:10

истек: 1 ч и 15 мин

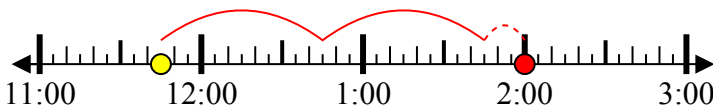
Конец: 10:25



6) Начало: 11:45

истек: 2 ч и 15 мин

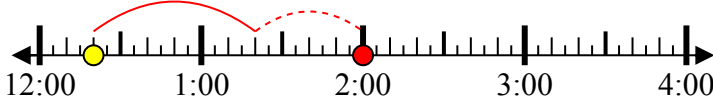
Конец: 2:00



7) Начало: 12:20

истек: 1 ч и 40 мин

Конец: 2:00



8) Начало: 3:35

истек: 1 ч и 40 мин

Конец: 5:15



**ОТВЕТЫ**

1. 2 ч и 30 мин

2. 1 ч и 45 мин

3. 1 ч и 25 мин

4. 1 ч и 45 мин

5. 1 ч и 15 мин

6. 2 ч и 15 мин

7. 1 ч и 40 мин

8. 1 ч и 40 мин