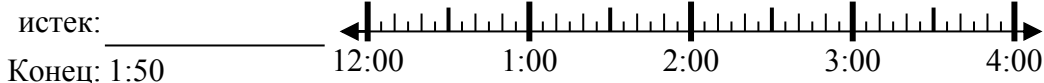




Решите каждую задачу.

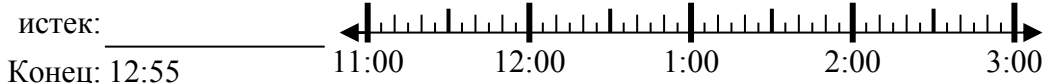
**Ответы**

1) Начало: 12:15



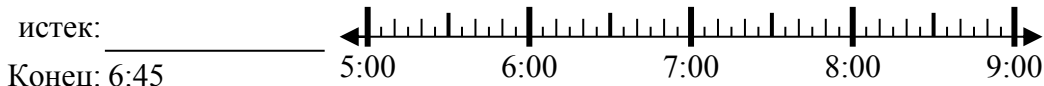
1. \_\_\_\_\_

2) Начало: 11:30



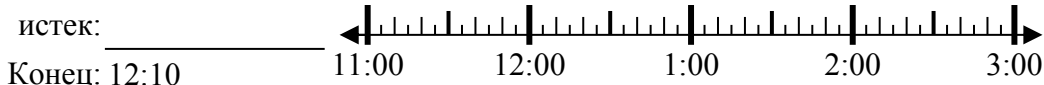
2. \_\_\_\_\_

3) Начало: 5:10



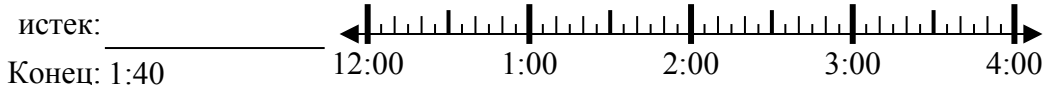
3. \_\_\_\_\_

4) Начало: 11:00



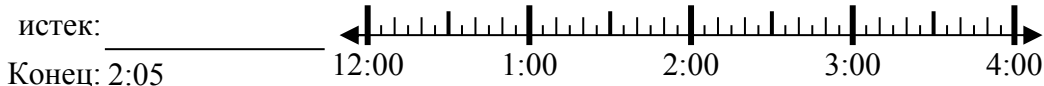
4. \_\_\_\_\_

5) Начало: 12:30



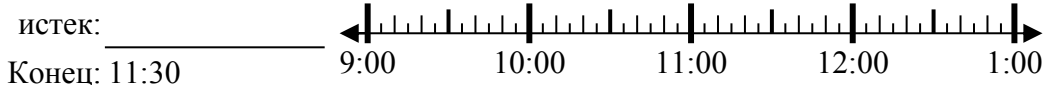
5. \_\_\_\_\_

6) Начало: 12:40



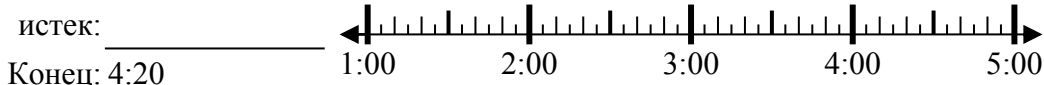
6. \_\_\_\_\_

7) Начало: 9:40



7. \_\_\_\_\_

8) Начало: 1:35



8. \_\_\_\_\_

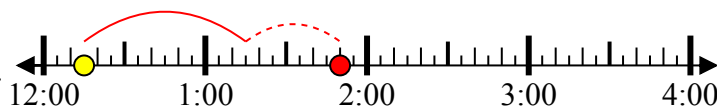


Решите каждую задачу.

1) Начало: 12:15

истек: **1 ч и 35 мин**

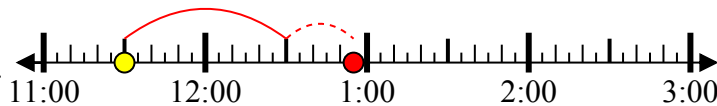
Конец: 1:50



2) Начало: 11:30

истек: **1 ч и 25 мин**

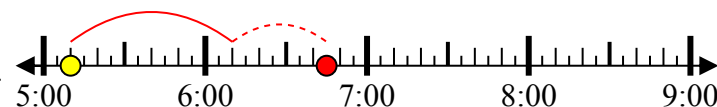
Конец: 12:55



3) Начало: 5:10

истек: **1 ч и 35 мин**

Конец: 6:45



4) Начало: 11:00

истек: **1 ч и 10 мин**

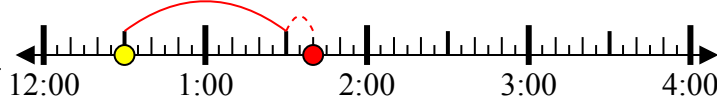
Конец: 12:10



5) Начало: 12:30

истек: **1 ч и 10 мин**

Конец: 1:40



6) Начало: 12:40

истек: **1 ч и 25 мин**

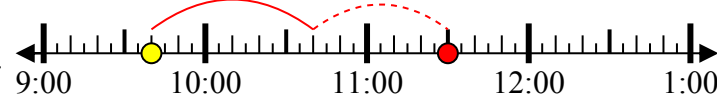
Конец: 2:05



7) Начало: 9:40

истек: **1 ч и 50 мин**

Конец: 11:30



8) Начало: 1:35

истек: **2 ч и 45 мин**

Конец: 4:20



**ОТВЕТЫ**

1. **1 ч и 35 мин**

2. **1 ч и 25 мин**

3. **1 ч и 35 мин**

4. **1 ч и 10 мин**

5. **1 ч и 10 мин**

6. **1 ч и 25 мин**

7. **1 ч и 50 мин**

8. **2 ч и 45 мин**