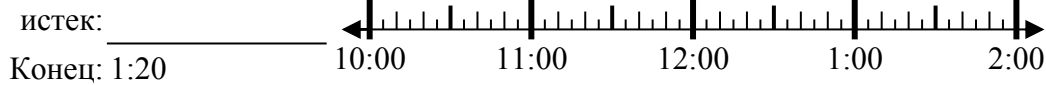




Решите каждую задачу.

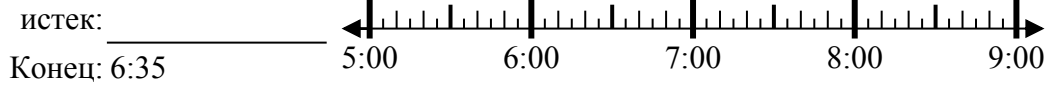
Ответы

1) Начало: 10:50



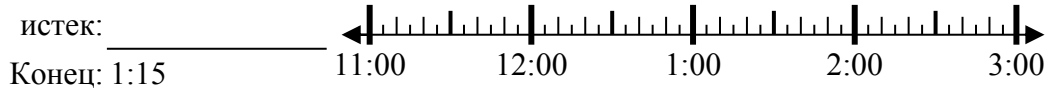
1. _____

2) Начало: 5:10



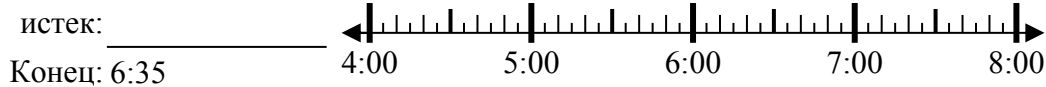
2. _____

3) Начало: 11:40



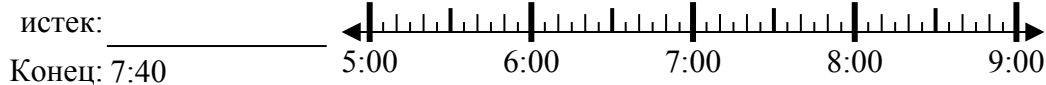
3. _____

4) Начало: 4:20



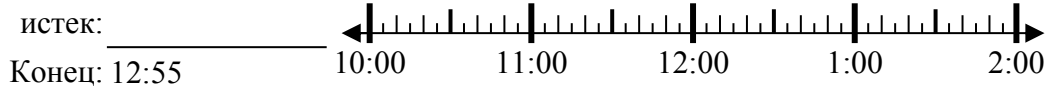
4. _____

5) Начало: 5:15



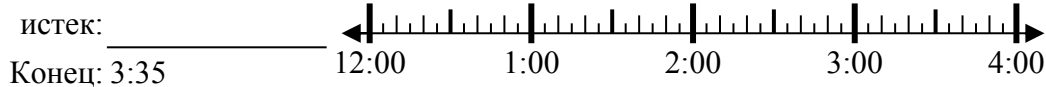
5. _____

6) Начало: 10:20



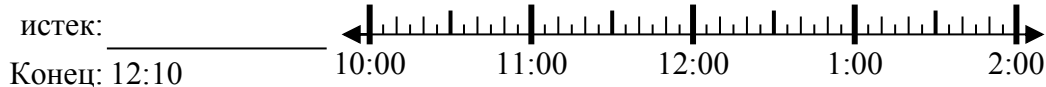
6. _____

7) Начало: 12:45



7. _____

8) Начало: 10:40



8. _____

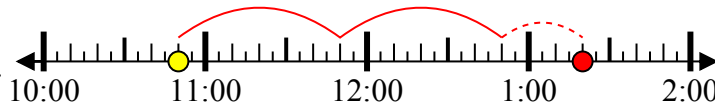


Решите каждую задачу.

1) Начало: 10:50

истек: **2 ч и 30 мин**

Конец: 1:20



2) Начало: 5:10

истек: **1 ч и 25 мин**

Конец: 6:35



3) Начало: 11:40

истек: **1 ч и 35 мин**

Конец: 1:15



4) Начало: 4:20

истек: **2 ч и 15 мин**

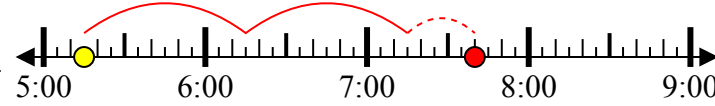
Конец: 6:35



5) Начало: 5:15

истек: **2 ч и 25 мин**

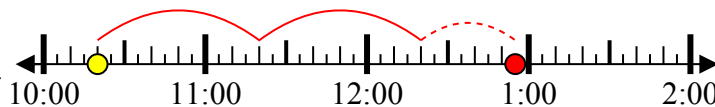
Конец: 7:40



6) Начало: 10:20

истек: **2 ч и 35 мин**

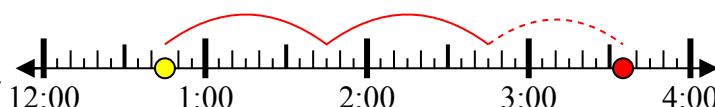
Конец: 12:55



7) Начало: 12:45

истек: **2 ч и 50 мин**

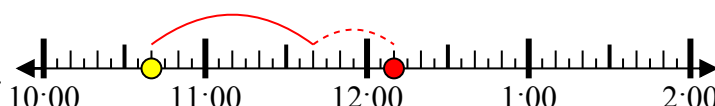
Конец: 3:35



8) Начало: 10:40

истек: **1 ч и 30 мин**

Конец: 12:10



ОТВЕТЫ

1. **2 ч и 30 мин**

2. **1 ч и 25 мин**

3. **1 ч и 35 мин**

4. **2 ч и 15 мин**

5. **2 ч и 25 мин**

6. **2 ч и 35 мин**

7. **2 ч и 50 мин**

8. **1 ч и 30 мин**