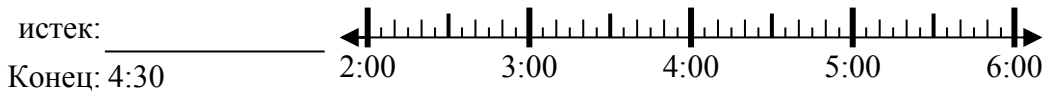




Решите каждую задачу.

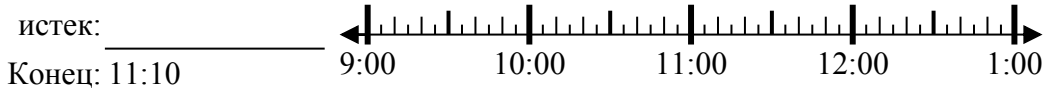
Ответы

1) Начало: 2:05



1. _____

2) Начало: 9:35



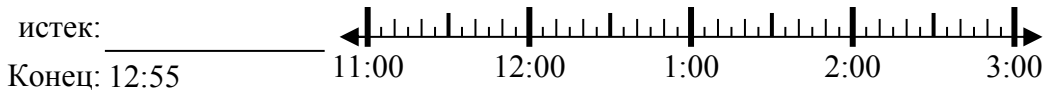
2. _____

3) Начало: 12:20



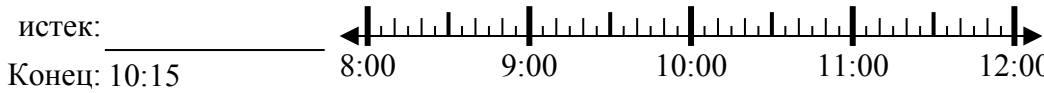
3. _____

4) Начало: 11:15



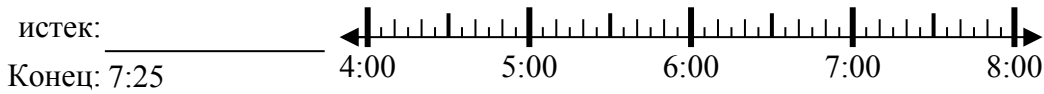
4. _____

5) Начало: 8:25



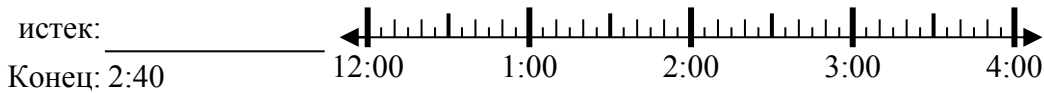
5. _____

6) Начало: 4:50



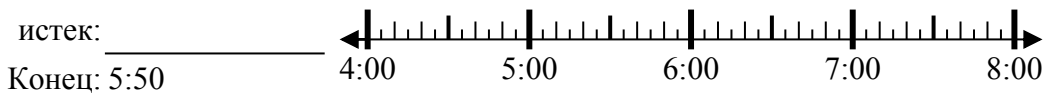
6. _____

7) Начало: 12:05



7. _____

8) Начало: 4:05



8. _____

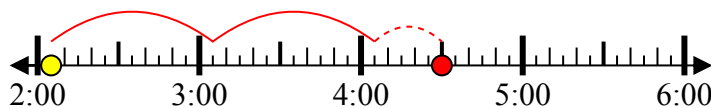


Решите каждую задачу.

1) Начало: 2:05

истек: **2 ч и 25 мин**

Конец: 4:30



2) Начало: 9:35

истек: **1 ч и 35 мин**

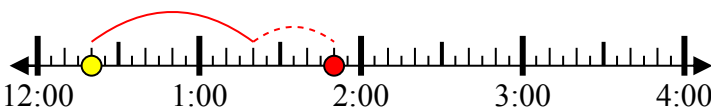
Конец: 11:10



3) Начало: 12:20

истек: **1 ч и 30 мин**

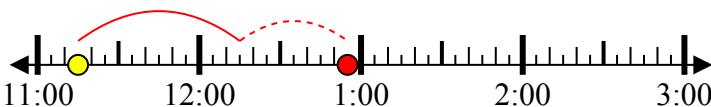
Конец: 1:50



4) Начало: 11:15

истек: **1 ч и 40 мин**

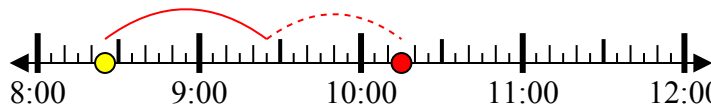
Конец: 12:55



5) Начало: 8:25

истек: **1 ч и 50 мин**

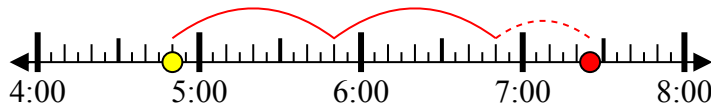
Конец: 10:15



6) Начало: 4:50

истек: **2 ч и 35 мин**

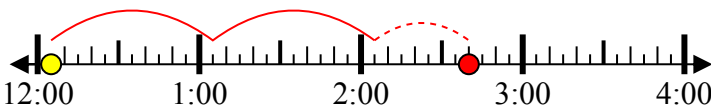
Конец: 7:25



7) Начало: 12:05

истек: **2 ч и 35 мин**

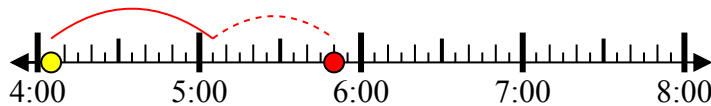
Конец: 2:40



8) Начало: 4:05

истек: **1 ч и 45 мин**

Конец: 5:50



ОТВЕТЫ

1. **2 ч и 25 мин**

2. **1 ч и 35 мин**

3. **1 ч и 30 мин**

4. **1 ч и 40 мин**

5. **1 ч и 50 мин**

6. **2 ч и 35 мин**

7. **2 ч и 35 мин**

8. **1 ч и 45 мин**