



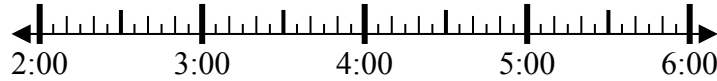
Решите каждую задачу.

Ответы

1) Начало: 2:15

истек: 1 ч и 40 мин

Конец: _____

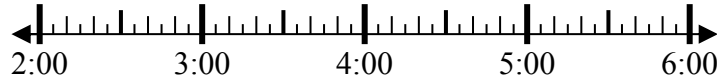


1. _____

2) Начало: 2:10

истек: 2 ч и 45 мин

Конец: _____

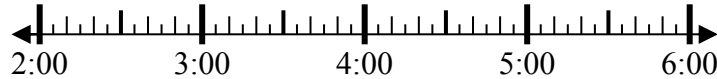


2. _____

3) Начало: 2:45

истек: 2 ч и 10 мин

Конец: _____



3. _____

4) Начало: 2:20

истек: 1 ч и 20 мин

Конец: _____



4. _____

5) Начало: 11:05

истек: 2 ч и 25 мин

Конец: _____

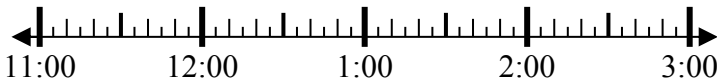


5. _____

6) Начало: 11:05

истек: 2 ч и 20 мин

Конец: _____

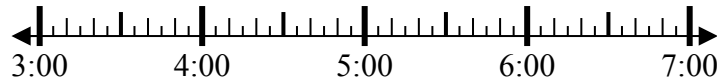


6. _____

7) Начало: 3:45

истек: 2 ч и 20 мин

Конец: _____

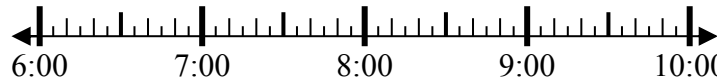


7. _____

8) Начало: 6:20

истек: 1 ч и 30 мин

Конец: _____



8. _____

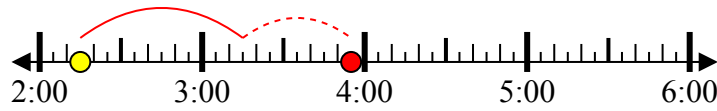


Решите каждую задачу.

1) Начало: 2:15

истек: 1 ч и 40 мин

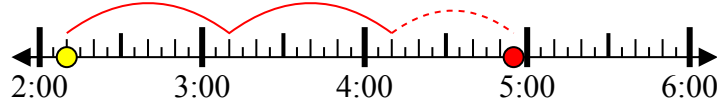
Конец: 3:55



2) Начало: 2:10

истек: 2 ч и 45 мин

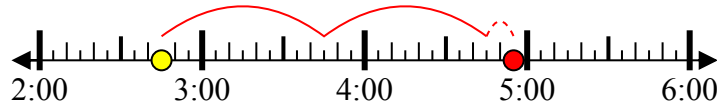
Конец: 4:55



3) Начало: 2:45

истек: 2 ч и 10 мин

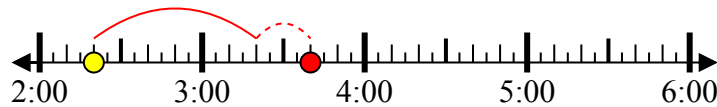
Конец: 4:55



4) Начало: 2:20

истек: 1 ч и 20 мин

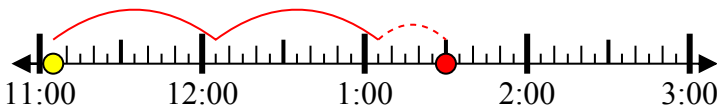
Конец: 3:40



5) Начало: 11:05

истек: 2 ч и 25 мин

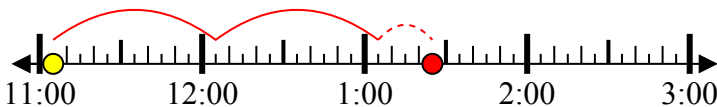
Конец: 1:30



6) Начало: 11:05

истек: 2 ч и 20 мин

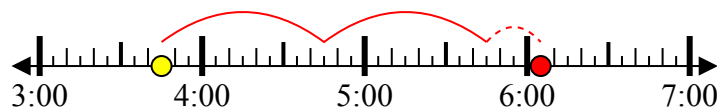
Конец: 1:25



7) Начало: 3:45

истек: 2 ч и 20 мин

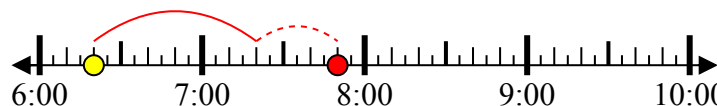
Конец: 6:05



8) Начало: 6:20

истек: 1 ч и 30 мин

Конец: 7:50



Ответы

1. 3:55

2. 4:55

3. 4:55

4. 3:40

5. 1:30

6. 1:25

7. 6:05

8. 7:50